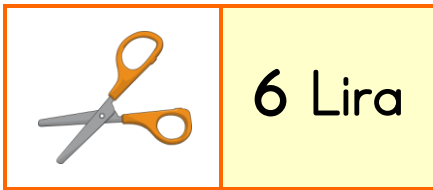


# 1. SINIF MATEMATİK - 2. DÖNEM TEKRAR ETKİNLİĞİ - 2


Değeri fazla olan parayı yeşile, az olanı mora boyayınız.



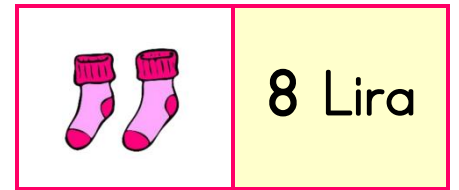
Satış fiyatı verilen eşyalarla ilgili problemleri çözünüz.



6 Lira



7 Lira



8 Lira

Toka ve makas alırsam kaç lira  
ödemem gerekir?



Çözüm:

Çorap ve toka alırsam kaç lira  
ödemem gerekir?



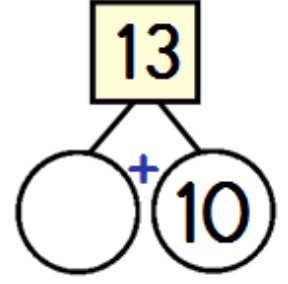
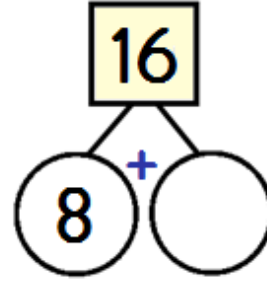
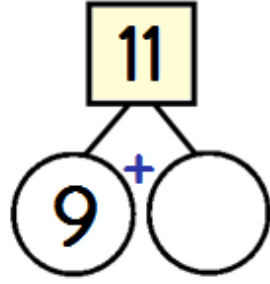
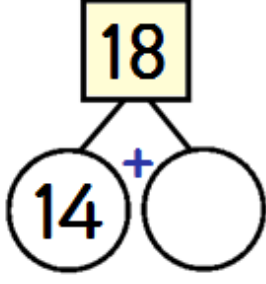
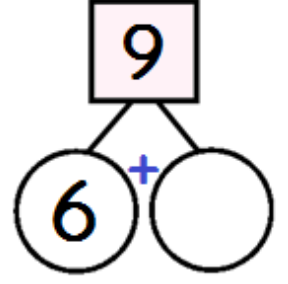
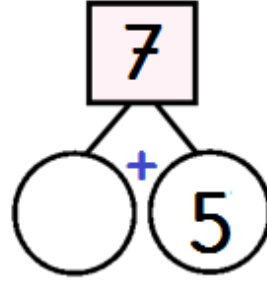
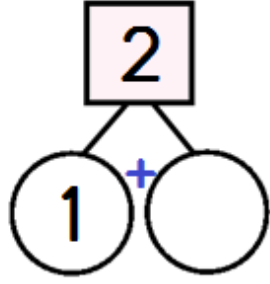
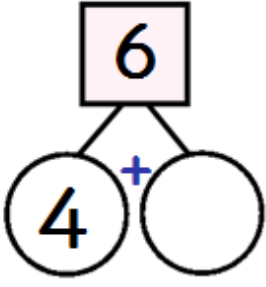
Çözüm:

Makas ve çorap alırsam kaç lira  
ödemem gerekir?



Çözüm:

✚ Verilmeyen toplananları dairelerin içine yazınız.



✚ Toplama işlemlerini örnekteki gibi zihinden yapınız.

--	--	--

✚ Sonucu 10 olan işlemlerin kutularını boyayınız.

$6 + 3$

$3 + 7$

$1 + 9$

$5 + 4$

$8 + 2$

$4 + 4$

$0 + 8$

$6 + 1$

$4 + 6$

$3 + 3$

$5 + 2$

$0 + 10$

$2 + 2$

$7 + 3$

$2 + 8$

$5 + 5$

✚ Çıkarma işlemlerini örnekteki gibi zihinden yapınız.

$11 - 6 = \underline{\quad}$

$11 - \square = \underline{\quad}$

$10 - \square = \underline{\quad}$

Diagram showing the decomposition of 11 into 1 and 10, and 6 into 1 and 5. The 1 and 10 are in purple boxes, and the 1 and 5 are in green boxes. The 11 - 6 = ... equation is circled in red.

$16 - 8 = \underline{\quad}$

$16 - \square = \underline{\quad}$

$10 - \square = \underline{\quad}$

Diagram showing the decomposition of 16 into 10 and 6, and 8 into 10 and 2. The 10 and 6 are in purple boxes, and the 10 and 2 are in green boxes. The 16 - 8 = ... equation is circled in red.

✚ Sonucu 10 olan işlemlerin kutularını boyayınız.

$16 - 3$

$13 - 7$

$15 - 5$

$13 - 3$

$18 - 2$

$14 - 4$

$11 - 1$

$12 - 4$

$17 - 3$

$18 - 8$

$16 - 6$

$19 - 8$

$12 - 2$

$19 - 9$

$13 - 5$

$17 - 7$

✚ Toplama-çıkarma gerektiren problemleri çözünüz.

1

Benim 11 şekerim vardı. 3 şeker de dayım verdi. Şimdi kaç şekerim oldu?

→

2	Hasan sabah 6 erik, akşam 4 erik yedi. Hasan toplam kaç erik yedi?	→
3	Bir ağaçta 13 kuş vardı. Ağaca 7 kuş daha kondu. Ağaçta toplam kaç kuş oldu?	→
4	Kitabım 15 sayfadır. 6 sayfasını okudum. Okunacak kaç sayfa kaldı?	→
5	Bakkaldan 12 yumurta aldım. Annem 8 yumurtayı pişirdi. Geriye kaç yumurta kaldı?	→
6	14 kalemim vardı. 9 tanesini kaybettim. Kaç kalemim kaldı?	→
7	16 yolcusu olan otobüsten ilk durakta 5 kişi indi, ikinci durakta 3 kişi indi. Otobüste kaç yolcu kaldı?	→
8	Annem 18 tane kurabiye yaptı. 4 tanesini ben yedim, 6 tanesini ablam yedi. Kaç kurabiye kaldı?	→