

TÜRKÇE

1. Etkinlik: Verilen cümlelerle ilgili soruları yanına cevaplayınız.



Funda dün kütüphaneye gitmiş. Kütüphaneden bir hikaye kitabı almış.

Funda nereye gitmiş ?

Kütüphaneye kim gitmiş ?

Funda kütüphaneden ne almış?



Kemal oyun oynamak için bahçeye çıkmış. Oyun oynarken bahçede bilye bulmuş.

Kim bahçeye çıkmış ?

Kemal ne bulmuş?

Kemal nerede oyun oynamış ?



Melek ve babası markete gitmiş. Marketten peynir ve zeytin almışlar.

Kim markete gitmiş ?

Marketten ne almışlar ?

Peynir ve zeytini nereden almışlar ?



2. Etkinlik: Aşağıdaki cümlelerle ilgili cevabı altı çizili kelime olacak şekilde soru cümlesi yazınız.



Gökhan dün köye gitmiş. Köyde kara kuzuyu kucağına almış.

1.)

2.)

3.)



Babam evin önünde arabamızı yıkadı. Araba için güzel bir koku almış.

1.)

2.)

3.)



Masadaki bardak yere düştü. Ablam kırılan bardağın parçalarını toplayıp çöpe attı.

1.)

2.)

3.)



Polis okulun kapısında bekliyordu. Elindeki telsizi arabaya koydu.



















1.)

2.)

3.)

TÜRKÇE

1. Etkinlik: Resimlerdeki varlıkların adlarını sayılarına dikkat ederek altlarına yazınız . Tekillere "T" , çoğullara "Ç" harfi yazınız.

 elma	 elmalar				
					
					

2. Etkinlik: Tablolarda verilen tekil adları çoğul, çoğul adları tekil olarak yazalım.

Tekil Ad	Çoğul Ad
çiçek	çiçekler
araba	
armut	
mendil	
erik	
ayak	
kaşık	
ekmek	
sepet	
taş	



Çoğul Ad	Tekil Ad
ilaçlar	
kızlar	
gözler	
köpekler	
kuşlar	
çoraplar	
böcekler	
inekler	
kavanozlar	
parmaklar	



HOROZ İLE TILKI

Evvel zaman içinde kalbur saman içinde, dağların ardında kimsenin bilmediği bir kasaba varmış. Bu kasabada birçok hayvan yaşamış. Çiftliklerden birinde horoz yaşamış. Bu horoz güngörmüş, epeyce yaşlı ve bilge bir horozmuş. Bu horoz bir gün yüksek bir ağaçtan tüm çiftliği izliyormuş. Yanına yanaşan tilkiyi görmüş. Tilki horozun yanına gelince horozla seslenmiş. Horoz kardeş, seninle aramdaki düşmanlık bitti. Hayvanlar arasında kanun çıktı, artık kavga ve savaş yok, bunun haberini sana vermek için geldim demiş. Bu sözlerden tilkinin niyetini anlayan horoz dinlemeye devam etmiş. Tilki şu sözleri eklemiş. Hadi inde aşağıya sarılalım birbirimize, barışalım bitsin bu kavga demiş.

Bu sözlerin üzerine rağmen aşağıya inmeyen horozla konuşmaya devam etmiş. Daha başka hayvanlara da bu haberi iletmem gerekiyor hadi seni bekliyorum demiş. Horoz tilkinin söylediklerine karşılık vermesi gerektiğini düşünmüş. Kurnaz tilki için kurnaz bir cevap gerekiyormuş. Başlamış söze;

Dostum, bunu duyduğuma o kadar mutlu oldum ki anlatamam. Hatta çifte sevinç yaşayacağız gibi duruyor. Çünkü yanımıza iki tane av köpeği yanaşiyor. Çok geçmeden burada olurlar. Muhtemelen onlar da bize bu barış haberini vermeye geliyorlar. Onlar gelince ben de aşağı inerim, demiş. Oysaki gelen av köpeği yokmuş. Sadece bilge horozun oyunuymuş. Bu lafları duyan tilki birden gerilmeye başlamış. Hemen bir bahane uydurması lazımmış. Çünkü av köpekleri tilkiye zarar verebilirmiş. Horozla;

Sevgili horozcum benim acelem var hemen gitmem gerekiyor, daha bu haberi bir sürü hayvana duyurmam gerekiyor. Av köpekleri gelince onlara selamımı iletirsin hadi hoşça kal, demiş.



Aşağıdaki soruları metne uygun bir şekilde cevaplayınız.

1. Dağların ardında ne varmış?

.....

2. Horoz nasıl bir horozmuş?

.....

3. Horoz çiftliği izlerken ne görmüş?

.....

4. Tilki niçin horozun niçin aşağıya inmesini istemiş?

.....

5. Tilkiye nasıl bir cevap gerekiyormuş?

.....

6. Tilki niçin gerilmeye başlamış?

.....

DİNİ BAYRAMLARIMIZ

1. Etkinlik: Aşağıda verilen milli gün ve bayramlarımızla, dini gün ve bayramlarımızı harflerini ait oldukları yere yazalım.

A 19 Mayıs Atatürk'ü Anma Gençlik ve Spor Bayramı

B Mevlit Kandili

C Kurban Bayramı

C Ulusal Egemenlik ve Çocuk Bayramı



D Zafer Bayramı

E Kadir Gecesi

F Cumhuriyet Bayramı



G 15 Temmuz Demokrasi ve Millî Birlik Günü

Ğ Ramazan Bayramı



2. Etkinlik: Aşağıdakilerden hangileri dini gün ve bayramlarda yapılır? Yapılanların çiçeğini boyayalım.

- Bayram namazına gideriz.
- Okullarda sınıflarımızı süsleriz.
- Sokaklar , caddeler bayraklarla süslenir.
- Annemiz misafirler için hazırlıklar yapar.
- Camilerde kandil programları olur.
- Sınıfça gösteriler hazırlarız.
- Okullarda törenler yapılır.
- Büyüklerimizin evlerine bayramlaşmaya gideriz.
- Evimizi temizler , bayram için hazırlık yaparız.
- Törelerde saygı duruşu yapılır ve İstiklal Marşı okunur.
- Kurban keseriz.
- Çocuklara şeker veya harçlık verilir.
- Konuşmalar yapılır , şiirler okunur.





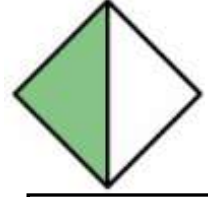
KESİRLER

🌸 Aşağıdaki görsellerin altına "bütün-yarım-çeyrek" kelimelerinden uygun olanını yazalım.






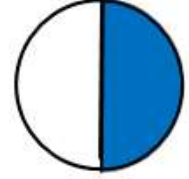











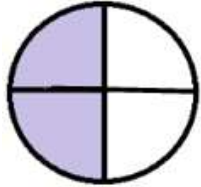

































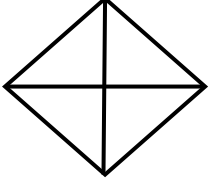




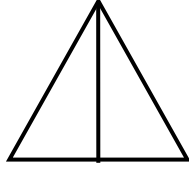


KESİRLER


 Aşağıdaki şekillerin belirtilen kadarını boyayınız.




Çeyrek



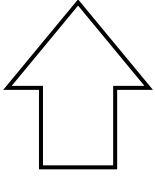
Yarım



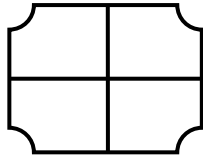
Bütün



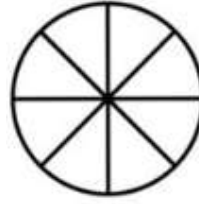
Yarım



Bütün



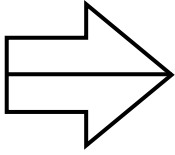
Çeyrek



Yarım



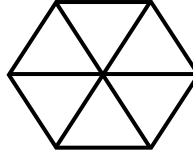
Çeyrek



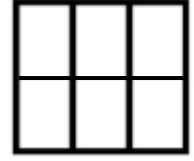
Yarım




Bütün



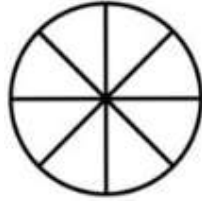
Yarım



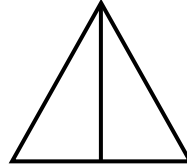
Yarım



Yarım



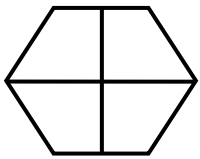
Çeyrek



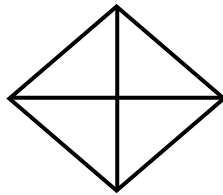
Bütün



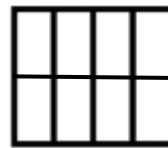
Bütün



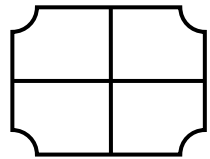
Çeyrek



Bütün



Çeyrek



Yarım



KESİRLER

🌸 Aşağıdaki cümlelerdeki noktalı yerleri uygun şekilde dolduralım.



2 Bütün elma yarım elma eder.



5 Bütün domates yarım domates eder.



3 Bütün karpuz çeyrek karpuz eder.



7 Bütün portakal yarım portakal eder.



4 Bütün pizza çeyrek pizza eder.



3 Bütün armut çeyrek armut eder.



4 yarım domates çeyrek domates eder.



6 yarım portakal çeyrek portakal eder.



3 yarım armut çeyrek armut eder.



7 yarım elma çeyrek elma eder.



2 yarım karpuz çeyrek karpuz eder.



5 yarım pizza çeyrek pizza eder.



KESİRLER

🌸 Aşağıdaki cümlelerdeki noktalı yerleri uygun şekilde dolduralım.



8 Yarım domates yarım domates eder.



6 Yarım karpuz bütün karpuz eder.



14 Yarım armut bütün armut eder.



10 Yarım portakal bütün portakal eder.



12 Yarım pizza bütün pizza eder.



12 Çeyrek elma bütün elma eder.



4 Çeyrek karpuz bütün karpuz eder.



8 Çeyrek pizza bütün pizza eder.



20 Çeyrek portakal bütün portakal eder.



16 Çeyrek domates bütün domates eder.

BÜTÜN , YARIM , ÇEYREK PROBLEMLER

1. 4 bütün ekmek kaç yarım ekmek eder ?

Çözüm:



2. 8 bütün elma kaç çeyrek elma eder?

Çözüm:



3. 6 yarım limon kaç tane çeyrek limon eder ?

Çözüm:



4. 14 yarım armut kaç tane bütün armut eder ?

Çözüm:



5. 24 tane çeyrek kivi kaç tane bütün kivi eder ?

Çözüm:



6. 16 tane çeyrek portakal kaç tane yarım portakal eder?

Çözüm:



7. 5 bütün pasta kaç tane yarım pasta eder ?

Çözüm:



8. 32 tane çeyrek elma kaç tane bütün elma eder ?

Çözüm:



9. 10 tane yarım karpuz kaç tane çeyrek karpuz eder?

Çözüm:



BÜTÜN , YARIM , ÇEYREK PROBLEMLER

1. 16 tane yarım kurabiye kaç tane bütün kurabiye eder ?

Çözüm:



2. 9 tane fotokopi kağıdı kaç tane çeyrek fotokopi kağıdı eder ?

Çözüm:



3. 20 tane çeyrek simit kaç tane bütün simit eder ?

Çözüm:



4. Ali 3 bütün elmadan kaç yarım elma elde eder ?

Çözüm:



5. 5 tane bütün yumurta kaç tane çeyrek yumurta eder ?

Çözüm:



6. 8 tane yarım portakal kaç tane bütün portakal eder?

Çözüm:



7. 24 tane çeyrek armut kaç tane bütün armut eder ?

Çözüm:



8. 3 tane yarım karpuz kaç tane bütün karpuz eder ?

Çözüm:



9. 10 tane çeyrek domates kaç tane yarım domates eder?

Çözüm:



10. 14 tane yarım ekmek kaç tane bütün ekmek eder?

Çözüm:



BÜTÜN , YARIM , ÇEYREK PROBLEMLER

1. 28 tane çeyrek kivi kaç tane bütün kivi eder ?

Çözüm:



2. 8 tane bütün elma kaç tane çeyrek elma eder ?

Çözüm:



3. 6 tane çeyrek ekmek kaç tane yarım ekmek eder ?

Çözüm:



4. 9 tane yarım armut kaç tane çeyrek armut eder ?

Çözüm:



5. 7 tane bütün şeftali kaç tane yarım şeftali eder ?

Çözüm:



6. 4 tane bütün pasta kaç tane çeyrek eder?

Çözüm:



7. 16 tane yarım kivi kaç tane bütün kivi eder ?

Çözüm:



8. 6 tane yarım elma kaç tane çeyrek elma eder ?

Çözüm:



9. 4 tane karpuz kaç tane yarım karpuz eder?

Çözüm:



10. 36 tane çeyrek limon kaç tane bütün limon eder?

Çözüm:

