



## GEOMETRİK CİSİMLER

Verdikleri bilgilere göre aşağıdaki isimlerle geometrik cisimleri eşleştiriniz.



Tüm yüzleri karedir. 6 yüzü vardır.



Köşesi ve ayrıtı yoktur. 1 yüzü vardır.



2 kare ve 4 dikdörtgen yüzü vardır.



2 üçgen ve 3 dikdörtgen yüzü vardır.



Köşesi ve ayrıtı yoktur. 1 yüzü vardır.




Köşesi ve ayrıtı yoktur 2 yüzü vardır.



Tüm yüzleri dikdörtgendir. 6 yüzü vardır.



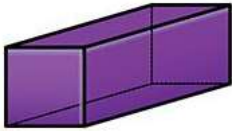
.....



.....



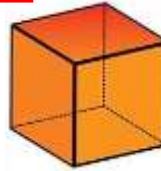
.....



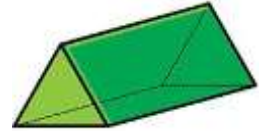
.....



.....



.....



.....



Aşağıda belirtilen geometrik cisimlerin özelliklerini yazınız.

Cismin Adı	Köşe Sayısı	Yüz Sayısı	Ayrıt Sayısı	Oluşturan Şekiller
Küp				
Kare prizma				
Dikdörtgenler prizması				
Üçgen prizma				
Silindir				