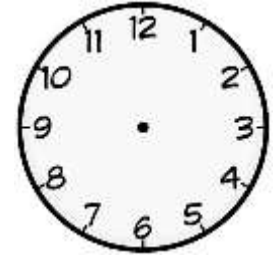
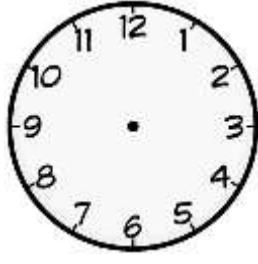
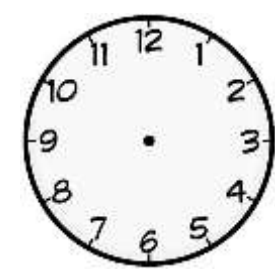
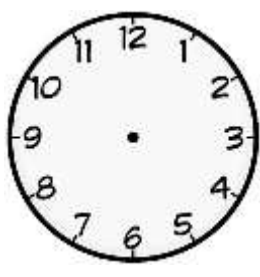


ZAMANI ÖLÇME

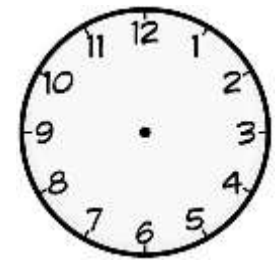
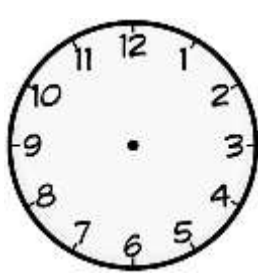
1.Etkinlik : Aşağıdaki saatleri okuyup altına yazalım. Yanındaki saate 1 saat sonrasını gösterelim ve okuyup yazalım.



2.Etkinlik : Aşağıdaki saatleri okuyup altına yazalım. Yanındaki saate 2 saat sonrasını gösterelim ve okuyup yazalım.



3.Etkinlik : Aşağıdaki saatleri okuyup altına yazalım. Yanındaki saate 1 saat öncesini gösterelim ve okuyup yazalım.



4.Etkinlik : Aşağıdaki saatleri okuyup altına yazalım. Yanındaki saate 2 saat öncesini gösterelim ve okuyup yazalım.

