

1) Aşağıdaki cümlelerin hangisinde eş sesli kelime **kullanılmamıştır**?

- A) Tabaktaki portakalları soy.  
B) Seda iki tane muz yedi.  
C) Amcam iki tane yabancı dil biliyor.  
D) Annem misafirlere iki çeşit tatlı yaptı.

2) Aşağıdaki cümlelerin hangisinde "dikmek" kelimesi "Bitkiyi toprağa yerleştirmek." anlamında kullanılmıştır?

- A) Suna saksıya güzel bir çiçek **dikmiş**.  
B) Annem sökülen pantolonumu **dikti**.  
C) Öğretmen bizi sınıfın kapısına **dikti**.  
D) Fatma bardaktaki sütü bir **dikmede** bitirdi.

3) Aşağıdaki cümlelerin hangisinde eş sesli bir kelime farklı anlamlarda bir arada kullanılmıştır?

- A) Dayım sıcak oda yerine soğuk odada yattı.  
B) Bu mahallede acı tatlı günlerimiz oldu.  
C) Taner ağacın dalından suya daldı.  
D) Gaye bağda üzüm toplamış.


- 4)  Rana eve **geç** geldiği için annesi kızmış.  
 İlaçları düzenli kullanınca hastalığım çabuk **geçti**.  
 Yeşil ışık yanınca yayalar karşıya **geçti**.  
 Öğretmenimiz toplantıya **geç** katılmış.

Yukarıdaki altı çizili kelimeler hangi cümlelerde aynı anlamda kullanılmıştır?

- A)   B)    
C)   D)

5) Aşağıdaki cümlelerin hangisinde "kır" kelimesi farklı bir anlamda kullanılmıştır?

- A) Annem tavanın içerisine üç yumurta **kırdı**.  
B) **Kır** saçlı adam müdürün odasına girdi.  
C) Komşunun camını Hasan **kırmış**.  
D) Poşetteki cevizleri Umut **kıracak**.

- 6)  Ölçüsü  $82^\circ$  olan bir açının ölçüsünü  $8^\circ$  artırdım.

Yukarıdaki ifadeye göre elde edilen yeni açı hangi türdür?

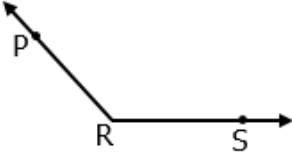
- A) Dar açı B) Dik açı  
C) Geniş açı D) Doğru açı

7) Yandaki "A" harfinde bulunan açı türleri hangisinde doğru olarak verilmiştir?

- A) Dar - Dik B) Dar - Doğru  
C) Dar - Geniş D) Geniş - Dik




8)



Yukarıdaki R açısının ölçüsü aşağıdakilerden hangisi kesinlikle **olamaz**?

- A)  $89^\circ$                       B)  $125^\circ$   
C)  $130^\circ$                       D)  $120^\circ$

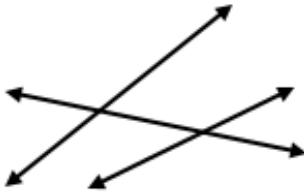
9)



Cemil ,  $100^\circ$ 'lik bir açı çizmek istiyor. Bunun için K noktası ile hangi noktayı birleştirmesi gerekir ?

- A) R    B) Y    C) F    D) M

10)



Yukarıdaki doğruların kesiştiği yerlerde kaç açıdan kaç tanesi dar açıdır?

- A) 3                      B) 5  
C) 2                      D) 4

11)

DOĞAL	YAPAY
◇ Şelale	◇ Televizyon
◇ Kuş	◇ Kedi
◇ Davul	◇ Araba

Taner , doğal ve ses kaynaklarıyla ilgili yukarıdaki tabloyu hazırlamış ama bir yanlışlık yapmış. Bu yanlışlık hangi ses kaynaklarının yer değişmesiyle düzelir?

- A) Şelale - Kedi                      B) Davul - Araba  
C) Kuş - Araba                      D) Davul - Kedi

- 12) ■ Teknolojik aletlerle sesin kaydedilmesi mümkündür .  
● Sesin şiddeti teknolojik araçlarla artırılabilir.  
▲ İşitme sorunlarının giderilmesinde ses teknolojilerinden faydalanılır.

Yukarıdaki ifadelerden hangileri doğrudur?

- A) ■ ▲                      B) ▲ ●  
C) ● ■                      D) ■ ● ▲

13)

Thomas Edison , ..... denilen aletle ses kaydını gerçekleştirdi.

Yukarıdaki cümlede noktalı yere aşağıdakilerden hangisi yazılmalıdır?

- A) kaset                      B) fonograf  
C) floresan                      D) CD

- 14) △ Teyp                      □ Megafon  
 ◇ Mikrofon                  ○ Gramofon

Yukarıdakilerden hangileri sesin şiddetini artırmaya yarayan teknolojik aletlerdendir?

- A) □ ◇                      B) □ ○  
 C) ◇ ○                      D) ○ △

- 15) Aşağıdakilerden hangisine daha uzun süreli ve kaliteli ses kaydı yapılabilir?

- A) Kaset                      B) Plak  
 C) CD                         D) Fonograf

- 16) Kaynakların , ürünlerin , emeğin ve zamanın boş yere harcanmasına ..... denir.

Yukarıdaki cümlede noktalı yere aşağıdakilerden hangisi yazılmalıdır?

- A) tüketim                      B) üretim  
 C) israf                         D) bütçe

- 17) Uzun süre oyun oynamak ve televizyon seyretmek aşağıdakilerden hangisinin israfıdır?

- A) zaman                      B) su  
 C) para                         D) ekmek

- 18) Annem giysileri tek tek değil biriktirip ütüler.


Yukarıdaki ifade aşağıdakilerden hangisinin israfını azaltmaya yöneliktir?

- A) elektrik                      B) su  
 C) zaman                         D) ekmek

- 19) I – Bozuk musluklar tamir ettirmeliyiz  
 II – Dişimizi fırçalarken musluğu açık bırakmalıyız.  
 III– Tuvaletlerde sifonu gereksiz yere kullanmamalıyız.  
 IV – Sebze ve meyveleri yıkadığımız suyu biriktirip bu suyla çiçekleri sulayabiliriz.

Yukarıdaki ifadelerden hangisi su israfına neden olur?

- A) IV                      B) II                      C) I                      D) III

- 20)  Alışveriş sırasında sadece ihtiyaçlarımızı alırız . Gereksiz harcama yapmayız.

Yukarıdaki ifade aşağıdakilerden hangisinin israfını azaltmaya yöneliktir?

- A) elektrik                      B) su  
 C) zaman                         D) para

## CEVAP ANAHTARI

TÜRKÇE	MATEMATİK	FEN BİLİM.	SOSYAL BİL.
1) D	6) B	11) D	16) C
2) A	7) C	12) D	17) A
3) C	8) A	13) B	18) A
4) B	9) C	14) A	19) B
5) B	10) D	15) C	20) D