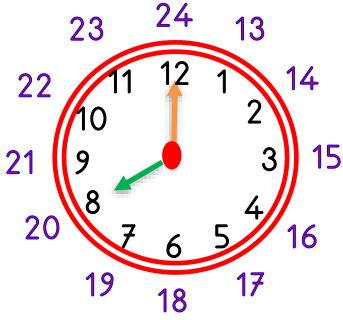


Adı :
Soyadı:

2. Sınıf Matematik

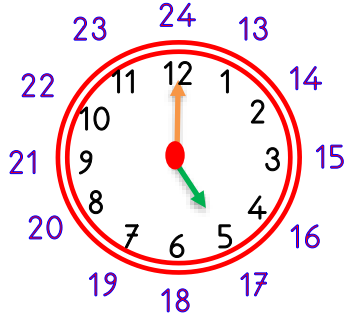
Zamanı Ölçme-4

Öğleden önce, öğleden sonra saat kaç?



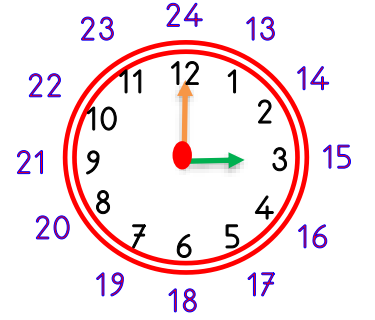
Öğleden önce:

Öğleden sonra:.....



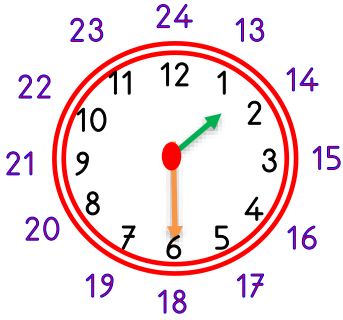
Öğleden önce:

Öğleden sonra:.....



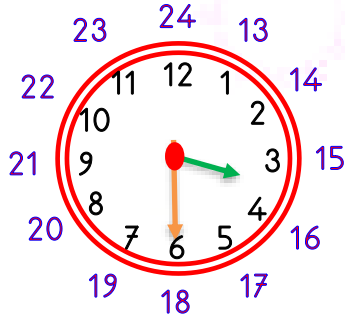
Öğleden önce:

Öğleden sonra:.....



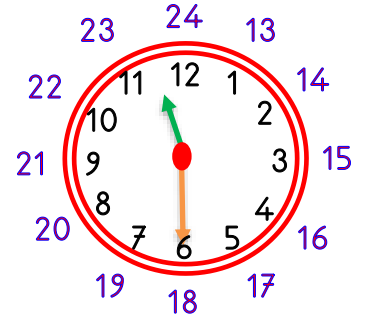
Öğleden önce:

Öğleden sonra:.....



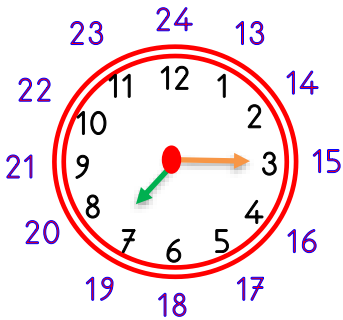
Öğleden önce:

Öğleden sonra:.....



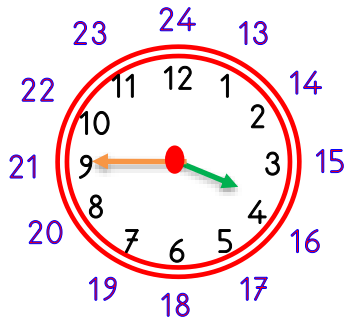
Öğleden önce:

Öğleden sonra:.....



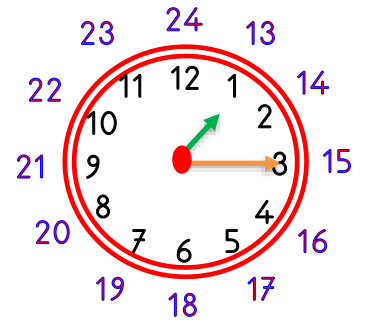
Öğleden önce:

Öğleden sonra:.....



Öğleden önce:

Öğleden sonra:.....



Öğleden önce:

Öğleden sonra:.....

Adı :
Soyadı:

2. Sınıf
Matematik

Zamanı Ölçme-4

Saatleri çizelim. Öğleden sonra saati yazalım.



Öğleden önce: 08:00

Öğleden sonra:



Öğleden önce: 10:30

Öğleden sonra:



Öğleden önce: 02:15

Öğleden sonra:



Öğleden önce: 05:45

Öğleden sonra:



Öğleden önce: 09:30

Öğleden sonra:



Öğleden önce: 03:45

Öğleden sonra:



Öğleden önce: 07:00

Öğleden sonra:



Öğleden önce: 04:45

Öğleden sonra:



Öğleden önce: 05:15

Öğleden sonra: