



Adı Soyadı : .....

Numarası : .....

Konu: Doğal Sayıları Karşılaştırma ve Sıralama

Aşağıdaki doğal sayılardan büyük olan sayının altındaki kutucuğu işaretleyiniz.

30	58
<input type="checkbox"/>	<input type="checkbox"/>

70	82
<input type="checkbox"/>	<input type="checkbox"/>

99	89
<input type="checkbox"/>	<input type="checkbox"/>

66	76
<input type="checkbox"/>	<input type="checkbox"/>

18	91
<input type="checkbox"/>	<input type="checkbox"/>

55	25
<input type="checkbox"/>	<input type="checkbox"/>

82	80
<input type="checkbox"/>	<input type="checkbox"/>

56	69
<input type="checkbox"/>	<input type="checkbox"/>

Aşağıda verilen doğal sayıları "büyüktür", "küçüktür" veya "eşittir" sözcüklerinden uygun olanı yazınız.

22, 28'den .....

78, 67'den .....

44, 44'e .....

50, 42'den .....

88, 98'den .....

75, 71'den .....

49, 19'dan .....

11, 11'e .....

90, 89'dan .....

36, 36'ya .....

55, 45'ten .....

21, 41'den .....

69, 70'ten .....

34, 74'ten .....

19, 14'ten .....

Aşağıdaki kutularda boş bırakılan yerlere hangi sayılar gelmelidir?

Önce Sonra

....	55
....	86
....	24
....	91

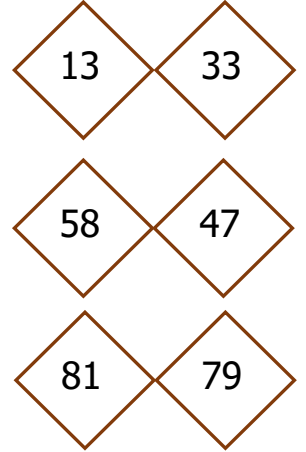
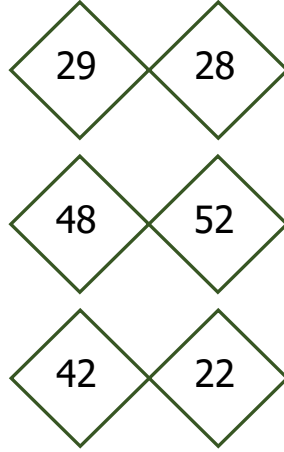
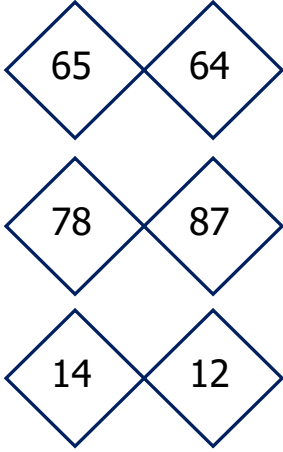
Önce Arasında Sonra

....	22	....
....	73	....
....	97	....
....	35	....

Önce Sonra

47	....
19	....
66	....
32	....

Aşağıdaki sayıları karşılaştıralım. Küçük sayının bulunduğu kutucuğu boyayalım.



Aşağıdaki sayıları küçükten büyüğe doğru sıralayınız.

80, 50, 64, 98 = .....  
18, 38, 28, 48 = .....  
90, 91, 93, 92 = .....  
58, 39, 87, 67 = .....

Aşağıdaki sayıları büyükten küçüğe doğru sıralayınız.

87, 58, 66, 55 = .....  
38, 62, 49, 52 = .....  
19, 99, 69, 49 = .....  
70, 48, 68, 29 = .....

Aşağıdaki sayılardan küçük üç sayı yazınız.

58	→	...	...	...
72	→	...	...	...
26	→	...	...	...

Aşağıdaki sayılardan büyük üç sayı yazınız.

17	→	...	...	...
42	→	...	...	...
69	→	...	...	...