

Adı :
Soyadı:

3. Sınıf
Fen Bilimleri

Canlılar Dünyasına Yolculuk
Yaprak Test-1



1 Fabrika bacasından çıkan zehirli gazlar öncelikle hangisinin kirlenmesine neden olur?

- A Su B Toprak C Hava




2 Yukarıdaki görsellerden kaç tanesi canlı varlıktır?

- A 4 B 5 C 6

Canlıları birbirinden ayıran en önemli özellik kendi isteklerine göre hareket edebilmelidir.

3 Yukarıda verilen bilgiye göre aşağıdakilerden hangisi hareket etmesi yönünden diğerlerinden **farklıdır?**

- A Güvercin B Ağaç C Fil



4 Yukarıdaki canlıların üreme-çoğalma biçimi hangisinde doğru verilmiştir?

| | ● | ▲ | ■ |
|---|---------|---------|---------|
| A | doğum | tohum | yumurta |
| B | yumurta | tohum | doğum |
| C | doğum | yumurta | yumurta |

Varlıklar, canlılar ve cansızlar diye 2 gruba ayrılır. Canlı varlıklar;

1 2..... 3.....

5 Yukarıdaki bilgilerde boş yerlere hangileri yazılmalıdır?

| | 1..... | 2..... | 3..... |
|---|-----------|----------|-----------|
| A | insanlar | ağaçlar | hayvanlar |
| B | bitkiler | insanlar | balıklar |
| C | hayvanlar | bitkiler | insanlar |

6 Aşağıdakilerden hangisi yakın çevremizde bulunan unsurlar **değildir?**

- A Sınıf - Oda - Bakkal
B Piknik alanı - Deniz - Orman
C Park - Okul bahçesi - Cami

Adı :
Soyadı:

3. Sınıf
Fen Bilimleri

Canlılar Dünyasına Yolculuk
Yaprak Test-1



7 Aşağıdaki seçeneklerde verilen atıklardan hangisinin hepsi yukarıdaki geri dönüşüm kutularına atılabilir?

- A) Çivi - dergi - poşet
- B) Karton - cam bardak - tencere
- C) Yağ tenekesi - koli - porselen tabak



8 Yukarıdaki görsellere göre hangi bilgi yanlıştır?

- A) Canlılar kendi türlerini çoğaltmak için ürerler.
- B) Hayvanların hepsi korktukları zaman ya da tehlikede olduklarında tepki verirler.
- C) Canlılar akciğerleriyle solunum yaparlar.




9 Aşağıdakilerden hangisi yukarıdaki hayvanların hepsinin ortak özelliği değildir?

- A) Beslenme biçimleri
- B) Solunum biçimleri
- C) Çoğalma biçimleri



10 Yukarıdaki görselde anlatılmak istenen bilgi hangisidir?

- A) Her canlı belli bir yaşa geldiği zaman ölürler.
- B) İnsanlar da diğer hayvanlar gibi akciğerleriyle solunum yaparlar.
- C) Yeterli beslenen canlılar doğduktan sonra yetişkin oluncaya kadar gelişip büyürler.



11 Bir bitkinin yaşam döngüsünde olayların sıralaması hangisinde doğrudur?

- A) 5 - 3 - 6 - 3 - 2 - 1
- B) 3 - 5 - 2 - 4 - 6 - 1
- C) 3 - 5 - 4 - 2 - 6 - 1

12 Yukarıdaki bitkinin döngüsüne ait görselde 5. görsel bitkinin hangi dönemidir?


- A) Çoğalma
- B) Gelişme
- C) Çimlenme

Adı :
Soyadı:

3. Sınıf
Fen Bilimleri

Canlılar Dünyasına Yolculuk
Yaprak Test-1

13 Aşağıdakilerden hangisi çevremizde bulunan doğal unsurlardan **değildir**?



14 Aşağıdakilerden hangilerini toprağa ve suya attığımızda canlılara ve doğaya **kalıcı olarak** zarar vermiş oluruz?

- A Karpuz kabuğu - cam - pil
B Cam - pil - pet şişe
C Karton - teneke - tohum



15 Yukarıdaki görseller için hangi bilgi doğrudur?

- A 1. ve 2. görsel doğal unsurdur.
B 2. ve 3. görsel insanlar tarafından yapıldığı için yapay unsurdur.
C 1. ve 3. görsel kendiliğinden var olmuş doğal unsurlardır.

İnsanlar doğal çevrede göremedikleri ortamları şehirlerde yapay olarak yapmışlardır.

16 Yukarıdaki bilgiye doğal-yapay eşleştirmeleri hangisinde **yanlıştır**?

| Doğal Unsur | Yapay Unsur |
|-------------|------------------|
| A Baraj | Piknik alanı |
| B Orman | Hayvanat bahçesi |
| C Deniz | Havuz |

- A
B
C

17 Kâğıt atıklarını geri dönüşüm kutularına atmanın çevremize en önemli faydası hangisidir?

- A Ormanlarımızın yok olmasını önleriz.
B Doğadaki canlıları korumuş oluruz.
C Çevre kirliliğini önlemiş oluruz.



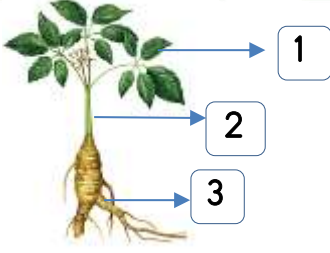
18 Yukarıdaki maddelerden kaç tanesini geri dönüşüm kutusuna atmak **doğru olmaz**?

- A 5 B 4 C 3

Adı :
Soyadı:

3. Sınıf
Fen Bilimleri

Canlılar Dünyasına Yolculuk
Yaprak Test-1



19 Yukarıdaki bitki için hangi bilgi **yanlıştır?**

- A) 1 numara bitkinin solunum organıdır.
- B) 2. numara bitkinin koku alma organıdır.
- C) 3 numara bitkinin su içme organıdır.

20 Aşağıdakilerden hangisi devlet tarafından korumaya alınmış doğal milli park alanı **değildir?**



21 Milli parklarda ve anıt parklarda aşağıdakilerden hangisini yapmak **yasaktır?**

- A) Fotoğraf çekmek, resmini çizmek.
- B) Gezmek, dinlenmek.
- C) Piknik yapmak, mangal ateşi yakmak.

Doğal Anıtlar

1-Şelaleler 2-Mağaralar 3-Köprüler
4-Ormanlar 5- Tüneller 6-Göller

22 Yukarıdaki listede yanlışlık yapılmıştır. Bu yanlışlık hangisini yapılırsa düzeltilir?

- A) Sadece "Köprüler" yerine "Dağlar" yazılmalıdır.
- B) Sadece "Tüneller" yerine "Akarsular" yazılmalıdır.
- C) Sadece "Köprüler" ve "Tüneller" silinmelidir.

23 İnsanların doğal çevreyi kendi ihtiyaçlarına göre bozmasının nedenleri arasında **değildir?**

- A) Kağıt ve odun yapımı için ağaçların planlı kesilmesi
- B) Fabrika ve yol yapmak için ovalık alanların bozulması
- C) Ormanları yok ederek tarla yapmaları.

24 Aşağıdakilerden hangisi doğal çevrede bulunan bitkilere ve hayvanlara **daha çok zarar** verir?

- A) İzinsiz hayvanları avlamak.
- B) Orman yangını
- C) Hayvanat bahçesi için hayvanları yakalamak.

Adı :
Soyadı:

3. Sınıf
Fen Bilimleri

Canlılar Dünyasına Yolculuk
Yaprak Test-1

- 1 A B C
2 A B C
3 A B C
4 A B C
5 A B C
6 A B C
7 A B C
8 A B C

- 9 A B C
10 A B C
11 A B C
12 A B C
13 A B C
14 A B C
15 A B C
16 A B C

- 17 A B C
18 A B C
19 A B C
20 A B C
21 A B C
22 A B C
23 A B C
24 A B C

- 25 A B C
26 A B C
27 A B C
28 A B C
29 A B C
30 A B C
31 A B C
32 A B C



Sitemdeki tüm etkinlikler özgün çalışmalar olup logo kaldırılarak başka sitelerde yayınlanamaz, paylaşılamaz, ticari amaçla basılamaz, çoğaltılamaz.

- 1 A B C
2 A B C
3 A B C
4 A B C
5 A B C
6 A B C
7 A B C
8 A B C

- 9 A B C
10 A B C
11 A B C
12 A B C
13 A B C
14 A B C
15 A B C
16 A B C

- 17 A B C
18 A B C
19 A B C
20 A B C
21 A B C
22 A B C
23 A B C
24 A B C

- 25 A B C
26 A B C
27 A B C
28 A B C
29 A B C
30 A B C
31 A B C
32 A B C

