


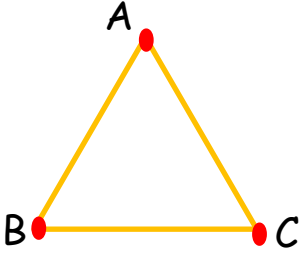
Adı :

Soyadı:



3. Sınıf
Matematik

Geometride Temel
Kavramlar-1

Geometrik şekillerin köşelerine birer **nokta** koyunuz. İstedığınız harfi yazınız.



Aşağıdaki yönergelere uygun **nokta** yapınız.



- 1-Bütün şekillerin bir köşesine nokta koyarak K harfini yazınız.
- 2-Bütün şekillerin ortasına iki nokta koyarak L ve M harflerini yazınız.
- 3-Bütün şekillerin bir kenarının ortasına nokta koyarak N harfini yazınız.
- 4-Bütün şekillerin dışına bir nokta koyarak P harfini yazınız.

Aşağıdaki doğru üzerindeki **noktaları** yazınız.



● A Noktası

●

●

●

●

●

●

●

Adı :

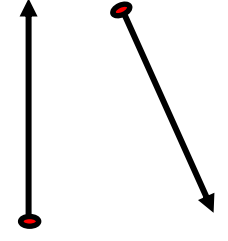

Soyadı:

3. Sınıf Matematik



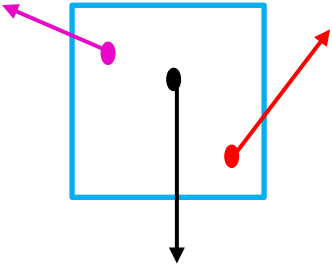
Geometride Temel Kavramlar-1






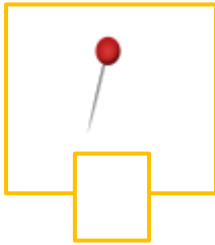


IŞIN: Başlangıcı belli olan,
ancak sonu belli olmayan
çizgidir.



Geometrik şekillerdeki noktalardan istediğiniz yöne **ışın** çiziniz.



Hangileri **ışına** benziyor? İşaretleyiniz.



Hangileri **ışındır**? Yuvarlak içine alınız.

