



KURALLI CÜMLE

☀ Aşağıda karışık şekilde verilen kelimelerle anlamlı ve kurallı cümleler oluşturalım.
Uygun noktalama işaretlerini koyalım.



aldınız - mı - elma - pazardan

☆



erik - açmış - çiçek - bahçedeki - ağacı

☆



kapıyı - unuttu - açık - mı - Arda

☆



çıkartıp - on - dedem - verdi - bana - cebinden - lira

☆



vazoya - çiçekleri - mı - topladığın - koydun

☆



Ozan'ın - kalem - mı - senin - bu - mi

☆



bahçede - gördün - kardeşini - mü - Sinem'in

☆



her - sayfa - okur - Taner - gün - kitap - on

☆



keki - mi - annen - üzümlü - yaptı - bu

☆



TEKİL VE ÇOĞUL KELİMELER

☼ Aşağıda verilen kelimeleri tekil ve çoğul şeklinde ayıralım.

erik	defter	sıralar	inekler	uçaklar
taşlar	kiler	elbiseler	armutlar	sandalye
kelebekler	park	fular	insanlar	yastık
tabak	gömlükler	halılar	böcekler	zürafa

.....	
.....	
.....	
.....	

☼ Aşağıda verilen tekil kelimeleri çoğul hale getirip yazalım.

kapı	pencere
fil	yaprak
peçete	çatal
çorap	ekmek
çilek	soğan
bayrak	eczane



İFTAR MASASI

Zeynep Hanımı görür görmez içimi tatlı bir heyecan kaplıyor. Her gün bu vakitler evdeki tatlı telaş başlıyor. Besmeleyle başlayan bu koşuşturmayı izlemeye bayılıyorum. Serinlik çökünce sokaklar daha da şenlenir. Kapı önlerinde komşuların muhabbetleri duyulur. Ah ne güzel günler bu sayılı günler. Ramazan ayı demek bereket, huzur, birlik beraberlik dolu günler demektir.

Zeynep Hanım, tencereleri ocağa koydu bile. Yapacaklarını tasarlamış olmalı. Birazdan mis gibi yemek kokusu yayılır. Akşama yine misafir var mı acaba? Benim tanıdığım Zeynep Hanım mutlaka çağırır. Allah ne veriyse hazırlar. Yanılmamışım, sesler duyuyorum. Komşusu Nurten Hanım'a "Buyrun, bu akşam iftarı bizde yapalım.." diyor. Zeynep Hanım yorulsa da evinden hiç misafir eksik olmasın istiyor.

Bu evdeki huzur ve bereket bin Maşallah 'a değer! Sevde ile Hanne de oruçlular bugün. Öğlenden beri yemek isimleri sayıyorlar. Anne bugün şunu pişir, bunu pişir... Su, hoşaf bol olsun, içine bolca buz konsun. Yemekler tabaklarda bol olsun. Tatlı sakın unutulmasın. İftarda kuş kadar yediklerini görmesem saydıkları bütün yemekleri yiyeceklerini sanacağım.

Yemekler pişerken Zeynep Hanım mutfağın bir köşesinde Kuranı Kerim okuyor. Çocuklar balkonda oynuyorlar. Apayrı bir güzellik taşıyor oruçlu çocuklar. Susamış dudaklarında inci gibi parlıyor dualar. Üzerime o çok sevdiğim çiçekli örtü serildi. Sevde kaşık ve çatalları, Hanne tabakları diziyor. Hah işte, Nurten Hanımlar da geldi, Her yer neşeye süslendi. Sevde ile ablası su bardağı ellerinde ezanı bekliyor. Ve beklenen seda evleri, gökleri kaplıyor. İşte iftar vakti! Her yanı sarmış melekler.

|| Aşağıdaki soruları metne uygun bir şekilde cevaplayınız.

|| 1. Yazar neyi izlemeye bayılıyor?

||

|| 2. Ramazan ayı ne demekmiş?

||

|| 3. Zeynep Hanım yorulsa da ne istiyor?

||

|| 4. Sevde ve Hanne iftarda ne kadar yemek yiyorlarmış?

||

|| 5. Yemek pişerken Zeynep Hanım ne yapıyormuş ?

||

|| 6. Sevde ve ablası ezanı nasıl bekliyorlar?

||



MİLLİ BİRLİK VE BERABERLİK

☼ Aşağıda birlik ve beraberlik , dayanışma ile ilgili atasözlerin çiçeğini boyayalım.

☼ Bir elin nesi var , iki elin sesi var.

☼ İşleyen demir ışıldar.

☼ Ayağını yorganına göre uzat.

☼ Birlikten kuvvet doğar.

☼ Nerede birlik orada dirlik.

☼ Yalnız taş duvar olmaz.

☼ Tek kanatla kuş uçmaz.

☼ Dikensiz gül olmaz.

☼ Bir elin nesi var , iki elin sesi var.

☼ Ne ekersen onu biçersin.

☼ Ağaç yaşken eğilir.

☼ Öfkeyle kalkan zararlı oturur.

☼ Kurtuluş Savaşı'nda ordumuzun ve milletimizin gösterdiği milli birlik ve beraberliği resimlerden faydalanarak altına yazınız .



.....

.....

.....

.....

.....

.....

.....



DOĞAL ÇEVRE NASIL KORUNABİLİR ?

Doğal çevreyi korumak adına resimlerde doğru davranışlara " doğru " , yanlış davranışlara " yanlış " yazalım.



























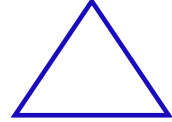
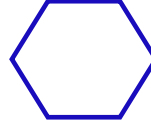

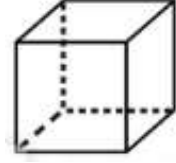
GEOMETRİK ŞEKİLLER



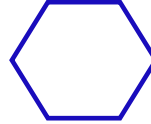

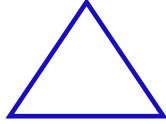

Belirtilen şekilde boyamaları yapalım.



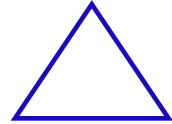

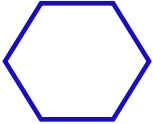
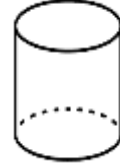
Yandaki geometrik cisimle hangi şekli çizebiliriz?
Şekli boyayalım.



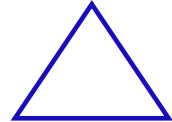

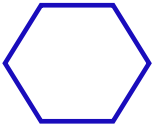

Yandaki geometrik cisimle hangi şekilleri çizebiliriz?
Şekilleri boyayalım.



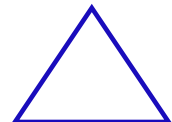

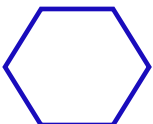
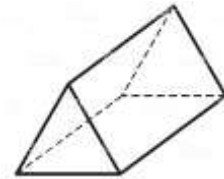
Yandaki geometrik cisimle hangi şekli çizebiliriz?
Şekli boyayalım.



Yandaki geometrik cisimle hangi şekli çizebiliriz?
Şekli boyayalım.



Yandaki geometrik cisimle hangi şekilleri çizebiliriz?
Şekilleri boyayalım.

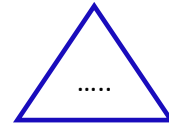

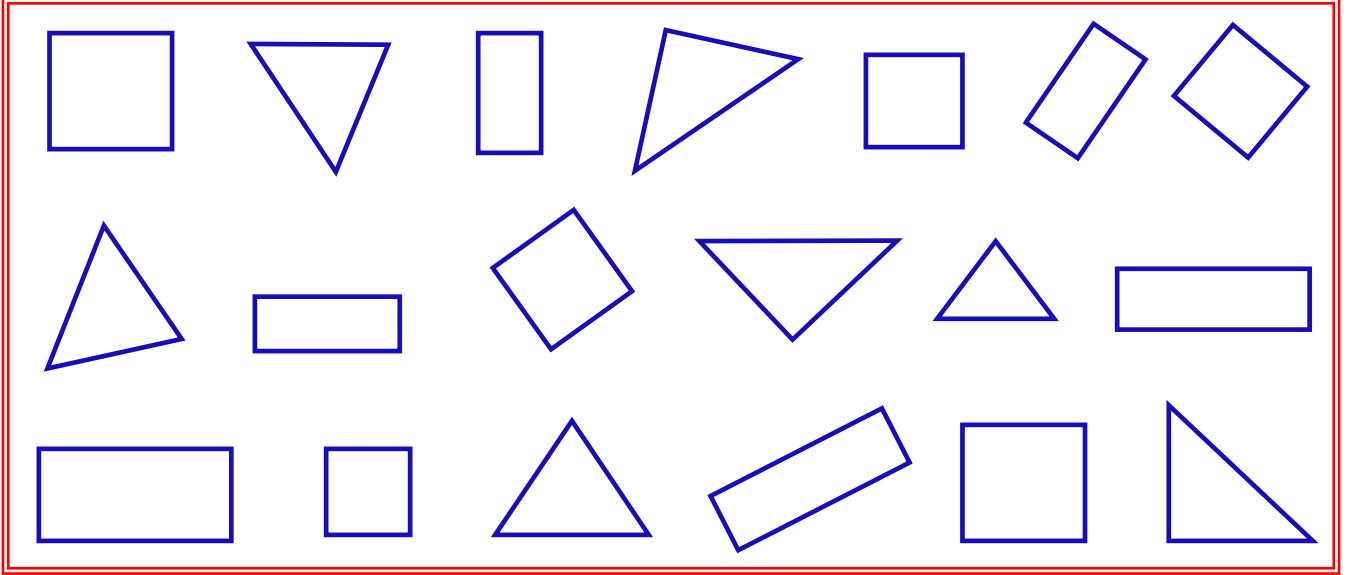




GEOMETRİK ŞEKİLLER



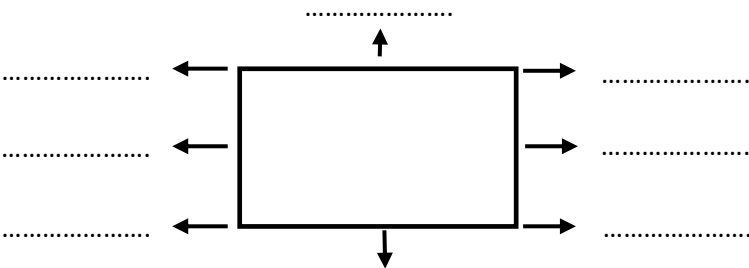
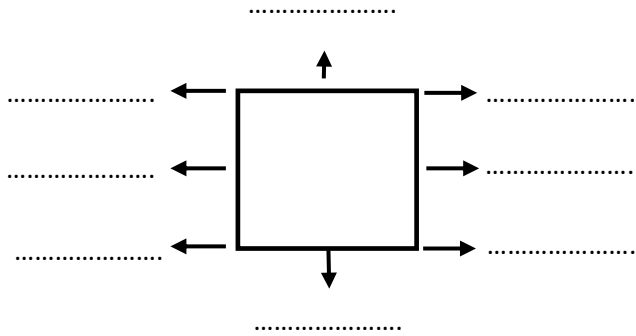
Aşağıda kare , dikdörtgen ve üçgenden kaç tane olduğunu bulalım. Sayıları ilgili şekillerdeki noktalı yerlere yazalım.



Aşağıdaki geometrik şekillerde ok işaretiyle gösterilen yerlerin isimlerini yazalım. İstenilen bilgileri yazalım.

Kenar Sayısı :

Köşe Sayısı :

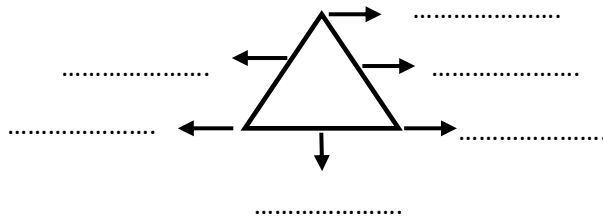


Kenar Sayısı :

Köşe Sayısı :

Kenar Sayısı :

Köşe Sayısı :



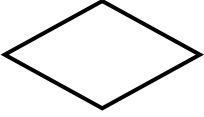
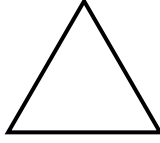
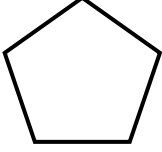
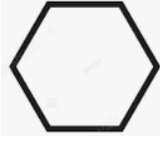






GEOMETRİK ŞEKİLLER

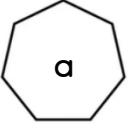
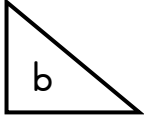




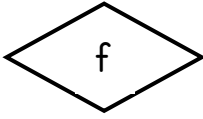
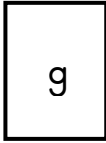
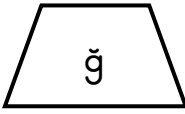
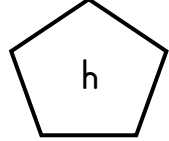


Aşağıdaki geometrik şekillerin adlarını ve kenar sayılarını yazalım.

	Şeklin Adı Kenar Sayısı		Şeklin Adı Kenar Sayısı
	Şeklin Adı Kenar Sayısı		Şeklin Adı Kenar Sayısı
	Şeklin Adı Kenar Sayısı		Şeklin Adı Kenar Sayısı
	Şeklin Adı Kenar Sayısı		Şeklin Adı Kenar Sayısı



Aşağıdaki geometrik şekilleri kenar sayılarına göre tabloya yazalım.

Üç Kenarlı Şekiller	Dört Kenarlı Şekiller	Beş Kenarlı Şekiller	Altı Kenarlı Şekiller	Yedi Kenarlı Şekiller	Sekiz Kenarlı Şekiller
.....




GEOMETRİK ŞEKİLLER




Aşağıda verilen noktaları birleştirerek geometrik şekilleri çiziniz. Çizilen geometrik şeklin ismini altına yazınız.




.....




.....




.....



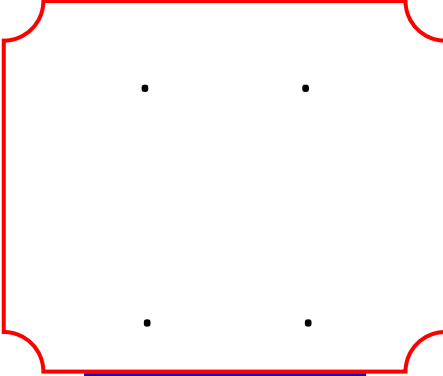
.....



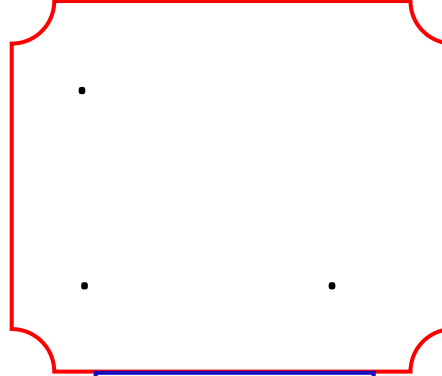
.....



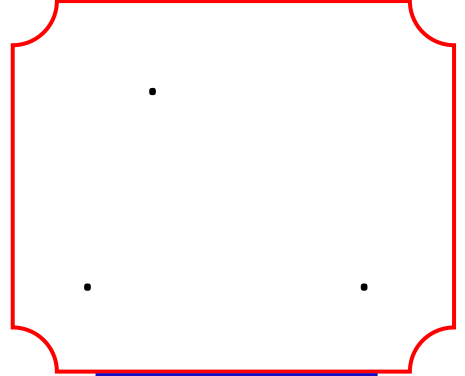
.....



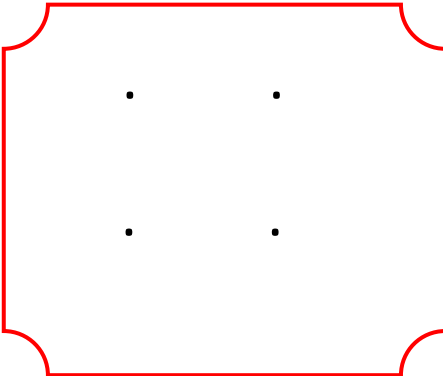
.....



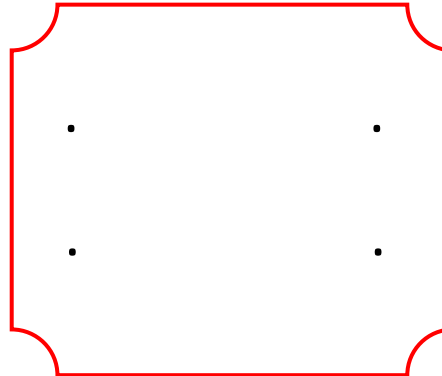
.....



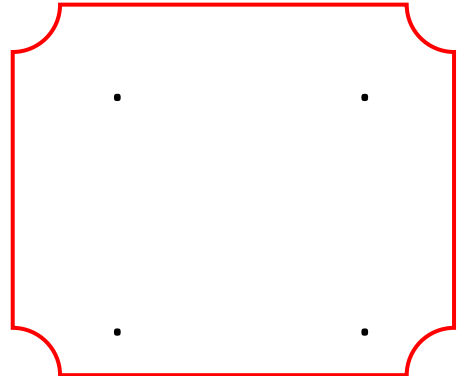
.....



.....



.....



.....



GEOMETRİK ŞEKİLLER



Aşağıdaki kenar uzunlukları verilmiş kareleri cetvel kullanarak çizelim.

4 cm

2 cm

1 cm

3 cm



Aşağıdaki kenar uzunlukları verilmiş dikdörtgenleri cetvel kullanarak çizelim.

Kısa kenar: 2 cm Uzun kenar: 4 cm

Kısa kenar: 3 cm Uzun kenar: 5 cm

Kısa kenar: 1 cm Uzun kenar: 6 cm

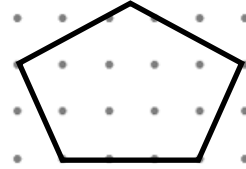
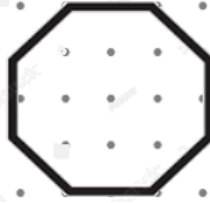
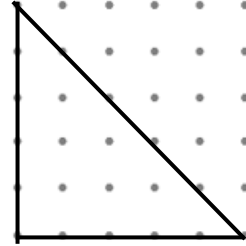

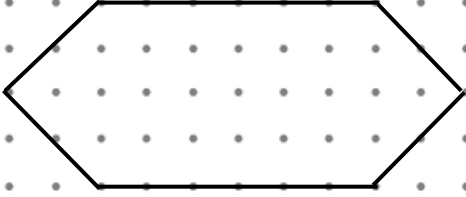
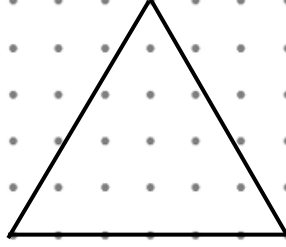
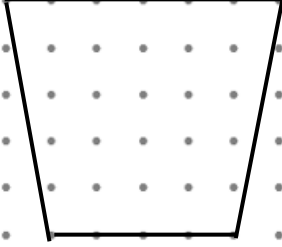
Kısa kenar: 2 cm Uzun kenar: 7 cm



GEOMETRİK ŞEKİLLER



Aşağıdaki şekillerin aynısını altına çiziniz.






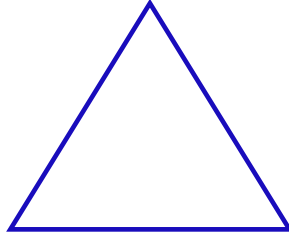
GEOMETRİK ŞEKİLLER




Aşağıdaki verilen geometrik şekillerin köşegenlerini çizin. Köşegen sayılarını yazalım.



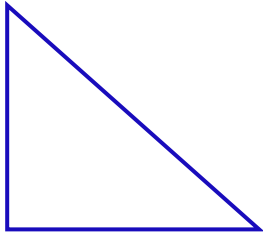
Köşegen sayısı:



Köşegen sayısı:



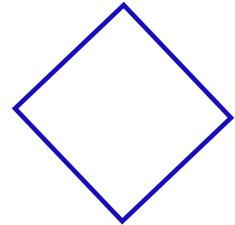
Köşegen sayısı:



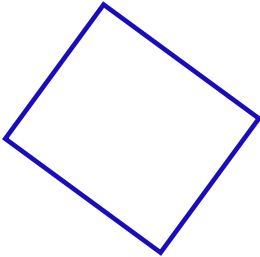
Köşegen sayısı:




Köşegen sayısı:



Köşegen sayısı:



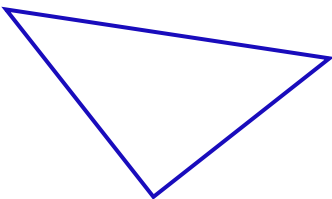
Köşegen sayısı:



Köşegen sayısı:




Köşegen sayısı:



Köşegen sayısı:



Köşegen sayısı:



Köşegen sayısı: