

1) Şebnem koşarak karşıdaki fırına gitmiş.

Yukarıdaki cümlede aşağıdaki sorulardan hangisinin cevabı **yoktur**?

- A) Niçin B) Nereye C) Nasıl

2)  Babam uçakla İzmir'e gitti.  
 Kitabımı okuduktan sonra uyudum.  
 Ablam gecikince annem telaşlandı.

Yukarıdaki cümlelerin hangisinde "Ne zaman" sorusunun cevabı vardır?

- A)  B)  C)

3) Yağız ve arkadaşları maçı kazandıkları için çok sevindiler.

Yukarıdaki cümlede altı çizili kelimeler hangi sorunun cevabıdır?

- A) Niçin B) Nerede C) Ne


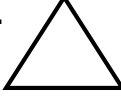

4) Arda'nın ablası Ağrı valiliğinin düzenlediği yarışmada birinci olmuş.

Yukarıdaki cümlede hangi kelime **yanlış** yazılmıştır?

- A) ablası B) valiliğinin C) Ağrı

5) Aşağıdaki cümlelerin hangisinde yazım yanlışı vardır?

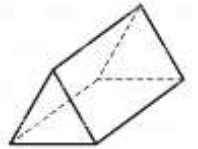
- A) Dün Gazi Lisesi öğrencileri okulumuzu ziyaret ettiler.  
 B) Dayımlar eskişehire giderken iki yerde mola vermişler.  
 C) Kuraklık Afrika ülkelerini olumsuz etkiliyor.

6) I.  II.  III. 

Yukarıdaki geometrik şekillerin isimleri hangisinde doğru verilmiştir?

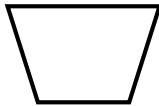
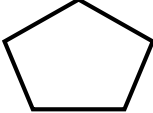

- |    | I          | II    | III        |
|----|------------|-------|------------|
| A) | dikdörtgen | üçgen | kare       |
| B) | üçgen      | kare  | dikdörtgen |
| C) | kare       | üçgen | dikdörtgen |

7) Yandaki geometrik cismin yüzleriyle aşağıdaki şekillerden hangisi çizilemez?



- A) dikdörtgen B) üçgen C) kare

8) Aşağıdaki geometrik şekillerden hangisi dörtgen **değildir**?

- A)  B)   
 C) 

9) Aşağıdaki geometrik şekillerden hangisinin köşegeni **çizilemez**?



10) Aşağıdaki bilgilerden hangisi **yanlıştır**?

- A) Bir kareye 3 tane köşegen çizebiliriz.
- B) Karenin kenar uzunlukları birbirine eşittir.
- C) Dikdörtgenin karşılıklı kenar uzunlukları birbirine eşittir.

11) Aşağıdakilerden hangisi milli birlik ve beraberlik denilince akla gelen değerlerdendir?

- A) Kıskançlık
- B) Dayanışma
- C) Bencilik

12) Aşağıdakilerden hangisi milli birlik ve beraberliğin unsurlarından **değildir**?

- A) Bir arada yaşamak.
- B) Herkesin kendi çıkarını düşünmesi.
- C) Milletçe bütünleşmek.

13) 15 Temmuz günü milletimizin hainlere karşı mücadelesiyle ilgili aşağıdakilerden hangisi söylenemez?

- A) Demokrasiye bağlılık
- B) Milli birlik ve beraberlik
- C) Umursamazlık

14) Aşağıdakilerden hangisi milli birlik ve beraberliğin sonuçlarındandır?

- A) Ülke bir çok alanda geri kalır.
- B) Düşmanlara boyun eğilir.
- C) Huzur ve güven ortamı oluşur.

15) I - Kurtuluş Savaşı

II- 15 Temmuz Demokrasi ve Milli Birlik Günü

III-Milli ve dini bayramlarımız

Yukarıdakilerden hangileri milli birlik ve beraberliğimizin örneklerindedir?

- A) Hepsi
- B) I ve III
- C) II ve III

- 16) I – Parklar  
II- Bahçeler  
III- Dağlar

Yukarıdakilerden hangileri yapay çevreye örnek olarak verilebilir?

- A) I ve II      B) II ve III      C) Hepsi

- 17) Aşağıdakilerden hangisi doğal anıt **değildir**?

- A) Ürgüp Peribacaları  
B) Kapuzbaşı Şelalesi  
C) Uludağ Milli Parkı

18)

Akvaryum	Çöl
Tarla	Deniz

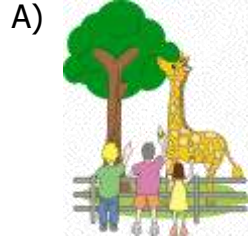
Yukarıdaki tabloda doğal çevreler boyanırsa aşağıdaki şekillerden hangisi ortaya çıkar?

- A) 


      B) 

- C) 


- 19) Aşağıdaki resimlerin hangisinde hayvanlar doğal bir çevrede yaşamaktadır?



- 20) Aşağıdakilerden hangisi yapay çevre ile ilgili **yanlış** bir bilgidir?

- A) İnsanlar tarafından değişikliğe uğratılmıştır.  
B) Sadece cansız varlıklar bulunur.  
C) Yapay çevrede bitkiler ve hayvanlar yaşayabilir.

## CEVAP ANAHTARI

TÜRKÇE	MATEMATİK	HAYAT BİL.	FEN BİLİM.
1) A	6) C	11) B	16) A
2) C	7) C	12) B	17) C
3) A	8) B	13) C	18) A
4) B	9) A	14) C	19) B
5) B	10) A	15) A	20) B