

1. SINIF MATEMATİK - 2. DÖNEM TEKRAR ETKİNLİĞİ - 3

Paraların miktarlarını altlarına yazınız.





Verilmeyen toplananları bulunuz.

$$\square + 3 = 9 \quad | \quad 8 + \square = 12 \quad | \quad \square + 5 = 10$$

Toplama işlemlerini zihinden yapınız.

$$7 + 5 = \square \quad | \quad 6 + 8 = \square$$

7'nin altına 3 ve 2 yazılmıştır. 6'nın altına 4 ve 4 yazılmıştır.

Çıkarma işlemlerini zihinden yapınız.

$$12 - 5$$

5'in altına 2 ve 3 yazılmıştır. 2 kırmızı, 3 sarı kutuda.

$$12 - \square =$$
$$10 - \square =$$

$$17 - 9$$

9'un altına 7 ve 2 yazılmıştır. 7 kırmızı, 2 sarı kutuda.


$$17 - \square =$$
$$10 - \square =$$

✚ Toplama - çıkarma gerektiren problemleri çözünüz.

1	1 onluk 4 birlikten oluşan sayının 6 eksiği kaçtır?	→
2	Ablamın 10 tokası vardı. 7 toka daha aldı. Şimdi kaç tokası oldu?	→
3	Annem topladığı 20 elmanın 9 tanesini bana verdi. Annemde kaç elma kaldı?	→

✚ Varlıkların altına bütün veya yarım yazınız.



✚ Saatlerin okunuşlarını altlarına yazınız.



→



→

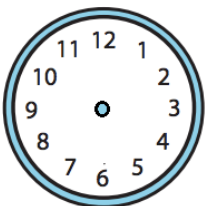


→

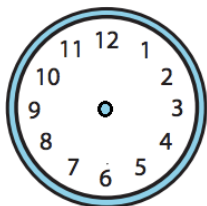


→

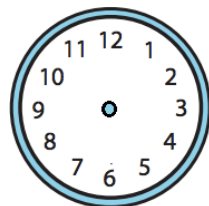
✚ Okunuşları verilen saatlere akrep-yelkovan çiziniz.



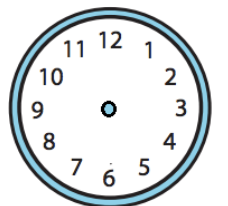
→ Saat dokuz



→ Altı buçuk



→ Saat on bir



→ Üç buçuk