

**KAŞAĞI**

Ailesiyle birlikte büyük bir çiftlikte yaşayan ve mutlu bir çocuk olan Ömer, çiftlikte birçok hayvanı da çok sever. Ancak atların yeri onda ayıdır. En çok atları sever ve onları sık sık tarar. Onun sık sık atları kaşımaya Dadaruh izin vermez. Çünkü Ömer çok küçüktür.

Ömer değerli bir kaşığı alarak atların yanına gider. Atları bu kaşığı ile taraması atları huysuzlaştırır. Hasan ise bunu görerek atlara zarar verdiğini düşünür. Sinirlenen Ömer bu kaşığının uçlarını taşla ezerek kullanılamaz hale getirir.

Ertesi gün ahıra uğrayan babaları ise yepyeni kaşığının kullanılamaz hale geldiğini görür. Babası önce at bakıcısı Dadaruh'a ne olduğunu sorar ancak o bilmediğini söyleyince hemen Ömer'e döner. Ömer ise kaşığı Hasan'ın kırıldığını söyler. Babası Hasan'a sorunca o bilmediğini söyler... (Ömer SEYFETTİN)

1 ve 2. soruları yukarıdaki metne göre cevaplayınız.

1. Ömer'in atları kaşımaya kim izin vermiyormuş?

- a) Babası b) Dadaruh  
c) Hasan

2. Kaşığı ne olabilir?

- a) Bir çeşit dişli tarak b) Bir çeşit semer  
c) Bir çeşit uzun ip

3. "Sapanca'da kadınlar ve çocuklar elma satıyorlar."

Bu cümlede aşağıdaki sorulardan hangisinin cevabı yoktur?

- a) Kim? b) Nasıl? c) Ne?

4.(1) Çocuk, dürbünle görülebilen en uzak noktaya bakmaya başladı. (2) Bir gemi gördü ve gemimin ilerlemesini uzun uzun takip etti. (3) Bir balık olup bu gemiye doğru yüzdüğünü düşündü.

Bu metindeki numaralandırılmış cümlelerin hangisinde hayal söz konusudur?

- a)  3 b)  2 c)  1

5. "Dr( ) Ahmet'in kırtasiyeden not defteri( ) tükenmez kalem ve küçük bir çanta satın aldığı gördüm."

Bu cümlede yay ayrıçla belirtilen yerlere sırasıyla aşağıdaki noktalama işaretlerinden hangileri getirilmelidir?

- a) (.) (.) b) (:.) (.) c) (.) (.)



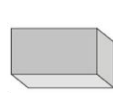
6. Bir işin emek harcanmadan kolayca elde edilmesini beklemek anlamına gelen atasözümüz aşağıdakilerden hangisidir?


- a) Armut piş, ağzıma düş  
b) Sinek avlamak  
c) Ekmek elden, su gölden yaşamak

7. Aşağıdakilerden hangisi eş sesli bir kelime değildir?

- a) Bağ b) Kaş c) Dal




8. Aşağıdaki geometrik cisimlerden hangisinin 5 tane yüzü vardır?

- a)  b)  c) 

9.  Yandaki şekilde kaç tane üçgen vardır?

- a) 4 b) 5 c) 6

10. Aşağıdaki geometrik şekillerden hangisinin köşegeni yoktur?


- a)  b)  c) 

11. Aşağıdaki geometrik şekillerden hangisi sekizgendir?

- a)  b)  c) 

12. Yukarıdaki geometrik cisimlerden kaç tanesinin ayrıtı yoktur?

- a) 4 b) 3 c) 2

13.  Yanda açılımı verilen cisim aşağıdakilerden hangisidir?

- a) Silindir b) Koni c) Küre

- ❖ Köşesi ve ayrıtı yoktur.
- ❖ 2 yüzü vardır.
- ❖ Yan yüzü eğri, alt yüzü dairedir.

14. Yukarıda özellikleri verilen geometrik cisim hangisidir?

- a) Silindir b) Koni c) Küre

15. Verilen bilgilerden hangisi yanlıştır?

- a) Sadece yaşadığımız çevrenin temizliğine önem göstermeliyiz.  
b) Vatanını en çok seven, görevini en iyi yapandır.  
c) Millî bayram törenlerine katılarak ülkemize olan bağlılığımızı göstermeliyiz.

-  Okul  Cami  Otobüs durağı  
 Odamız  Stadyum  Hastane

16. Yukarıda verilenlerden kaç tanesi milletimizin ortak malıdır?

- a) 6 b) 5 c) 4

17. Aşağıdaki davranışlardan hangisi doğru değildir?

- a) Toplu ulaşım araçlarının koltuklarına ve tutunacak yerlerine zarar vermemeliyiz.  
b) Otobüs, tren gibi toplu taşıma araçlarına çöp atmamalıyız.  
c) Trafik işaret levhalarının üzerine yazı yazmamalıyız.

18. Verilen bilgilerden hangisi yanlıştır?

- a) Doğal çevre kendiliğinden oluşur.  
b) Tükenmiş pilleri geridönüşüm kutusuna atmamalıyız.  
c) Çöpleri çevreye atmak kirliliğe neden olur.

19. Aşağıdakilerden hangisi yanlıştır?

- a) Atık yağları biriktirmeli, atık yağ toplayan belediye vb. kurumlara ulaştırmalıyız.  
b) Alışverişlerde bez torbalar yerine naylon poşet kullanmalıyız.  
c) Havayı kirliletmeyen elektrikli otomobiller tercih etmeliyiz.



Yandaki görsel bize neyi anlatmaktadır?

20. a) Çevre kirliliğini b) Akran zorbalığını  
c) Doğal afetlerin zararlarını

## CEVAPLAR

Adı Soyadı: .....

- |    |   |   |   |    |   |   |   |
|----|---|---|---|----|---|---|---|
| 1  | A | B | C | 11 | A | B | C |
| 2  | A | B | C | 12 | A | B | C |
| 3  | A | B | C | 13 | A | B | C |
| 4  | A | B | C | 14 | A | B | C |
| 5  | A | B | C | 15 | A | B | C |
| 6  | A | B | C | 16 | A | B | C |
| 7  | A | B | C | 17 | A | B | C |
| 8  | A | B | C | 18 | A | B | C |
| 9  | A | B | C | 19 | A | B | C |
| 10 | A | B | C | 20 | A | B | C |

## CEVAPLAR

Adı Soyadı: .....

- |    |   |   |   |    |   |   |   |
|----|---|---|---|----|---|---|---|
| 1  | A | B | C | 11 | A | B | C |
| 2  | A | B | C | 12 | A | B | C |
| 3  | A | B | C | 13 | A | B | C |
| 4  | A | B | C | 14 | A | B | C |
| 5  | A | B | C | 15 | A | B | C |
| 6  | A | B | C | 16 | A | B | C |
| 7  | A | B | C | 17 | A | B | C |
| 8  | A | B | C | 18 | A | B | C |
| 9  | A | B | C | 19 | A | B | C |
| 10 | A | B | C | 20 | A | B | C |

## CEVAPLAR

Adı Soyadı: .....

- |    |   |   |   |    |   |   |   |
|----|---|---|---|----|---|---|---|
| 1  | A | B | C | 11 | A | B | C |
| 2  | A | B | C | 12 | A | B | C |
| 3  | A | B | C | 13 | A | B | C |
| 4  | A | B | C | 14 | A | B | C |
| 5  | A | B | C | 15 | A | B | C |
| 6  | A | B | C | 16 | A | B | C |
| 7  | A | B | C | 17 | A | B | C |
| 8  | A | B | C | 18 | A | B | C |
| 9  | A | B | C | 19 | A | B | C |
| 10 | A | B | C | 20 | A | B | C |

1.	B	6.	A	11.	C	16.	B
2.	A	7.	B	12.	B	17.	C
3.	B	8.	A	13.	A	18.	B
4.	A	9.	B	14.	B	19.	B
5.	C	10.	C	15.	A	20.	A

Ömer USLU