

**PENGUENLER**

Penguenler Dünya'nın çeşitli yerlerinde ve ülkelerinde yaşamlarını sürdüren canlılardır. Yalnızca Antarktika'da yaşadıkları bilgisi ise günümüzde bilinen büyük yanlışlardan birisidir. Penguenler Şili'den Hint Okyanusu'ndaki bir adaya kadar birçok yerde yaşamakta ve kendi bünyelerinde özelliklerini sürdürmektedirler.

Bugün sizlere Güney Yarımküre'de yaşayan, bir kuş türü olan ve grup halinde yaşamayı seven penguenler hakkında bilgiler vereceğim.

🐧 Penguenler diğer kuş türlerinin özelliklerinden olan "uçma" becerisine sahip değildir.

🐧 Penguenlerin türlerine göre boyutları 35-105 cm arasında değişiklik göstermektedir.

🐧 Penguenlerin en iri olanı İmparator penguenidir. İmparator penguenlerin ağırlığı kırk beş kilodur.

🐧 Deniz ve okyanustaki balık ve kuşlarla beslenirler.

1 ve 2. soruları yukarıdaki metne göre cevaplayınız.

1. Aşağıdaki verilen bilgilerden hangisi yanlıştır?

- a) Penguenler uçma becerisine sahiptir.
- b) Penguenler bir kuş türüdür.
- c) En iri penguen imparator penguenidir.

2. İmparator penguenlerin ağırlığı kaç kilodur?

- a)  35
- b)  45
- c)  50

3. "Yaşlı kadın, ormanın kenarındaki evde kendi hâlinde yaşamış."

Bu cümlede aşağıdaki sorulardan hangisinin cevabı yoktur?

- a) Nerede?
- b) Nasıl?
- c) Niçin?

4. Aşağıdakilerin hangisinde karşıt anlamlı sözcükler bir arada kullanılmıştır?

- a) Ev halkı tarafından sıcak karşılanması ona huzur vermişti.
- b) Dikiş kutusunun dışı, mavi kadifeyle kaplıydı.
- c) Önce arkasından seslendik, sonra yanına kadar gittik.



Yandaki görselde aşağıdakilerin hangisine dikkat çekilmiştir?

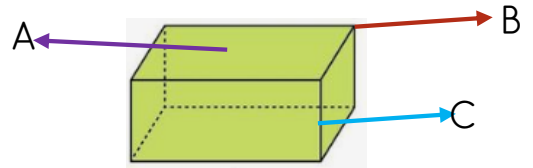
- 5. a) Hava kirliliğine
- b) Suyun değerine
- c) Çevre kirliliğine

6. Aşağıdaki kelimelerden hangisi yanlış yazılmıştır?

- a) Yanlız
- b) Şoför
- c) Çember

7. Aşağıdaki sözcüklerden hangisi sözlükte diğerlerinden sonra gelir?

- a) Eski
- b) Esir
- c) Esnaf



8.

Yukarıdaki geometrik cisimde ayrıtı gösteren harf hangisidir?

- a) A
- b) B
- c) C

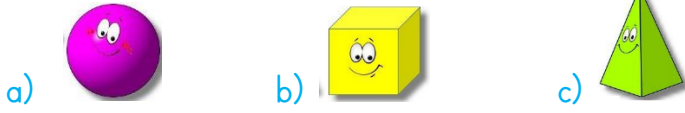
9.



Yukarıdaki geometrik şekillerin kenar sayısının 5 katı kaç yapar?

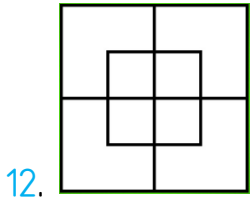
- a) 11
- b) 55
- c) 60

10. Aşağıdaki geometrik cisimlerden hangisinin ayrıntı sayısı diğerlerinden daha azdır?



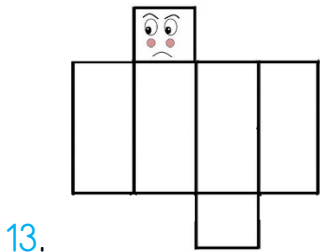
11. Aşağıdaki geometrik cisimlerden hangisi yukarıdaki verilen cisimler arasında yer almaz?

- a) Üçgen prizma b) Küp c) Koni



Yandaki şekilde kaç tane kare vardır?

- a) 6 b) 8 c) 10




Yan tarafta açılımı verilen geometrik cisim hangisidir?

- a) Küp b) Kare prizma  
c) Dikdörtgen prizma



Yandaki verilen dikdörtgenin köşegenlerini çizersen köşegenler nasıl görünür?




15. Bütün yüzleri kare şeklinde olan geometrik cisim aşağıdakilerden hangisidir?

- a) Koni b) Dikdörtgen prizma c) Küp

16. Aşağıdaki davranışlardan hangisi yanlıştır?



17.  Yandaki verilen görselin kullanım alanı aşağıdakilerden hangisidir ?

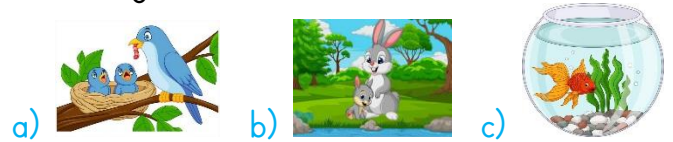
- a) Sağlık b) Eğitim c) Ulaşım

- Köprü ● Alışveriş merkezi ● Cami  
● Okul ● Park ● Baraj

18. Yukarıda verilenler aşağıdakilerden hangisine örnektir ?

- a) Yapay çevre b) Doğal çevre  
c) Sağlıklı beslenme

19. Aşağıdakilerden canlılardan hangisi doğal çevrede yaşamamaktadır?



- I. Bitmiş pilleri atık pil kutusuna atmak  
II. Deterjanlı suların toprağa ve suya karışması  
III. Orman yangınları  
20. Yukarıda verilenlerden hangileri doğal çevrenin bozulmasını sağlar?  
a) II-III b) I-II-III c) I-II

## CEVAPLAR

Adı Soyadı: .....

- |    |   |   |   |    |   |   |   |
|----|---|---|---|----|---|---|---|
| 1  | A | B | C | 11 | A | B | C |
| 2  | A | B | C | 12 | A | B | C |
| 3  | A | B | C | 13 | A | B | C |
| 4  | A | B | C | 14 | A | B | C |
| 5  | A | B | C | 15 | A | B | C |
| 6  | A | B | C | 16 | A | B | C |
| 7  | A | B | C | 17 | A | B | C |
| 8  | A | B | C | 18 | A | B | C |
| 9  | A | B | C | 19 | A | B | C |
| 10 | A | B | C | 20 | A | B | C |

## CEVAPLAR

Adı Soyadı: .....

- |    |   |   |   |    |   |   |   |
|----|---|---|---|----|---|---|---|
| 1  | A | B | C | 11 | A | B | C |
| 2  | A | B | C | 12 | A | B | C |
| 3  | A | B | C | 13 | A | B | C |
| 4  | A | B | C | 14 | A | B | C |
| 5  | A | B | C | 15 | A | B | C |
| 6  | A | B | C | 16 | A | B | C |
| 7  | A | B | C | 17 | A | B | C |
| 8  | A | B | C | 18 | A | B | C |
| 9  | A | B | C | 19 | A | B | C |
| 10 | A | B | C | 20 | A | B | C |

## CEVAPLAR

Adı Soyadı: .....

- |    |   |   |   |    |   |   |   |
|----|---|---|---|----|---|---|---|
| 1  | A | B | C | 11 | A | B | C |
| 2  | A | B | C | 12 | A | B | C |
| 3  | A | B | C | 13 | A | B | C |
| 4  | A | B | C | 14 | A | B | C |
| 5  | A | B | C | 15 | A | B | C |
| 6  | A | B | C | 16 | A | B | C |
| 7  | A | B | C | 17 | A | B | C |
| 8  | A | B | C | 18 | A | B | C |
| 9  | A | B | C | 19 | A | B | C |
| 10 | A | B | C | 20 | A | B | C |

1.	A	6.	A	11.	C	16.	B
2.	B	7.	C	12.	C	17.	C
3.	C	8.	C	13.	B	18.	A
4.	C	9.	B	14.	A	19.	C
5.	B	10.	A	15.	C	20.	A

Ömer USLU