

## ZAMANI ÖLÇME

1.Etkinlik : Aşağıdaki soruları örnekteki gibi işlem yaparak cevaplayalım.



2 saat 15 dakika son-  
rasında saat kaç olur?

$$\begin{array}{r} 04.00 \\ + 2.15 \\ \hline 06.15 \end{array}$$



1 saat 25 dakika son-  
rasında saat kaç olur?



3 saat 30 dakika son-  
rasında saat kaç olur?



1 saat 15 dakika ön-  
cesinde saat kaç olur?



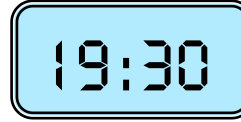
2 saat 25 dakika ön-  
cesi saat kaç olur?



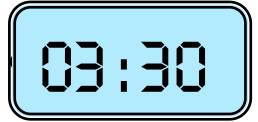
3 saat 10 dakika ön-  
cesinde saat kaç olur?



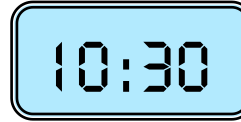
2 saat 15 dakika son-  
rasında saat kaç olur?



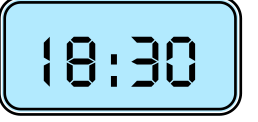
1 saat 15 dakika ön-  
cesinde saat kaç olur?



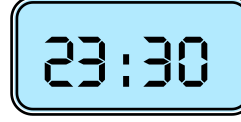
4 saat 25 dakika son-  
rasında saat kaç olur?



2 saat 5 dakika ön-  
cesinde saat kaç olur?



3 saat 20 dakika son-  
rasında saat kaç olur?



4 saat 15 dakika ön-  
cesinde saat kaç olur?