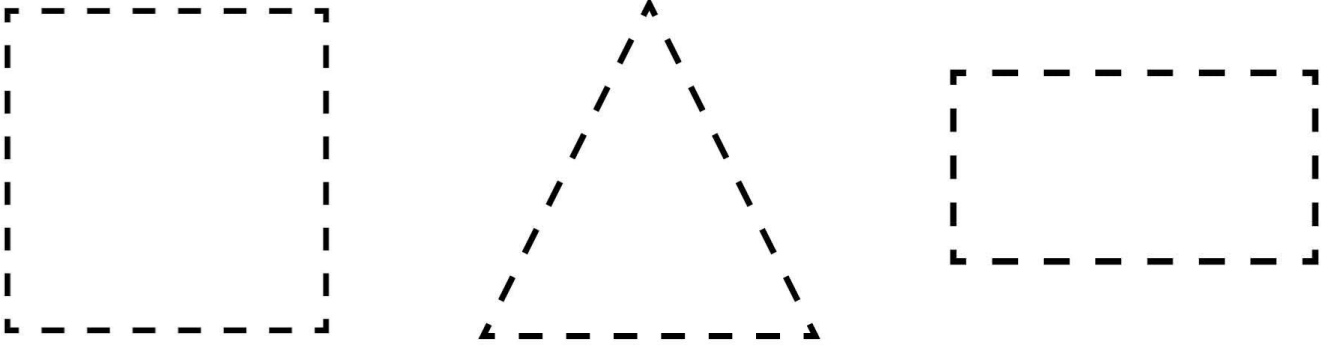


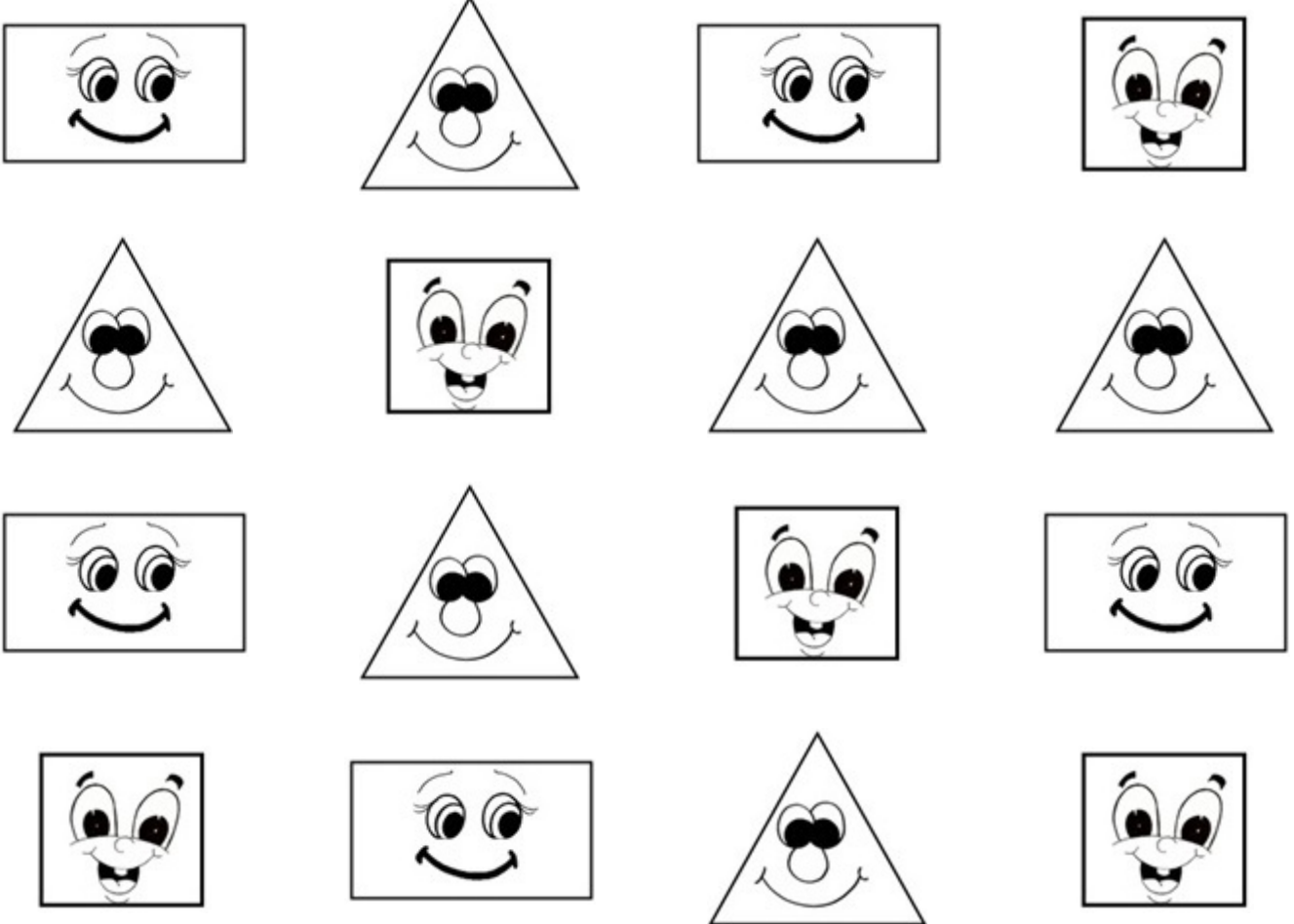
# 1. SINIF GEOMETRİK ŞEKİLLER ETKİNLİKLERİ - 1

✚ Şekillerin kenarlarını mavi ile çiziniz, köşelerini kırmızı ile işaretleyiniz.



✚ Şekilleri verilen ifadelere göre boyayınız.

- 3 köşesi ve 3 kenarı olan şekilleri turuncu renge boyayınız.
- 4 köşesi ve 4 eşit kenarı olan şekilleri mor renge boyayınız.
- Dikdörtgenleri yeşil renge boyayınız.




✚ Şekillerle alakalı boşlukları doldurunuz.



Benim adım .....  
..... kenarım, ..... köşem var.  
Tüm kenar uzunluklarım eşittir.



Benim adım .....  
..... kenarım, ..... köşem var.



Benim adım .....  
..... kenarım, ..... köşem var.  
Karşılıklı kenar uzunluklarım  
birbirine eşittir.



Benim adım .....  
Köşem ve kenarım yok.

✚ Şekilleri istenen renklerle boyayınız.

kare	dikdörtgen	üçgen	çember
sarı	pembe	mavi	yeşil

