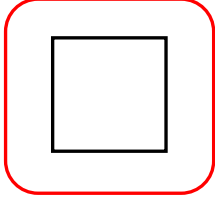


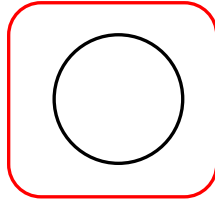


## GEOMETRİK ŞEKİLLER


☆ Aşağıda geometrik şekillerle ilgili verilen doğru bilgilerin çiçeğini maviye , yanlış bilgilerin çiçeğini kırmızıya boyyalım.



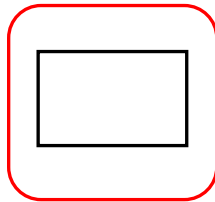
- Şeklin adı dikdörtgendir.
- Bütün kenar uzunlukları eşittir.
- Dört kenarı vardır.
- Üç köşesi vardır.



- Şeklin adı çemberdir.
- Çemberin kenarı yoktur.
- Çemberin dört köşesi vardır.
- Çemberin üç kenarı vardır.




- Şeklin adı üçgendir.
- Üçgenin dört kenarı vardır.
- Üçgenin kenarı yoktur.
- Üçgenin üç köşesi vardır.



- Şeklin adı dikdörtgendir.
- Dikdörtgenin üç kenarı vardır.
- Dikdörtgenin karşılıklı kenar uzunlukları eşittir.
- Dikdörtgenin üç köşesi vardır.

☆ Aşağıdaki görselde kullanılan geometrik şekillerin sayılarını yazınız.



- Kare : .....
- Çember : .....
- Dikdörtgen : .....
- Üçgen : .....

