









## KELİME OLUŞTURMA

☼ Aşağıda verilen kelimelerin belirtilen heceleriyle yeni kelimeler oluşturalım.

2. efsane sa	1. lahana la	3. ayakta ta	→	salata 
1. ilginç ...	2. kasko ...	1. kulvar ...	→	..... 
3. kaburga ...	2. gezegen ...	2. yetenek ...	→	..... 
2. kapıcı ...	2. arayış ...	3. bulunsa ...	→	..... 
3. kasaba ...	2. yataklı ...	3. aralık ...	→	..... 
1. idare ...	2. tekin ...	3. izdiham ...	→	..... 
3. lavabo ...	1. yarasa ...	3. korumak ...	→	.....

## TÜRKÇE

1. ETKİNLİK : Aşağıdaki cümlelerde boş bırakılan yerlere verilen kelimelerden uygun olanını yazalım.

Nuri bir ..... su iç .

Can çöpü ..... .

Tuna köyde iki ..... kaldı.

Topu eve ..... .

Musa ..... yedi .

Mete ..... oynadı.

Arda iki ..... attı.

Jale camı ..... .

gol	gün	dök	koy
top	sil	tas	muz



2. ETKİNLİK : Aşağıda karışık olarak verilen kelimelerle anlamlı bir cümle oluşturalım.

1. ( geç , Ayşe , kaldı , okula )

2. ( toplamış , bahçeden , çiçek , Buğlem )

3. ( Bedirhan , içti , süt , ılık )

4. ( tuz , İdris , ete , attı )

5. ( kırmızı , Ahmet , buldu , kalemmini )

6. ( annesine , eder , Rana , yardım )


3. ETKİNLİK : Bulmacadaki gizli hayvan isimlerini bulalım.

K	A	E	Ş	E	K	H	E	K	B
H	C	Ş	A	Y	E	D	Z	O	İ
İ	N	E	K	S	D	V	O	Y	Ç
N	E	H	L	Ö	İ	R	D	U	K
D	T	K	İ	Y	H	M	Ö	N	H
İ	R	A	T	A	V	U	K	O	K
S	T	Z	Ö	R	F	A	U	P	E
U	F	G	S	H	O	R	O	Z	Ç
D	Ö	R	D	E	K	L	T	E	İ

KAZ - KEÇİ - EŞEK - TAVUK

HOROZ - ÖRDEK - İNEK - KOYUN

KEDİ - HİNDİ





## 23 NİSAN



Bugün Yirmi Üç Nisan,  
Toplandı bütün vatan,  
Millet Meclisimize  
Atatürk oldu başkan




Kaldırdı hasta yurdu,  
Yılmaz bir ordu kurdu,  
Türk'ün şanlı sesini,  
Dünyalara duyurdu.

Yükseldi bayrağımız,  
Koparıldı bağımız,  
Sultandan ayrılınca,  
Kurtuldu toprağımız.

Türk çocuğu gül, sevin,  
Yaşa yurdunda emin,  
Bugünü an bayram et,  
Bugün senindir, senin.



Vasfi Mahir Kocatürk



☆ Aşağıdaki soruları metne göre cevaplayalım.

1. Bütün vatan ne zaman toplanmış?

2. Millet Meclisine kim başkan olmuş?

3. Atatürk nasıl bir ordu kurmuş?

4. Atatürk dünyalara neyi duyurmuş?

5. Ne zaman toprağımız kurtulmuş?

6. 23 Nisan günü kiminmiş?

## GEOMETRİK ŞEKİLLER

1.)



Aşağıdaki geometrik şekillerin adlarını altlarına yazınız.



.....



.....



.....



.....

2.)



Aşağıda verilen geometrik şekillerin adlarını eşleştiriniz.



1 DİKDÖRTGEN

2 ÜÇGEN

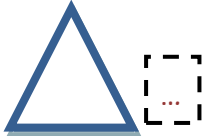

3 ÇEMBER

4 KARE

3.)



Aşağıda verilen geometrik şekillerle özelliklerini eşleştiriniz.



1 Köşesi ve kenarı yoktur.

2 Eşit uzunlukta dört kenarı ve dört köşesi vardır.

3 Birbirine eşit 2 uzun kenarı ve birbirine eşit 2 kısa kenarı vardır. 4 köşesi vardır.

4 3 kenarı ve 3 köşesi olan şekildir.

4.)



Aşağıda verilen geometrik şekillerin kenar sayısı ve köşe sayısını yazınız.



Kenar sayısı: .....

Köşe sayısı: .....



Kenar sayısı: .....

Köşe sayısı: .....



Kenar sayısı: .....

Köşe sayısı: .....



Kenar sayısı: .....

Köşe sayısı: .....

## GEOMETRİK ŞEKİLLER

1. Etkinlik : Aşağıdaki geometrik şekillerin adlarını , kenar ve köşe sayılarını yazalım.




Kenar sayısı: .....

Köşe sayısı: .....



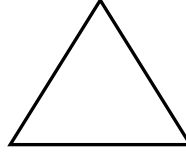
Kenar sayısı: .....

Köşe sayısı: .....



Kenar sayısı: .....

Köşe sayısı: .....



Kenar sayısı: .....

Köşe sayısı: .....

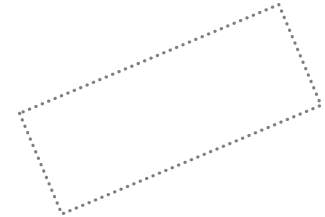
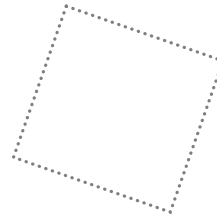
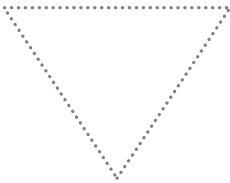
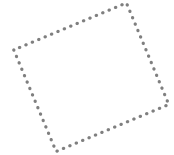
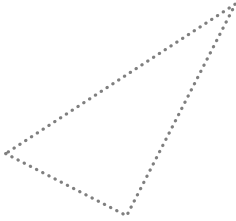
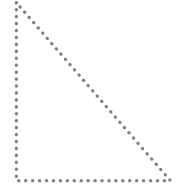


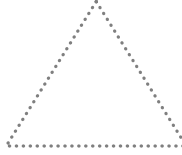
2. Etkinlik : Aşağıdaki geometrik şekilleri belirtilen renklerle çizelim. Şekillerin her birinden kaç tane olduğunu yazalım.

Üçgen → kırmızı

Çember → mavi

Dikdörtgen → kahverengi

Kare → yeşil



Üçgen → .....

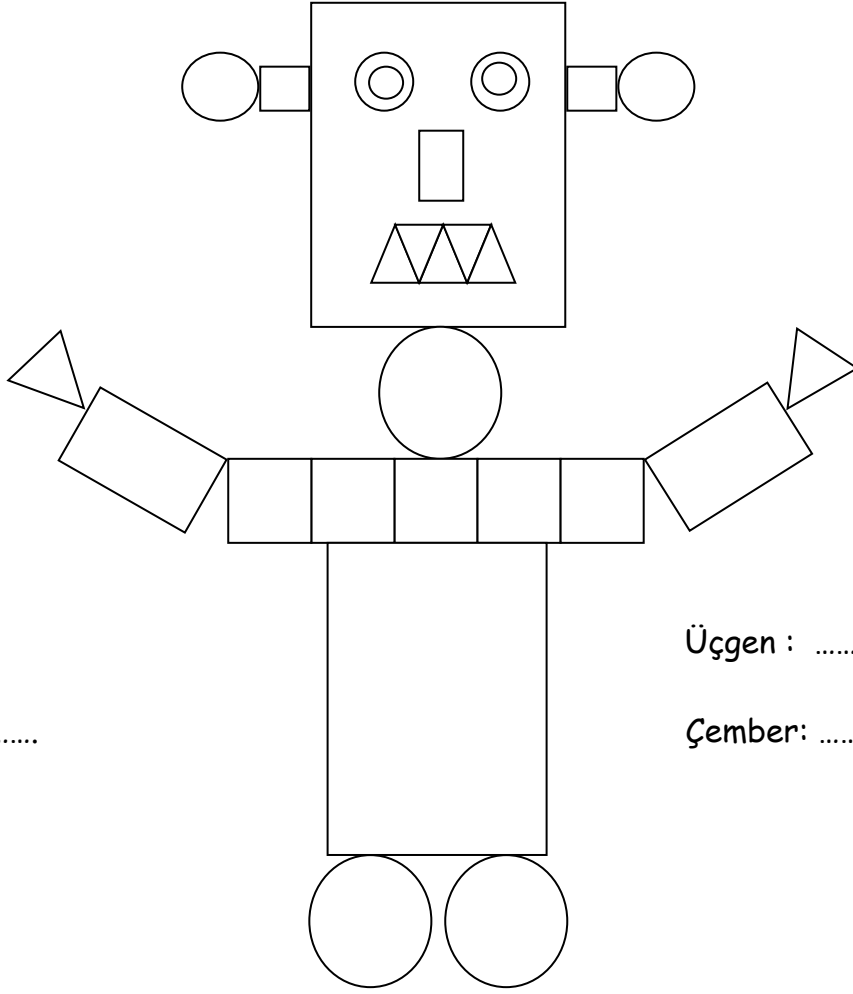
Çember → .....

Dikdörtgen → .....

Kare → .....

# GEOMETRİK ŞEKİLLER

⌘ Resimlerdeki geometrik şekillerin sayılarını yazalım, sonra boyayalım.




Kare : .....

Dikdörtgen : .....


Üçgen : .....

Çember: .....



Kare : ..... Üçgen: .....

Dikdörtgen: ..... Çember: .....


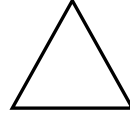


Kare : ..... Üçgen: .....

Dikdörtgen: ..... Çember: .....

## GEOMETRİK ŞEKİLLER

1. Yanda verilmiş uzunlukları eşit olan 4 çubukla hangi şekli yapabiliriz?



2. Yandaki şeklin köşe ve kenar sayısı hangi seçenekte doğru verilmiştir ?



4 kenar  
4 köşe



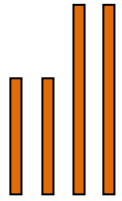

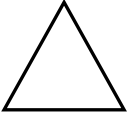
4 kenar  
6 köşe





3 kenar  
3 köşe



3. Yanda verilmiş çubuklarla hangi şekli yapabiliriz?



4. Yanda verilen şişe kapağı ile hangi şekli çizebiliriz?



5. Hangi harfin yazılı olduğu şeklin köşesi yoktur?



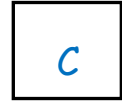
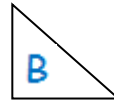
A



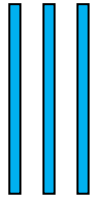
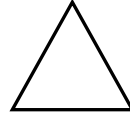

B





C



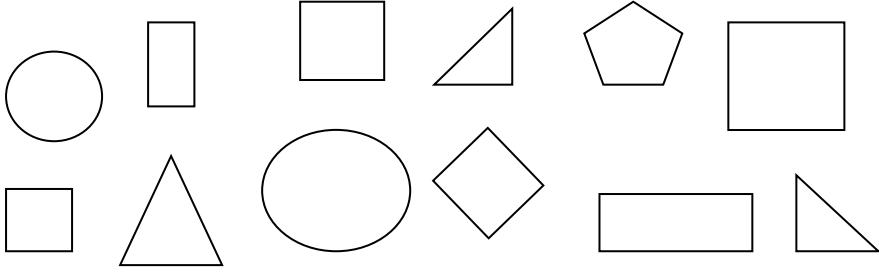
6. Yanda verilmiş çubuklarla hangi şekli yapabiliriz?



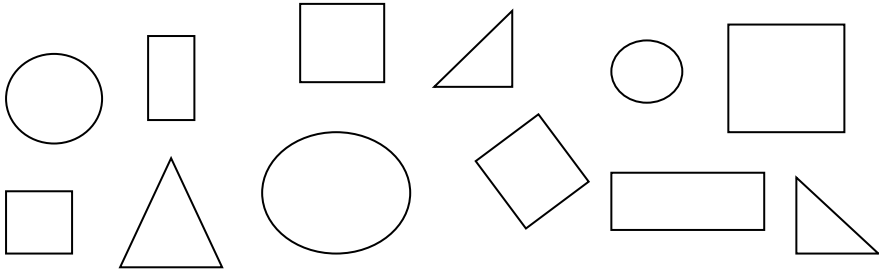
7. Aşağıdakilerden hangisinin köşe ve kenar sayısı diğerlerinden farklıdır ?



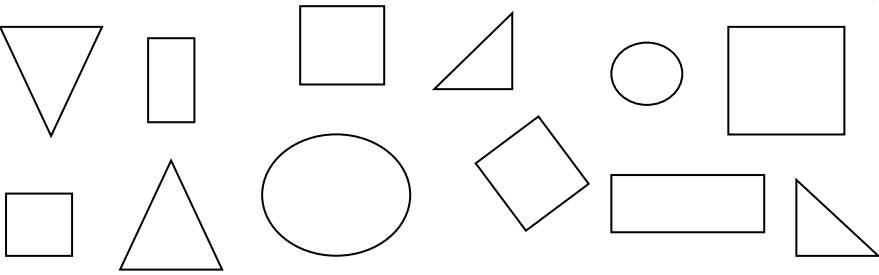
Kareleri boyayalım.



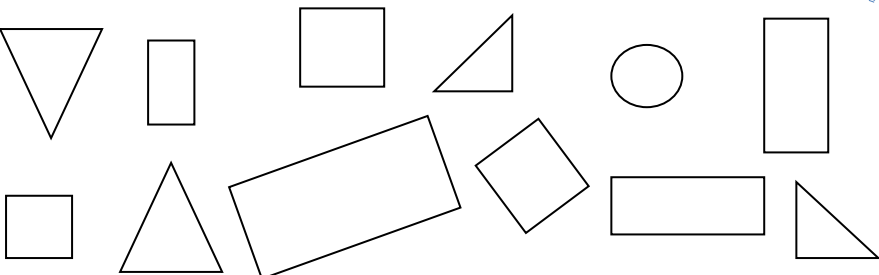
Cemberleri boyayalım.





Üçgenleri boyayalım.



Dikdörtgenleri boyayalım.



Resimde geometrik şekillerden kaç tane olduğunu yazalım. Resmi boyayalım.

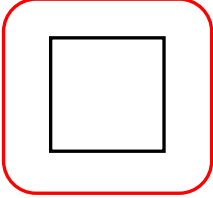




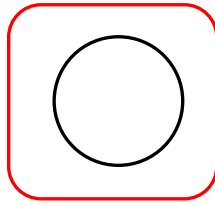


## GEOMETRİK ŞEKİLLER


☆ Aşağıda geometrik şekillerle ilgili verilen doğru bilgilerin çiçeğini maviye , yanlış bilgilerin çiçeğini kırmızıya boyyalım.



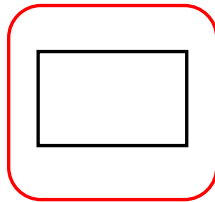
- Şeklin adı dikdörtgendir.
- Bütün kenar uzunlukları eşittir.
- Dört kenarı vardır.
- Üç köşesi vardır.



- Şeklin adı çemberdir.
- Çemberin kenarı yoktur.
- Çemberin dört köşesi vardır.
- Çemberin üç kenarı vardır.




- Şeklin adı üçgendir.
- Üçgenin dört kenarı vardır.
- Üçgenin kenarı yoktur.
- Üçgenin üç köşesi vardır.



- Şeklin adı dikdörtgendir.
- Dikdörtgenin üç kenarı vardır.
- Dikdörtgenin karşılıklı kenar uzunlukları eşittir.
- Dikdörtgenin üç köşesi vardır.

☆ Aşağıdaki görselde kullanılan geometrik şekillerin sayılarını yazınız.



- Kare : .....
- Çember : .....
- Dikdörtgen : .....
- Üçgen : .....

