

1) Aşağıdaki cümlelerin hangisinde "ısınmak" kelimesi **mecaz anlamda** kullanılmıştır?

- A) Soba yanınca oda ısındı.
- B) Elif, arkadaşlarına çabuk ısındı.
- C) Mayıs ayında havalar ısındı.
- D) Çaydanlıktaki su ısınmış.

2) Aşağıdaki cümlelerin hangisinde altı çizili sözcük **gerçek anlamda** kullanılmıştır?

- A) Ablam annemin sözünü kesti.
- B) Mert çok uyanık bir çocuk.
- C) Bu yanlışlık gözümden kaçmış.
- D) Soner merdivenlerden inerken düştü.

3) Aşağıdaki cümlelerin hangisinde altı çizili sözcük **terim anlamda** kullanılmıştır?

- A) Doktor ameliyat için gerekli tahlilleri istedi.
- B) Suna yeni aldığı kitabı çabucak okumuş.
- C) Annem kırmızı elbiseyi çok beğendi.
- D) Gaye limonlu kek yaptı.

4) Ozanlar, Ankarada TBMM nin bahçesinde Gökhan Beyle görüşmüşler.

Yukarıdaki cümlede kaç yerde kesme işareti kullanılmalıdır?

- A) 3
- B) 1
- C) 2
- D) 4

5) Aşağıdaki cümlelerin hangisinde "bozulmak" kelimesi "Bir şeye kızmak, içerlemek." anlamında kullanılmıştır?





- A) Yeni aldığımız televizyon çabuk bozuldu.
- B) Amcamların araba yolda bozulmuş.
- C) Rana söylediklerime bozuldu.
- D) Babam gelince planımız bozuldu.

6)  $6 \text{ km} + 900 \text{ cm} + 60 \text{ m}$

Yukarıdaki işlemin sonucu kaç metreye eşittir?

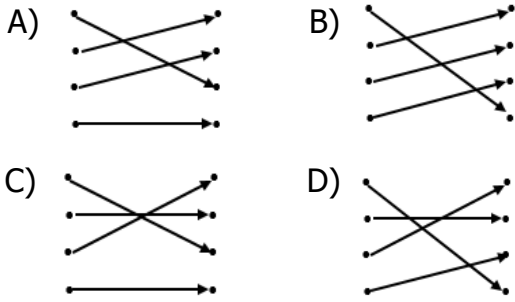
- A) 6906
- B) 6096
- C) 6069
- D) 6609

7) Aşağıdaki hayvanların gerçek boyutları düşünüldüğünde hangisinin boyu milimetre cinsinden ölçülebilir?

- A) 
- B) 
- C) 
- D) 

- 8) 4000 m • 3 m 8 cm  
 308 cm • 12000 m  
 12 km • 40 cm  
 400 mm • 4 km

Yandaki uzunlukların eşleştirilmesi doğru pıldığında aşağıdakilerden hangisi ortaya çıkar?







- 9) Aşağıdakilerden hangisini milimetre ile ölçmek daha uygundur?

- A) Bir ağacın boyu  
 B) Bir kitabın uzunluğu  
 C) İki şehir arasındaki mesafe  
 D) Bir örümceğin boyu

10)







Yukarıdaki kurdelenin uzunluğunu çocuklardan hangisi doğru tahmin etmiş olabilir?


- A)  9 cm B)  11 cm  
 C)  7 cm D)  5 cm

- 11) Aşağıdakilerden hangisi ailemize karşı sorumluluklarımızdan **değildir**?

- A) Odamızı toplamak.  
 B) Çiçekleri sulamak.  
 C) Aile fertlerine sevgi ve saygı göstermek.  
 D) Arkadaşımızın ödevlerine yardım etmek.

- 12)  Bireyler sorumluluk duygusuyla ilk olarak okulda tanışırlar.  
 Üzerimize düşen görevleri yapmak sorumluluktur.  
 Düzenli bir aile hayatı için sorumlulukları yerine getirmek gerekir.  
 Üzerimize düşen sorumlulukları yapmak zorunda değiliz.

Yukarıdaki ifadelerden hangileri **yanlıştır**?

- A)   B)    
 C)   D)  

- 13) I – Annemizin odamızı toplaması.

II- Okul kurallarına uymak.

III- Gerektiğinde verdiğimiz sözleri tutmak.

IV- Evdeki görevlerimizi yerine getirmek.

Yukarıdakilerden hangileri sorumluluk anlayışına uygun davranışlardır?

- A) II - IV B) II - III  
 C) III - IV D) I – IV

14) Sorumluluk duygusu olan çocuklarda aşağıdakilerden hangisi gözlemlenir?

- A) Kendi ihtiyaçlarını karşılayamazlar.
- B) Hep büyüklerden yardım isterler.
- C) Çocukların öz güvenleri artar.
- D) Bağımsız davranamazlar.

15) Melih her gün yatağını toplamaktadır. Odası hep düzenlidir. Elbiselerini katlayarak dolabına kor. Verdiği sözleri tutar. Yalan söylemez.

Melih için aşağıdakilerden hangisi **söylenemez**?

- A) Sorumluluklarını yerine getiren bir çocuk
- B) Dağınık bir çocuk
- C) Bilinçli bir çocuk
- D) Düzenli bir çocuk

16) △ Helikopter sesi

- ▣ İtfaiyenin siren sesi
- ◇ İş makinalarının sesi
- Korna sesi

Yukarıdaki seslerden hangisi insan sağlığını olumsuz etkilemez?

- A) ▣
- B) ◇
- C) ●
- D) △

17)  Ses kirliliği uykusuzluğa neden olur.  
 Ses kirliliği çalışma verimini azaltır.  
 Şiddetli sesler camların kırılmasına neden olabilir.

Yukarıdaki ifadelerden doğru olanlara "D", yanlış olanlara "Y" yazarsak hangi sonuç ortaya çıkar?

- A) 





|   |
|---|
| D |
| Y |
| Y |
- B) 

|   |
|---|
| D |
| D |
| Y |
- C) 

|   |
|---|
| D |
| D |
| D |
- D) 

|   |
|---|
| D |
| Y |
| D |

18) Aşağıdakilerden hangisi ses kirliliğini önlemek amacıyla **kullanılamaz**?

- A) 
- B) 
- C) 
- D) 

19) Aşağıdaki görsellerden hangisi ses kirliliğine yönelik alınmış önlemlerden biridir?

- A) 
- B) 
- C) 
- D) 

20) Aşağıdakilerden hangisi **yanlıştır** ?

- A) Ses kirliliđi köylerde azdır.
- B) Yüksek sesle müzik dinlemek insanı rahatlatır.
- D) Ormanlar gürültüden uzak yerlerdir.
- E) Ses kirliliđi hayvanlara da zarar verir.

## CEVAP ANAHTARI

| TÜRKÇE | MATEMATİK | SOSYAL BİL. | FEN BİLİM. |
|--------|-----------|-------------|------------|
| 1) B   | 6) C      | 11) D       | 16) A      |
| 2) D   | 7) C      | 12) D       | 17) C      |
| 3) A   | 8) B      | 13) A       | 18) A      |
| 4) A   | 9) D      | 14) C       | 19) D      |
| 5) C   | 10) A     | 15) B       | 20) B      |