

Adı :


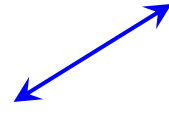
Soyadı:

3. Sınıf Matematik

Geometride Temel Kavramlar-2

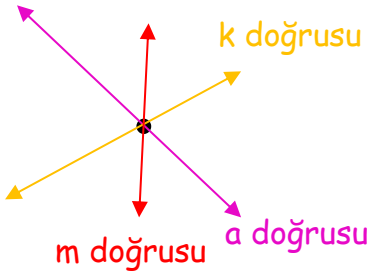


DOĞRU: Başlangıcı ve sonu belli olmayan düz çizgidir. Doğrular küçük harfle isimlendirilir.

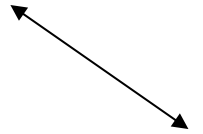

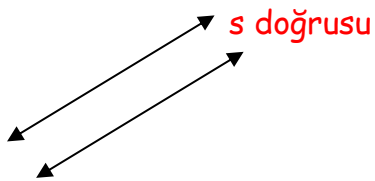


↔ a doğrusu

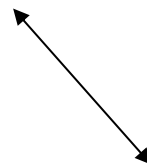
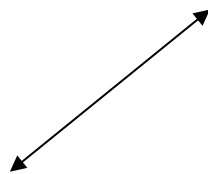
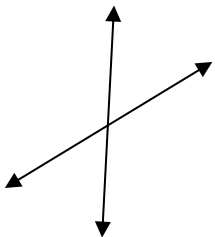
Aşağıda verilen noktalardan geçen 3'er tane doğru çiziniz. İsim veriniz.



Verilen doğrulara paralel bir tane doğru çiziniz. İsim veriniz.



Verilen doğrulara kesişen bir tane doğru çiziniz. İsim veriniz.



Adı :

Soyadı:

3. Sınıf Matematik

Geometride Temel Kavramlar-2



DOĞRU PARÇASI:

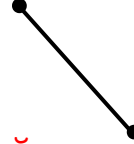
Başlangıcı ve sonu belli olan düz çizgidir. Bir noktadan başlar, bir noktada biter. Doğru parçaları yatay, dikey, ve eğik olabilir.



Yatay doğru parçası



Dik doğru parçası



Eğik doğru parçası



Eğik doğru parçası

Verilen harflerde kaçar tane doğru parçası olduğunu yazınız.

A

| |
|--|
| |
| |
| |

Dikey doğru parçası
Yatay doğru parçası
Eğik doğru parçası

M

| |
|--|
| |
| |
| |

Dikey doğru parçası
Yatay doğru parçası
Eğik doğru parçası

T

| |
|--|
| |
| |
| |

Dikey doğru parçası
Yatay doğru parçası
Eğik doğru parçası

E

| |
|--|
| |
| |
| |

Dikey doğru parçası
Yatay doğru parçası
Eğik doğru parçası

Verilen çizgilerin ne olduklarını yazınız.

