

Adı :
Soyadı:

2. Sınıf
Hayat Bilgisi

Ülkemizde Hayat
Üretim

ÜRETİM YAPIYORUZ

İnsanlar geçimlerini sağlamak için para kazanmak zorundadırlar. Para kazanmak için birçok meslek ve iş vardır. Şehirlerde yaşayan insanlar daha çok sanayi (fabrikalarda ve atölyelerde) işlerinde çalışırlar. Köylerde yaşayanlar ise tarım ve hayvancılık yaparak para kazanırlar.

Tarım: Ülkemizde özellikle köylerde geniş tarlalara ağaçlar, bitkiler, meyveler ve sebzeler dikerler. Bu diktiklerini fabrikalara, pazarlarda, dükkanlarda, manavlarda satarak para kazanırlar.

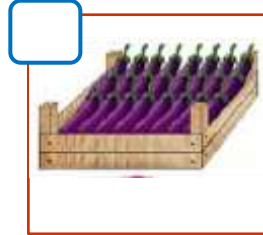


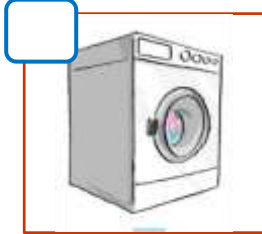


Hayvancılık: Özellikle köylerde hayvan yetiştirilir. Yetiştirilen bu hayvanlardan elde edilen ürünleri satarak para kazanırlar. Hayvanlardan et, süt, yün, yumurta, bal gibi ürünler elde edilir. Deniz kenarında balıkçılık yapılır.

Sanayi: İnsanlar şehirlerde fabrika ve atölye denilen sanayi işletmelerinde çalışırlar. Tarım ve hayvancılıktan elde edilen ürünler sanayi işletmelerinde yeni ürünler elde edilir. Ayrıca inşaat ürünleri, tekstil, otomotiv, beyaz eşya üretimi, madencilik gibi birçok sanayi işletmesi vardır.



Üretim türlerini yazalım. **Sanayi (S)** **Tarım (T)** **Hayvancılık (H)**



Adı :

Soyadı:

2. Sınıf Hayat Bilgisi

Ülkemizde Hayat Üretim

Haritada ülkemizde yetiştirilen bazı tarım ürünleri gösterilmiştir. Hangi ürün hangi şehirde daha çok yetiştirilmektedir? Yazınız.



Fındık

Domates

Buğday

.....

.....

.....

Sarımsak

Karpuz

Patates

.....

.....

.....

Üzüm

Ay Çiçeği

Gül

.....

.....

.....

İncir

Nar

Muz

.....

.....

.....

Adı :

Soyadı:

2. Sınıf Hayat Bilgisi

Ülkemizde Hayat Üretim

Haritada ülkemizde yetiştirilen hayvanlar gösterilmiştir. Hangi ürün hangi şehirde daha çok yetiştirilmektedir? Yazınız.



Ari
Balık
Deve
Horoz

İnek
Koyun
Keçi
Tavuk

Adı :

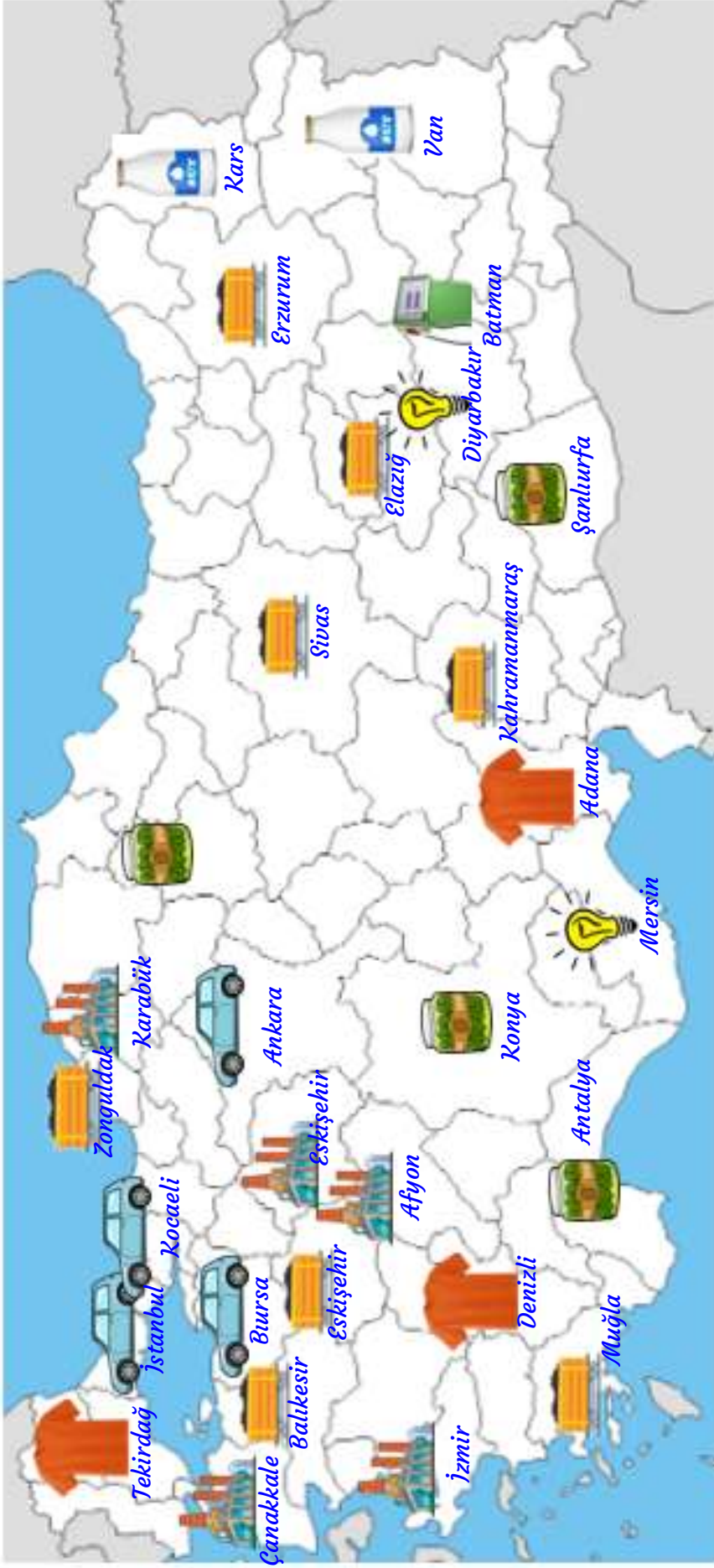
Soyadı:

2. Sınıf Hayat Bilgisi

Ülkemizde Hayat Üretim

Haritada ülkemizde sanayi çeşitleri gösterilmiştir. Hangi şehirlerimizde hangi sanayi ürünleri üretilmektedir?

Yazınız.



Petrol	Maden
Elektrik	Fabrika
Otomotiv	Tekstil
Gıda	Süt Ürünleri

Adı :

Soyadı:

2. Sınıf
Hayat Bilgisi

Ülkemizde Hayat
Üretim

Yaşadığınız şehirdeki ürünleri yazınız.

TARIM

1-

2-

3-

4-

5-

HAYVANCILIK

1-

2-

3-

4-

5-

Şehrimizde bulunan fabrika ve sanayi işletmelerini yazınız.



.....



.....



.....



.....

Aşağıdaki görsellerde anlatılan bir cümle kurunuz.



.....



.....

Adı :
Soyadı:

2. Sınıf
Hayat Bilgisi

Ülkemizde Hayat
Üretim

Boşlukları dolduralım.






köylerde

fabrikalarda

hayvansal

balıkçılık

para

-  Ülkemizde deniz kenarında olan şehirlerde.....yapılır.
-  Tarım ve hayvancılık daha çokyapılır.
-  İnsanlar geçimlerini sağlamak içinkazanmak zorundadırlar.
-  Besinlerimizin çoğu bitki veürünlerden elde edilir.
-  Hayvanlardan ve bitkilerden elde edilen ürünlerişlenir.

Doğru mu? Yanlış mı?

- () Bal üretmek için arıcılık yapılır.
- () Demir, bakır, kömür gibi madenler toprağın içinden çıkarılır.
- () Ülkemiz tarım ve hayvancılık yönünden çok gelişmiş bir ülkedir.
- () Ülkemizde yer altı madenleri çok az çıkarılmaktadır.
- () Yaşadığımız şehir sanayi yönünden çok gelişmiştir.

Doğru seçeneği işaretleyelim.



1 Yukarıdaki Antalya şehrinin haritasına göre hangi sanayi ürünü yoktur?

- (A) Gıda sanayisi
(B) Maden sanayisi
(C) Otomotiv sanayisi

2 Tarım en çok nerelerde yapılmaktadır?

- (A) Şehirlerde (B) Köylerde (C) Deniz kenarında

3 İnsanlar geçimlerini sağlamak için ne yapmalıdırlar?

- (A) Para kazanmak için çalışırlar.
(B) Alışveriş yaparak para harcarlar.
(C) Fabrikalarda çalışmalılar.

Adı :
Soyadı:

2. Sınıf
Hayat Bilgisi

Ülkemizde Hayat
Üretim

Dikkatli okuyalım. Cevabını işaretleyelim. Nedenini açıklayalım.



Yukarıda verilen ürünler aşağıdaki şehirlerde üretilmektedir.

İstanbul : Sanayi şehridir.

Antalya : Tarım şehridir.

Konya : Hayvancılık şehridir.

Yukarıdaki ürünlerle şehirlerin eşleştirilmesi hangisinde doğrudur?

	İstanbul	Antalya	Konya
A	1-5	2-3	2-6
B	1-4	3-4	3-4
C	1-5	3-6	2-4
D	4-5	2-6	4-6

Beyza: Köyde yaşıyor. Çok büyük tarlaları var. Tarlalarında buğday, şeker pancarı, salatalık ve çilek yetiştiriyor.

Ayberk: Babası beyaz eşya fabrikasında mühendis olarak çalışıyor.

Gülşen: Ailesi köyde yaşıyor. Çok büyük tavuk çiftliği var. Yumurtaları marketlere satarak para kazanıyorlar.

Yukarıda çocukların geçim yollarını aşağıdaki şekilde eşleştiriniz.

Gülşen



Beyza

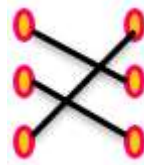


Ayberk

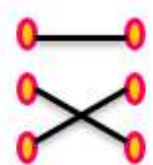


Yukarıdaki eşleştirmede oluşan şekil hangisidir?

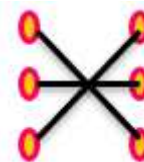
A



B



C



D

