


# 1. SINIF MATEMATİK - 2. DÖNEM TEKRAR ETKİNLİĞİ - 4

✚ Paralarla ilgili problemleri çözünüz.

	6 Lira
---	--------

	8 Lira
---	--------

	12 Lira
---	---------

Toka ve makas alırsam kaç lira ödemem gerekir?



Çözüm:

Çorap ve toka alırsam kaç lira ödemem gerekir?



Çözüm:

Makas ve çorap alırsam kaç lira ödemem gerekir?



Çözüm:

✚ Verilmeyen toplananları bulunuz.

$$\boxed{6} + \boxed{\phantom{00}} = \boxed{10}$$

$$\boxed{\phantom{00}} + \boxed{5} = \boxed{13}$$

$$\boxed{\phantom{00}} + \boxed{9} = \boxed{15}$$

$$\boxed{7} + \boxed{\phantom{00}} = \boxed{14}$$

✚ Toplama-çıkarma gerektiren problemleri çözünüz.

1

Bir sınıfta 9 erkek öğrenci, 7 kız öğrenci vardır. Bu sınıfta toplam kaç öğrenci vardır?




2


Kumbaramdaki 14 liranın 6 lirasını harcadım. Kaç liram kaldı?



✚ Varlıkların altına bütün veya yarım yazınız.



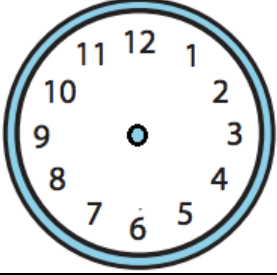



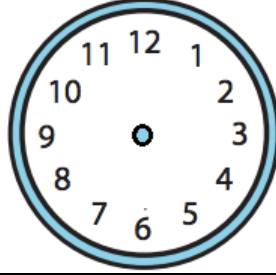




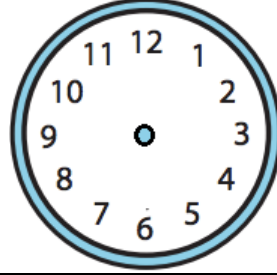
✚ Yazılışları verilen saatlerin akrep ve yelkovanlarını çiziniz.



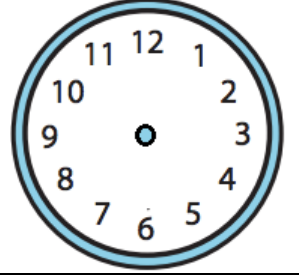
05.00



11.30



03.00



07.30

✚ Tablolardaki eksik günleri yazınız.

1	2	3	4	5	6	7
Pazartesi					Cumartesi	

✚ Yılın aylarını sırasıyla yazınız.

1.	Ocak
2.	
3.	
4.	

5.	
6.	
7.	
8.	

9.	
10.	
11.	
12.	Aralık

✚ Toplama - çıkarma alıştırmalarını yapınız.

$$\begin{array}{r} 8 \\ + 5 \\ \hline \end{array}$$

$$\begin{array}{r} 6 \\ + 6 \\ \hline \end{array}$$

$$\begin{array}{r} 12 \\ + 4 \\ \hline \end{array}$$

$$\begin{array}{r} 10 \\ + 8 \\ \hline \end{array}$$

$$\begin{array}{r} 13 \\ + 7 \\ \hline \end{array}$$

$$\begin{array}{r} 7 \\ - 5 \\ \hline \end{array}$$

$$\begin{array}{r} 9 \\ - 3 \\ \hline \end{array}$$

$$\begin{array}{r} 8 \\ - 8 \\ \hline \end{array}$$

$$\begin{array}{r} 12 \\ - 5 \\ \hline \end{array}$$

$$\begin{array}{r} 17 \\ - 4 \\ \hline \end{array}$$