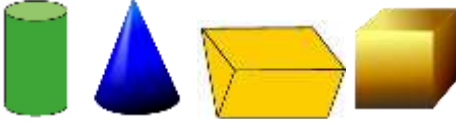


Adı :
Soyadı:

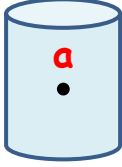
3. Sınıf Matematik

Geometri Genel Yaprak Test-1



1 Aşağıdakilerden hangisi yukarıda verilen cisimlerden değildir?

- (A) Koni
- (B) Küp
- (C) Küre

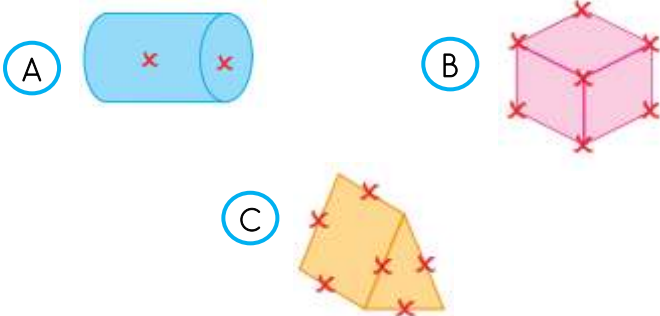


2 Yukarıdaki a noktası geometrik cismin neresinde bulunmaktadır?

- (A) Yüz
- (B) Orta
- (C) Ayrıt

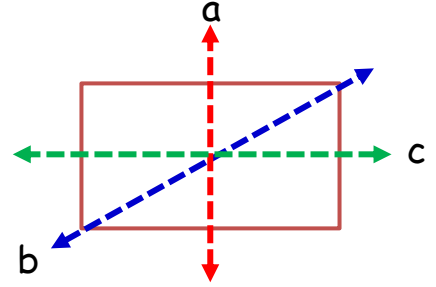
Ayrıt: İki köşeyi birleştiren doğru parçasıdır.

3 Aşağıdaki geometrik cisimlerden hangisinde ayrıtlar gösterilmiştir?



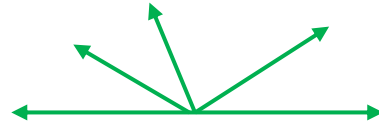
4 Aşağıdakilerden hangisi noktaya örnek **değildir**?

- (A) Kalem ucunun bıraktığı iz.
- (B) Ayağımızın yerde bıraktığı iz.
- (C) Yüzümüzdeki ben.



5 Yukarıdaki dikdörtgenin köşegeni hangi harfle gösterilmiştir?

- (A) a
- (B) b
- (C) c



6 Yukarıdaki şekilde kaç tane açı vardır?

- (A) 5
- (B) 4
- (C) 3

Adı :
Soyadı:

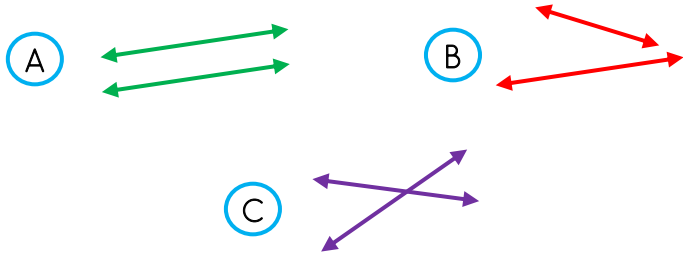
3. Sınıf
Matematik

Geometri Genel
Yaprak Test-1

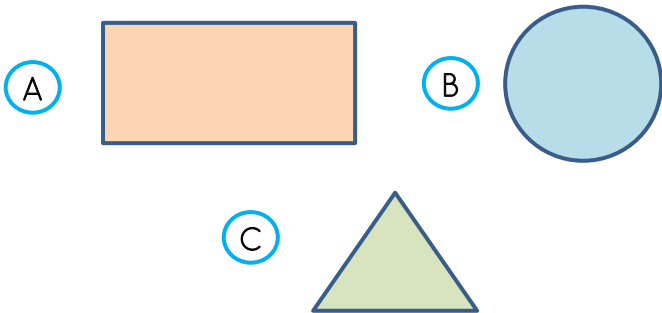
7 Aşağıdaki harflerden hangisinde en fazla yatay doğru parçası vardır?



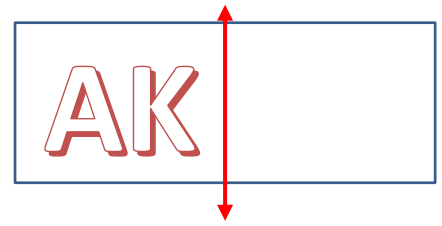
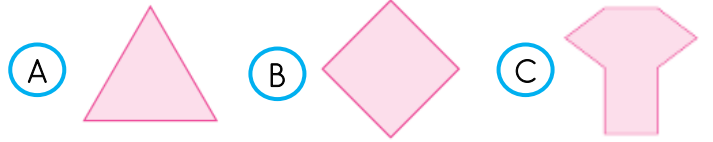
8 Aşağıdaki doğrulardan hangisi birbirine paralel çizilmiştir?



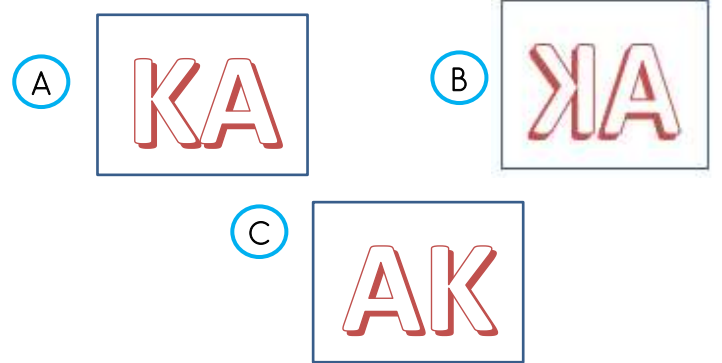
9 Aşağıdaki geometrik şekillerden hangisinde en fazla simetri doğrusu çizilebilir?



10 Aşağıdaki şekillerden hangisinin hem yatay hem de dikey simetri doğrusu vardır?



11 Yukarıdaki şeklin simetriği hangisinde verilmiştir?



Doğru :

Yanlış:

- | | | | |
|---|-------------|----|-------------|
| 1 | (A) (B) (C) | 7 | (A) (B) (C) |
| 2 | (A) (B) (C) | 8 | (A) (B) (C) |
| 3 | (A) (B) (C) | 9 | (A) (B) (C) |
| 4 | (A) (B) (C) | 10 | (A) (B) (C) |
| 5 | (A) (B) (C) | 11 | (A) (B) (C) |
| 6 | (A) (B) (C) | 12 | (A) (B) (C) |

Adı :

Soyadı:

3. Sınıf
Matematik

Geometri Genel
Yaprak Test-1

Doğru :.....

Yanlış:.....

- | | | | | | | | |
|---|----------------------------------|----------------------------------|----------------------------------|----|----------------------------------|----------------------------------|----------------------------------|
| 1 | A | B | <input checked="" type="radio"/> | 7 | A | B | <input checked="" type="radio"/> |
| 2 | <input checked="" type="radio"/> | B | C | 8 | <input checked="" type="radio"/> | B | C |
| 3 | A | B | <input checked="" type="radio"/> | 9 | A | B | <input checked="" type="radio"/> |
| 4 | A | <input checked="" type="radio"/> | C | 10 | A | <input checked="" type="radio"/> | C |
| 5 | A | <input checked="" type="radio"/> | C | 11 | A | <input checked="" type="radio"/> | C |
| 6 | <input checked="" type="radio"/> | B | C | 12 | A | B | C |