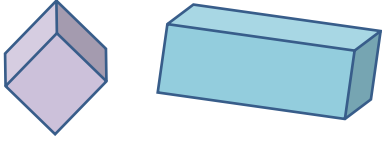


Adı :
Soyadı:

3. Sınıf Matematik

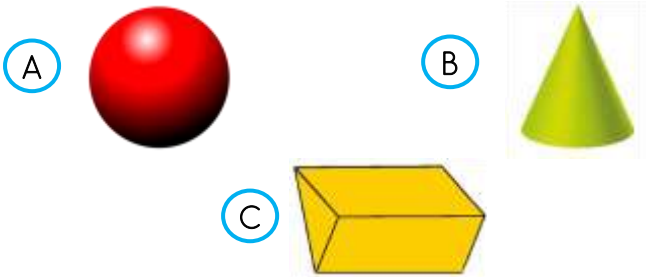
Geometri Genel Yaprak Test-3



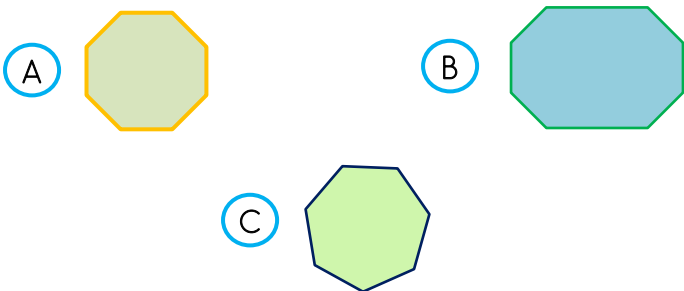
1 Yukarıda verilen cisimlerin benzer özelliği hangisidir?

- A İkisinin de 6 tane yüzü
- B İkisinin de 8 tane ayrıtı vardır.
- C İkisinin de 10 tane köşesi vardır.

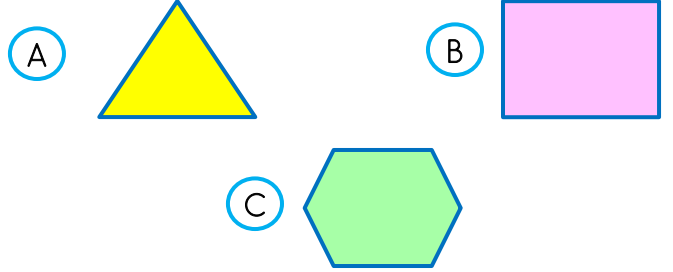
2 Aşağıdaki cisimlerden hangisi köşe yönünden diğerlerinden farklıdır?



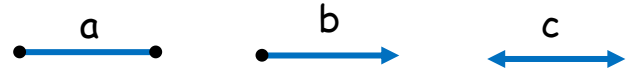

3 Aşağıdaki şekillerden hangisinin kenar sayısı diğerlerden farklıdır?



4 Aşağıdaki geometrik şekillerden hangisinin köşegeni yoktur?



5 Aşağıdaki harflerden hangisinde daha fazla açı vardır?



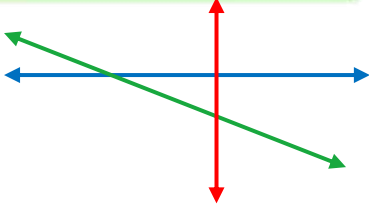
6 Yukarıdaki çizgiler için hangi bilgi yanlıştır?

- A a'nın başlangıcı belli değil, sonu belli.
- B b'nin başlangıcı belli, sonu belli değil.
- C c'nin başlangıcı ve sonu belli değil.

Adı :
Soyadı:

3. Sınıf Matematik

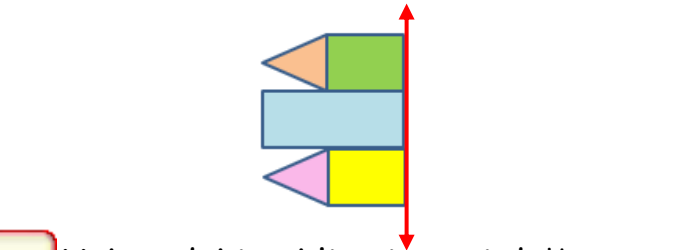
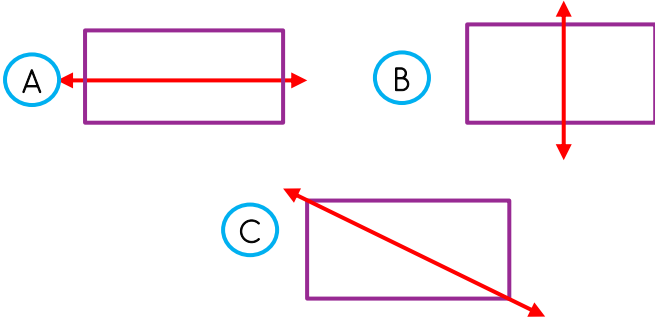
Geometri Genel Yaprak Test-3



7 Yukarıdaki doğrular için hangi bilgi doğrudur?

- (A) Kırmızı dik bir doğrudur.
(B) Mavi eğik bir doğrudur.
(C) Yeşil yatay bir doğrudur.

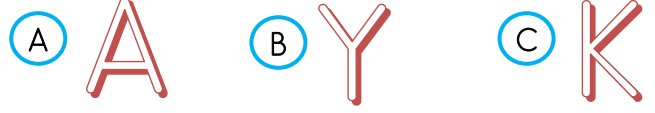
8 Aşağıdaki dikdörtgenlerden hangisinde simetri doğrusu **yanlış** çizilmiştir?



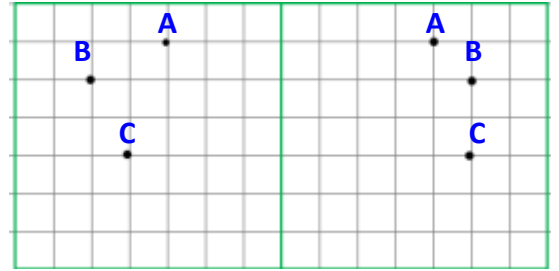
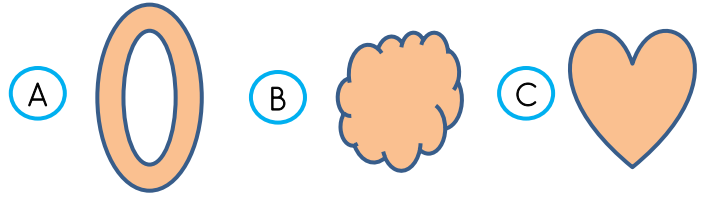
9 Yukarıdaki şeklin simetri doğrusuna göre simetriği hangisidir?



10 Aşağıdaki harflerden hangisinin simetri doğrusu yatay çizilir?



11 Aşağıdakilerden hangisinin birden fazla simetri doğrusu vardır?



12 Yukarıdaki görselde hangi noktanın simetriği doğru yerleştirilmiştir?

- (A) A (B) B (C) C

Doğru :

Yanlış:

- 1 (A) (B) (C)
2 (A) (B) (C)
3 (A) (B) (C)
4 (A) (B) (C)
5 (A) (B) (C)
6 (A) (B) (C)

- 7 (A) (B) (C)
8 (A) (B) (C)
9 (A) (B) (C)
10 (A) (B) (C)
11 (A) (B) (C)
12 (A) (B) (C)

Adı :

Soyadı:

3. Sınıf
Matematik

Geometri Genel
Yaprak Test-3

Doğru :.....

Yanlış:.....

- 1 A B C
2 A B C
3 A B C
4 A B C
5 A B C
6 A B C

- 7 A B C
8 A B C
9 A B C
10 A B C
11 A B C
12 A B C