

Adı :

Soyadı:

2. Sınıf Matematik

Paralarımız Yeni Nesil Sorular-1



34 TL



25 TL



26 TL



27 TL



Metin parasının tamamı ile yukarıdaki ürünlerden hangilerini alabilir?

- A Forma ile top
- B Boya ile gözlük
- C Top ile gözlük
- D Gözlük ile forma

Metin parası ile top ve forma almak istiyor. Ancak parası yeterli gelmiyor. Aysel'den kaç lira borç almalıdır?

- A 2 tane 5 TL ve 1 tane 50 kr
- B 1 tane 5 TL ve 2 tane 50 kr
- C 1 tane 10 TL ve 4 tane 50 kr
- D 1 tane 5 TL ve 4 tane 50 kr

Aysel parasının tamamı ile yukarıdaki ürünlerden hangilerini alabilir?

- A Forma ile boya
- B Boya ile gözlük
- C Gözlük ile forma
- D Forma ile top

Aysel parası ile 2 tane ürün alınca geriye 10 TL parası kaldı. Aysel hangi ürünleri almıştır?

- A Forma ile gözlük
- B Boya ile top
- C Gözlük ile boya
- D Gözlük ile top

Adı :

Soyadı:

2. Sınıf Matematik

Paralarımız Yeni Nesil Sorular-1

Şule kumbarasını açınca aşağıdaki paralar çıkmıştır?





			
9 tane	6 tane	12 tane	20 tane





Şule 20 lira olan oyuncacı alması için kaç lira daha biriktirmelidir?





- A 4 tane 50 kuruş 1 tane 1 TL
- B 2 tane 1 TL 4 tane 50 kuruş
- C 3 tane 1 TL 4 tane 25 kuruş
- D 2 tane 50 kuruş 4 tane 25 kuruş





Şule kumbarasındaki paralardan 8 lirasını harcamıştır. Geriye kaç lira parası kalmıştır?

- A

			
7 tane	2 tane	8 tane	20 tane
- B

			
3 tane	2 tane	8 tane	10 tane
- C

			
6 tane	4 tane	4 tane	10 tane
- D

			
5 tane	2 tane	8 tane	10 tane



Annesi Zafer'e her gün okula giderken 10 TL harçlık veriyor. Zafer annesinin verdiği harçlıktan her gün 7 TL harcayıp gerisini kumbaraya atıyor.

Bir hafta sonunda Zafer'in kumbarasında ne kadar para birikmiştir?

- A 60 TL
- B 59 TL
- C 61 TL
- D 62 TL

Zafer bir hafta sonunda kumbarasındaki parasının bir kısmını harcayınca geriye 50 TL parası kalıyor. Zafer kaç lira harcamıştır?

- A 10 TL
- B 11 TL
- C 12 TL
- D 14 TL

Adı :

Soyadı:

2. Sınıf Matematik

Paralarımız Yeni Nesil Sorular-1

M.2.3.2. Paralarımız

M.2.3.2.1. Kuruş ve lira arasındaki ilişkiyi fark eder.

- a) Örneğin on tane 10 kuruşun, dört tane 25 kuruşun, iki tane 50 kuruşun 1 lira ettiği vurgulanır.
- b) Ondalık gösterimlere girilmez.
- c) 100 ve 200 TL tanıtılır.

M.2.3.2.2. Değeri 100 lirayı geçmeyecek biçimde farklı miktarlardaki paraları karşılaştırır.
Karşılaştırma yapılırken tek birim (kuruş veya TL) kullanılır.

M.2.3.2.3. Paralarımızla ilgili problemleri çözer.

- a) Sınıf sayı sınırlılıkları içinde kalınır.
- b) Dönüşüm gerektiren problemlere girilmez.
- c) Problem kurmaya yönelik çalışmalara da yer verilir.