

Adı :
Soyadı:

2. Sınıf Matematik

Veri Toplama ve Değerlendirme-2

Sınıfımızdaki öğrencilerden 6 kişi köfte, 9 kişi makarna, 12 kişi pilav, 7 kişi börek seviyor. Sıklık ve çetele tablosunu yapınız.

Sevilen Yiyecek	Öğrenci Sayısı

Sınıfımızdaki öğrencilerden 5 kişi yüzme, 7 kişi futbol, 6 kişi keman, 10 kişi basketbol kursuna gidiyor. Sıklık ve çetele tablosunu yapınız.

Ankara'da bir ayda havalarda 3 gün yağmurlu, 16 gün güneşli, 8 gün bulutlu, 3 gün karlı geçmiştir. Sıklık ve çetele tablosunu yapınız.





Kantinci bugün 12 tane meyve suyu, 11 tane tost, 16 tane su, 17 tane simit satmıştır. Sıklık ve çetele tablosunu yapınız.

Adı :
Soyadı:

2. Sınıf Matematik

Veri Toplama ve Değerlendirme-2

Sınıfımızdaki öğrencilerin en sevdiği kuruyemiş ile ilgili **nesne grafiği** verilmiştir. Sıklık ve çetele tablosunu yapınız.





Kuruyemiş	Seven Öğrenci Sayısı
Ceviz	
Fındık	
Fıstık	
Badem	

Nesne Grafiği

Kuruyemiş	Öğrenci Sayısı

Sıklık ve Çetele

Sınıfımızdaki öğrencilerin en sevdiği meyvelerle ilgili **nesne grafiği** verilmiştir. Sıklık ve çetele tablosunu yapınız.

Meyve	Seven Öğrenci Sayısı
Elma	
İncir	
Çilek	
Şeftali	

Meyve	Öğrenci Sayısı

Öğrenciler en çok hangi meyveyi seviyor?

.....

Elma ve çilek seven toplam kaç öğrenci vardır?

Çilek sevenlerin sayısı şeftali sevenlerin sayısından ne kadar fazladır?

İncir sevenlerin sayısı elma sevenlerin sayısından ne kadar azdır?.....

İncir ve şeftali sevenlerin sayısı ne kadardır?

Sınıfta kaç öğrenci vardır?

.....