





Adı :
Soyadı:

2. Sınıf Matematik

Veri Toplama ve Değerlendirme-3

Sınıfımızdaki öğrencilerin evde besledikleri hayvanlara ait nesne grafiği verilmiştir. Sıklık ve çetele tablosunu yapınız.

Hayvanlar	Besleyen Öğrenci Sayısı
Kuş	
Köpek	
Balık	
Kedi	

Nesne Grafiği

Hayvanlar	Öğrenci Sayısı

Sıklık ve Çetele

Medine'nin yaş gününde arkadaşlarından gelen hediyelere ait nesne grafiği verilmiştir. Sıklık ve çetele tablosunu yapınız.

Hediye	Gelen Hediye Sayısı
Kitap	
Çiçek	
Oyuncak	
Etek	

Hediye	Hediye Sayısı

Medine'ye en çok ne tür hediye gelmiştir?
.....

Medine'ye en az gelen hediye hangisidir?
.....

Medine'ye gelen kitap ve oyuncakların toplamı ne kadardır?

Oyuncakların sayısı çiçeklerden kaç tane fazladır?.....

Kitaplarla eteklerin toplam sayısı kaçtır?
.....

Medine'ye yaş gününde kaç tane hediye gelmiştir?

Adı :
Soyadı:

2. Sınıf Matematik

Veri Toplama ve Değerlendirme-3

Sınıfımızdaki bazı öğrencilerin okuduğu kitaplara ait nesne grafiği verilmiştir. Sıklık ve çetele tablosunu yapınız.

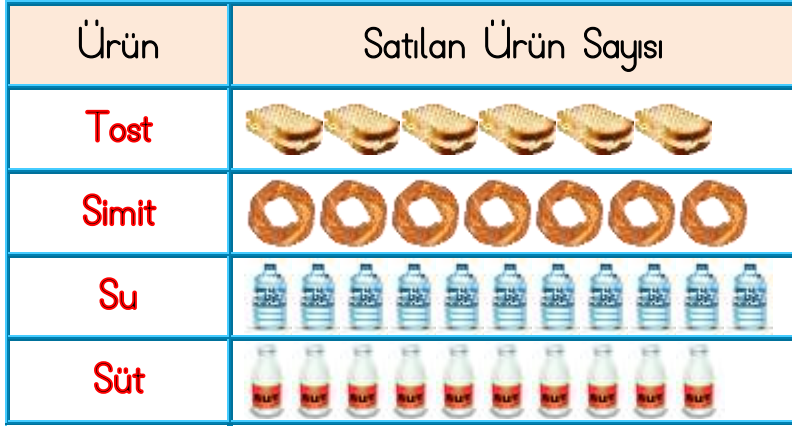


Nesne Grafiği

Öğrenciler	Öğrenci Sayısı

Sıklık ve Çetele

Kantinde teneffüste satılan yiyeceklerin sayısına ait nesne grafiği verilmiştir. Sıklık ve çetele tablosunu yapınız.



Ürün Adı	Satılan Ürün Sayısı

Kantinci en çok ne satmıştır?
.....

Kantinci en az ne satmıştır?
.....

Kantincinin sattığı süt ve suların toplamı kaçtır?

Kantinci toplam kaç tane süt ve simit satmıştır?.....

Kantinci simitin tanesini 2 liradan sattığına göre ne kadar kazanmıştır?

Kantinci teneffüste kaç tane ürün satmıştır?