

EGEMENLİK BAYRAMI

Egemen bir milletin,
Coştuğu bir gündür bu!
Yurduma hürriyetin,
Koştuğu bir gündür bu.

Başımızda Atatürk,
Ülkümüz yüce Türklük,
Milletimin en büyük,
Sevdiği bir gündür bu.

23 Nisan'ı veren,
Bugünleri gösteren,
Büyük Atam diyor ki:
"Türk, çalış, övün, güven!"

ALİ PÜSKÜLLÜOĞLU

1 ve 2. soruları yukarıdaki şiire göre cevaplayınız.

1. Atamız ne diyormuş?

- a) Ne mutlu Türküm diyene
- b) Türk, çalış, övün, güven!
- c) İstikbal göklerde dir.

2. Aşağıdaki kelimelerden hangisinin eş anlamlısı yukarıdaki şiirde yer almaz?

- a)
- b)
- c)

3. 1. Karga 2. Kavun 3. Kalem 4. Karış
Yukarıdaki numaralanmış sözcüklerin sözlük sırasına göre dizilişi aşağıdakilerden hangisidir?

- a) 1 - 3 - 4 - 2
- b) 3 - 2 - 1 - 4
- c) 3 - 1 - 4 - 2

Atalarım, gökten yere
İndirmişler ay yıldızı
Bir buluta sarmışlar ki
Rengi şafaktan kırmızı

Yandaki şiirin
konusu
aşağıdakilerin
hangisidir?

4. a) Bayrak b) Vatan c) Gezegenler

Kalabalık bir parka gelmişim. Etraf insanlarla doluydu. Yaşlı bir amcanın ayağının yanından geçtim. Beni fark etmedi bile. Buraya gelen birkaç köpek görünce hemen ağaca tırmandım. Köpekler uzaklaştığında ağaçtan indim. Arkamdan "Gel, pisi pisi!" diye bir ses duydum. Bir çocuk beni çağırıyordu.

5. Bu metinde geçen olayı anlatan varlık aşağıdakilerden hangisidir?

- a) b) c)

6. "Konferansı Prof () Dr () Sezai Bati verecektmiş."

Bu cümlede yay ayrıçla belirtilen yerlere aşağıdaki noktalama işaretlerinden hangisi getirilmelidir?

- a) b) c)

7. Aşağıdaki altı çizili kelimelerden hangisinin ilk harfi büyük yazılmalıdır?

- a) Bu göl alabalık bakımından zenginmiş.
- b) Çalıların üstünde, serciler civıldaşarak uçuyordu.
- c) Kedisini tekir, suyla oynamayı severmiş.

8.  Yandaki noktalardan kaç tanesi *doğru* adlandırılmıştır?

- a) 2 b) 4 c) 6


9. Aşağıda verilen ifadelerden hangisi *yanlıştır*?

- a) Noktanın büyüklüğü yoktur.
- b) Noktalar isimlendirilirken küçük harf kullanılır.
- c) Nokta ölçülemez.

10. Aşağıdakilerden hangisi doğru modelidir?

- a) 
- b) 
- c) 




11. Aşağıdakilerden hangisi ışın modeli *değildir*?

- a)  Şerit metre
- b)  Çivi
- c)  Cetvel

12. Aşağıdakilerden hangisi eğik doğruya örnektir?

- a) 
- b) 
- c) 

13. Aşağıdaki şekillerden hangisinde hem yatay hem de eğik doğru parçası kullanılmıştır?

- a) 
- b) 
- c) 

14. Aşağıdakilerden hangisi nokta modeli *oluşturmaz*?



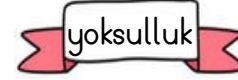
- a) Gökyüzündeki yıldızlar
- b) Pano üzerindeki raptiyeler
- c) Arabanın yoldaki fren izi

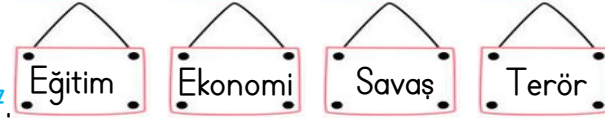
15. Verilen bilgilerden hangisi *yanlıştır*?

- a) Çevremizde göç ederek ülkemize yerleşmiş insanlarla karşılaşabiliriz.
- b) Ülkemizde yaşayan farklı kültürlerden insanlara Türk misafirperverliğine uygun davranmalıyız.
- c) İnsanların farklı özelliklerine saygı göstermemeliyiz.

16. İnsanların bazı sebeplerden dolayı zorunlu veya isteğe bağlı olarak başka bir ülkeye gitmesine denir?

Yukarıda verilen bilgi cümlesini hangisiyle tamamlayabiliriz?

- a) 
- b) 
- c) 

- 17. 

Yukarıda verilenlerden kaç tanesi başka ülkelere göç nedeni olabilir?

- a) 4
- b) 3
- c) 2

18. Yaşlı bir balıkçı, "Ben çocukken bu gölün etrafında hiç ev ve fabrika yoktu. Bakınca suyun içindeki balıkları görürdük. Çok çeşitli balık vardı. Şimdi su bulanık olduğu için balıkları göremiyoruz." dedi.

Balıkçının gözlemleri doğru olduğuna göre, gölün şimdiki durumu ile ilgili aşağıdakilerden hangisine ulaşamaz?

- a) Göl çevresinde yaşayan insanların kirliliğe yol açtığına
- b) Fabrikanın göle zararlı atık bıraktığına
- c) Gölde balık çeşitliliğinin arttığına

- 19. 

Yukarıdakilerden kaç tanesi çevreyi oluşturan varlıklardanadır?

- a) 5
- b) 4
- c) 3

20. Bir okulda öğrenciler çevre temizliği için poster hazırlıyorlar.

Buna göre, posterde aşağıdakilerden hangisini kullanmaları uygun *değildir*?

- a) Önce yakın çevremizi temiz tutmalıyız.
- b) Bütün çöpleri aynı geri dönüşüm kutusuna atmamız.
- c) Çevreyi temiz tutmak hepimizin görevidir.

CEVAPLAR

Adı Soyadı:

- | | | | | | | | |
|----|---|---|---|----|---|---|---|
| 1 | A | B | C | 11 | A | B | C |
| 2 | A | B | C | 12 | A | B | C |
| 3 | A | B | C | 13 | A | B | C |
| 4 | A | B | C | 14 | A | B | C |
| 5 | A | B | C | 15 | A | B | C |
| 6 | A | B | C | 16 | A | B | C |
| 7 | A | B | C | 17 | A | B | C |
| 8 | A | B | C | 18 | A | B | C |
| 9 | A | B | C | 19 | A | B | C |
| 10 | A | B | C | 20 | A | B | C |

CEVAPLAR

Adı Soyadı:

- | | | | | | | | |
|----|---|---|---|----|---|---|---|
| 1 | A | B | C | 11 | A | B | C |
| 2 | A | B | C | 12 | A | B | C |
| 3 | A | B | C | 13 | A | B | C |
| 4 | A | B | C | 14 | A | B | C |
| 5 | A | B | C | 15 | A | B | C |
| 6 | A | B | C | 16 | A | B | C |
| 7 | A | B | C | 17 | A | B | C |
| 8 | A | B | C | 18 | A | B | C |
| 9 | A | B | C | 19 | A | B | C |
| 10 | A | B | C | 20 | A | B | C |

CEVAPLAR

Adı Soyadı:

- | | | | | | | | |
|----|---|---|---|----|---|---|---|
| 1 | A | B | C | 11 | A | B | C |
| 2 | A | B | C | 12 | A | B | C |
| 3 | A | B | C | 13 | A | B | C |
| 4 | A | B | C | 14 | A | B | C |
| 5 | A | B | C | 15 | A | B | C |
| 6 | A | B | C | 16 | A | B | C |
| 7 | A | B | C | 17 | A | B | C |
| 8 | A | B | C | 18 | A | B | C |
| 9 | A | B | C | 19 | A | B | C |
| 10 | A | B | C | 20 | A | B | C |

1.	B	6.	A	11.	C	16.	A
2.	C	7.	C	12.	B	17.	A
3.	C	8.	B	13.	A	18.	C
4.	A	9.	B	14.	C	19.	A
5.	B	10.	B	15.	C	20.	B

Ömer USLU