







Adı :
Soyadı:

3. Sınıf Hayat Bilgisi

Ülkemizde Hayat Ünite Değerlendirme-2

-  Kaymakam  Muhtar
 Vali  Belediye Başkanı

1 Yukarıdakilerden hangileri halkın verdiği oy ile seçilerek göreve gelmektedir?

- A)  ve 
B)  ve 
C)  ve 

2 Aşağıdakilerden hangisi ülkemizin yönetimi ile ilgili doğru bilgidir?

- A) Milletvekilleri ölünce yerine oğlu milletvekili olur.
B) Cumhurbaşkanını millet oy vererek seçer.
C) Ülkemizin yönetim biçimi krallıktır.

- 1-Yazla Köyü
2-Türkiye Cumhuriyeti
3-Muratpaşa İlçesi
4-Antalya İli

3 Yukarıdaki yerleşim birimleri büyükten küçüğe doğru sıralanması hangi seçenekte verilmiştir?

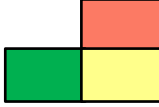
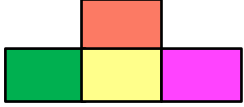
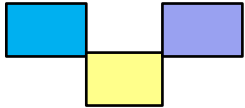
- A) 1-3-4-2
B) 2-4-3-1
C) 2-3-4-1

4 Atatürk'ün kişilik özellikleri hangi seçenekte birlikte verilmiştir?

- A) Disiplinli- çalışkan - yenilikçi - kararlı
B) Sabırsız - mavi gözlü - orta boylu - mutlu
C) Hoşgörülü - vatansever - akılcı - savaşçı

Düden Şelalesi	Ayasofya Cami	Peribacaları
Aspendos Antik Kenti	Dolmabahçe Sarayı	Abant Gölü

5 Yukarıda verilen tablodan doğal turistik yerler çıkarılırsa geriye kalan şekil hangisidir?

- A) 
B) 
C) 

6 Aşağıdakilerden hangisi milletimizin birlik ve beraberliğini güçlendiren bir faaliyet değildir?

- A) Doğal afetlerde mağdur olanlara yardım etmek
B) Cumhuriyet Bayramı'nı kutlamak
C) Bayramda büyüklerimizin ellerini öpmeye gitmek

Adı :
Soyadı:

3. Sınıf Hayat Bilgisi

Ülkemizde Hayat Ünite Değerlendirme-2

<i>Kamu malları herkesin verdiği vergilerle yapılır.</i>	
<i>Ortak kullanım alanlarına zarar verenlere ceza verilir.</i>	
<i>Duraklara güzel resimler çizebiliriz.</i>	

7 Yukarıdaki tabloda doğru olan ifadeler "D", yanlış olan ifadeleri "Y" dersek tablonun görünümü nasıl olur?

A)	D	B)	D	C)	D
	D		Y		D
	D		D		Y

- 1-Derslerine planlı çalışmak
- 2-İşlerini yarım bırakmadan tamamlamak
- 3-Vatanını, bayrağını sevmek, korumak
- 4-Vergi vermek, askere gitmek
- 5- Boş zamanlarında para kazanmak için çalışmak

8 Ülkesine karşı sorumluluklarını yerine getirmek isteyen 3. sınıf öğrencisi Ahmet yukarıdakilerden hangilerini yapmalıdır?

- A) 1-3-5
B) 1-2-3
C) Hepsi

Jale İnan

Engin Arık

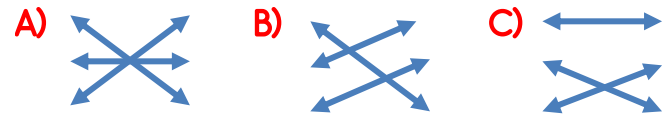
Zihni Derin

Ziraat mühendisi

Bilim insanı

Arkeolog

9 Yukarıdaki kişiler ile meslekleri eşleştirilince hangi şekil ortaya çıkmaktadır?



Zorunlu şartlar altında ülkemize sığınan kişilere **mülteci** deriz. Mülteciler ülkelerini terk etmiş mağdur durumda kişilerdir.

10 Aşağıdaki kişilerden hangisi ülkesini terk ettiğinde yukarıdaki paragrafta anlatılan kişilerden **sayılmaz**?

- A) Ülkesinde sel nedeniyle evsiz kalan aile
B) Daha iyi bir eğitim almak için ülkemize gelen öğrenci
C) Ülkesindeki savaş nedeniyle can güvenliği olmayan kişiler

11 Aşağıdakilerden hangisi belediye başkanının görevleri arasında **yer almaz**?

- A) Şehirdeki yolları yapmak
B) Mahallenin çevre temizliğini yapmak
C) Okullara öğretmen atamak

Adı :
Soyadı:

3. Sınıf
Hayat Bilgisi

Ülkemizde Hayat
Ünite Değerlendirme-2

- 1 A B C
2 A B C
3 A B C
4 A B C

- 5 A B C
6 A B C
7 A B C
8 A B C

- 9 A B C
10 A B C
11 A B C
12 A B C

- 13 A B C
14 A B C
15 A B C
16 A B C

- 1 A B C
2 A B C
3 A B C
4 A B C

- 5 A B C
6 A B C
7 A B C
8 A B C

- 9 A B C
10 A B C
11 A B C
12 A B C

- 13 A B C
14 A B C
15 A B C
16 A B C