



NOKTALAMA İŞARETLERİ

* Aşağıdaki cümleler belirtilen yerlere doğru noktalama işaretlerini koyalım.



Hasan () Melih () Ercan ve Yavuz parkta oynuyorlar ()



Yaşasın () Kaybolan kedimiz bulundu ()



Arkadaşların bize gelecek mi ()



Annem tabağa elma () armut ve muz koydu ()



Tatilde Nevşehir () Konya () Niğde ve Mersin'e gittik ()



Eyvah () annemi aramayı unuttum ()



Dün sahura kim kaldırdı seni ()



Ablam çatal () kaşık ve bıçakları yıkadı ()



Zavallı kedi () Çok acıkmış ()



Defterimi () kitabımı () kalemiğimi çantama koydum ()



Rana () annesine yardım etti mi ()



Salı () çarşamba () perşembe günleri yüzme kursuna gidiyor ()



Sarı () kırmızı ve mavi renkli boyalarımı evde unutmuşum ()



Of () yine çok ödevim var ()





SEBEP SONUÇ CÜMLELERİ

* Aşağıdaki cümlelerdeki sebep ve sonuç ifadelerini yazınız .

* Dedem hasta olduğu için babam köye gitti.

Sebep: Sonuç:.....

* Yağmur yağmadığı için barajlarda sular azalmış.

Sebep: Sonuç:.....

* Kitap alamadı çünkü parasını kaybetmiş.

Sebep: Sonuç:.....

* Amcam gidince çok üzüldüm.

Sebep: Sonuç:.....

* Güneş çıkınca karlar eridi.

Sebep: Sonuç:.....

* Elektrikler gidince karanlıkta kaldık .

Sebep: Sonuç:.....

* Köpeği görünce kedi kaçtı.

Sebep: Sonuç:.....

* Problemi yapamadı çünkü çok zordu.

Sebep: Sonuç:.....



KİTAP EN İYİ DOSTTUR

Ekrem ile Hatice adında iki arkadaş varmış. Hatice, kitap okumayı çok severmiş. Boş zamanlarını sürekli masal değişik kitaplar okuyarak geçirirmiş. Hatice'nin arkadaşı Ekrem ise hiç kitap okumaz, boş zamanlarında tablet ya da bilgisayar başında oyun oynarmış. Bir gün Ekrem doğum gününü kutlamak için Hatice'yi ve diğer arkadaşlarını davet etmiş. Arkadaşları Ekrem'e oyuncak hediye etmiş. Hatice ise Ekrem'e bir hikaye kitabı almış. Nedense bu hediye Ekrem'in hiç ilgisini çekmemiş.

Ekrem, özellikle bilgisayarda oynadığı oyunları çok seviyormuş . Bir gün Ekrem'in bilgisayarını bozulmuş. Ekrem oynayacak oyun bulamadığı için çok sıkılmış. Odasında kendisine yeni bir oyuncak ararken Hatice'nin hediye ettiği hikaye kitabını bulmuş. Önce "bir iki sayfa okur, sonra da sokağa oynamaya giderim," demiş ama kitabı okudukça çok hoşuna gitmiş. Kitaptaki hikayelerin hepsi birbirinden güzelmiş.

Ekrem, okudukça yeni yeni şeyler öğreniyormuş. Kitabı bitirince "keşke daha önce bilgisayarda oyun oynamak ya da video izlemek yerine kitap okusaydım. Kitaplar oyunlardan daha güzel hem de çok eğlenceli. Bundan sonra ben de hep kitap okuyacağım," demiş.

Hatice de arkadaşı Ekrem'in kitap okumaya başladığını duyunca çok sevinmiş. Ona kendi kitaplarından ödünç vermiş. Bundan sonra Ekrem daha az video izleyip bilgisayar oyunu oynamış, kendisine yeni kitaplar almış ve vaktini boşa harcamamış.



|| Aşağıdaki soruları metne uygun bir şekilde cevaplayınız.

|| 1 . Hatice neyi çok severmiş?

||

|| 2. Ekrem boş zamanlarında ne yaparmış?

||

|| 3. Ekrem doğum gününü kutlamak için kimleri çağırmış?

||

|| 4. Hatice Ekrem'e ne hediye etmiş?

||

|| 5. Ekrem oyuncak ararken ne bulmuş?

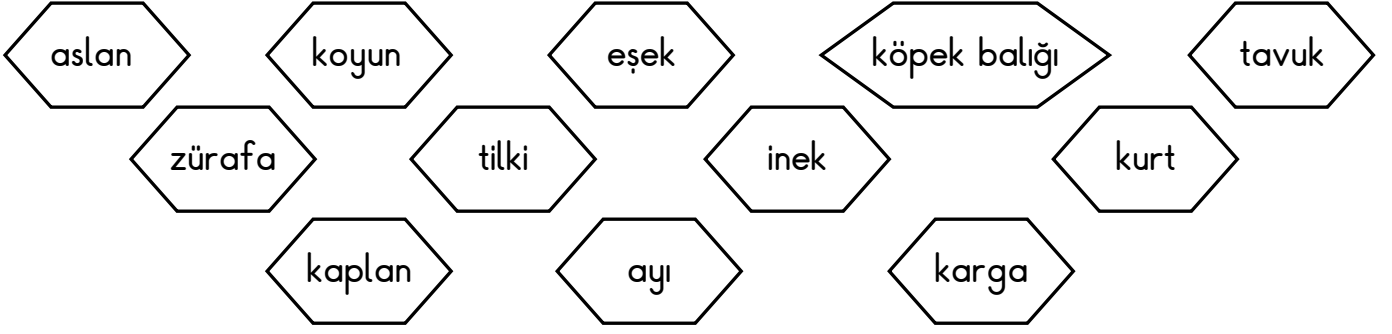
||

|| 6. Hatice niçin çok sevinmiş?

||

BİTKİLERİN VE HAYVANLARIN İHTİYAÇLARI

1. Etkinlik: Aşağıdaki hayvanları beslenme türlerine göre sınıflandıralım.



ETLE BESLENENLER



.....
.....
.....
.....

OTLA BESLENENLER

.....
.....
.....
.....


ETLE VE OTLA BESLENENLER

.....
.....
.....
.....



2. Etkinlik: Aşağıdaki ifadelerden doğru olanlara "D.", yanlış olanlara "Y." yazalım.

- 1.) (.....) Bitkilerin yaşamları için su yeterlidir.
- 2.) (.....) Tüm canlılar hava olmadan yaşayamaz.
- 3.) (.....) Bazı hayvanların barınmaları için yuvaya ihtiyacı vardır.
- 4.) (.....) Tüm hayvanlar etle beslenir .
- 5.) (.....) Bitkilerin yaşamak için havaya, suya , toprağa ve güneş ışığına ihtiyacı vardır.
- 6.) (.....) Bitkiler canlı değildir.
- 7.) (.....) Hayvanlar kendi besinlerini kendileri yaparlar.
- 8.) (.....) Hem etle hem otlarla beslenen hayvanlar vardır.
- 9.) (.....) Bitkiler için güneş ışığına gerek yoktur.



BİTKİ YETİŞTİRMENİN VE HAYVAN BESLEMENİN ÖNEMİ

1. Etkinlik: Aşağıdaki resimlerdeki doğru davranışların kutusunu maviye , yanlış davranışların kutusunu kırmızıya boyayalım.



2. Etkinlik: Aşağıda boş bırakılan yerleri uygun ifadelerle tamamlayınız.

doğanın - kökleriyle – bitkiler – dikmemiz – korumalıyız
havayı – ağaçlara – ormanlar - bahçemizde

- 1.) birçok hayvanın ve bitkinin yaşam alanıdır.
- 2.) Ormanlardaki ağaçlar, tüm canlıların ihtiyacı olan temizler.
- 3.) Eşyalarımızı yapmak için, meyvelerini yemek için de ihtiyacımız vardır.
- 4.) Kesilen ağaçların yerine yenilerini gerekir.
- 5.) Hayvanlar bir parçasıdır.
- 6.) bir çok canlının besin kaynağıdır .
- 7.) Bitkileri ve hayvanları
- 8.) ve balkonumuzda bitki yetiştirebiliriz.
- 9.) Bitkiler toprağı tutar, toprak kayması ve seli engeller.



PARALARIMIZLA İLGİLİ PROBLEMLER

1. Gaye'nin 18 lirası vardı. Dedesi Gaye'ye 15 lira daha verdi. Gaye'nin kaç lirası olmuştur ?

Çözüm:



2. Arda'nın 8 tane 5 lirası var. Arda'nın kaç lirası vardır ?

Çözüm:



3. Fatma tanesi 8 liradan 3 tane kitap aldı. Fatma kitaplara kaç lira öder ?

Çözüm:



4. Ömer'in 40 lirası vardı. 15 lirasına şapka aldı. Ömer'in kaç lirası kaldı ?

Çözüm:



5. Metin 90 kuruşu vardı. 75 kuruşa gofret aldı. Metin'in kaç kuruşu kaldı ?

Çözüm:



6. Kübra'nın 16 lirası vardı. Kübra parasının yarısını kardeşine verdi. Kübra kardeşine kaç lira verdi?

Çözüm:




7. Melih'in her gün kumbarasına 2 lira atmış. Melih bir haftada kumbarasına kaç lira atmıştır ?

Çözüm:



8. Dedem 4 torununa 32 lira eşit olarak paylaştırdı. Her birimize kaç lira düşmüştür ?

Çözüm:



PARALARIMIZLA İLGİLİ PROBLEMLER

1. Sinem tanesi 2 lira olan tokalardan 7tane almış. Satıcıya 20 lira vermiş. Kaç lira para üstü alır ?

Çözüm:



2. Eymen'in 34 lirası vardı. Dün 7 lira , bugün 9 lira harcamış. Eymen'in kaç lirası kalmıştır ?

Çözüm:



3. Oya'nın 12 lirası vardı. Oya parasının tamamına aynı kalemde 6 tane almış. Oya'nın aldığı kalemlerde bir tanesi kaç liradır ?

Çözüm:



4. Ergün'ün 14 lirası vardı. Ergün'e babası 16 lira , annesi 8 lira vermiş. Ergün'ün toplam kaç lirası olmuştur ?

Çözüm:



5. 3 tanesi 21 lira olan kitapların , bir tanesi kaç liradır ?

Çözüm:



6. Kenan 16 lirası var. Parsınin yarısına 4 tane kalem almış. Kalemlerin tanesi kaç liradır ?

Çözüm:



7. Ablamın 90 lirası vardı. 25 liraya bere , 17 liraya eldiven almış. Ablamın kaç lirası kalmıştır ?

Çözüm:



8. Aytaç ve 2 arkadaşı ellerindeki 8'er lirayı birleştirmişler ve 15 lirasını harcamışlar. Geriye kaç liralari kalmıştır ?

Çözüm:



PARALARIMIZLA İLGİLİ PROBLEMLER

1. Sena'nın 3 tane 10 lirası vardı. Sena parasının 16 lirasına harcadı. Sena'nın kaç lirası kaldı ?

Çözüm:



2. Annesi Bülent'e ekmek alması için 15 lira verdi. Bülent Tanesi 3 lira olan ekmeklerden paranın tamamına kaç tane almıştır?

Çözüm:



3. Suna'nın 25 lirası vardı. Suna 9 lirasını harcadıktan sonra parasının yarısını kardeşine verdi. Suna kardeşine kaç lira verdi ?

Çözüm:



4. Erkan'ın 7 tane 5 lirası vardı. Erkan parasını 19 lirasına kitap aldı. Erkan'ın kaç lirası kaldı ?

Çözüm:



5. Funda'nın 43 lirası var. Beğendiği çanta ise 60 lira. Funda'nın çantayı alabilmesi için kaç liraya daha ihtiyacı var ?

Çözüm:



6. Şenay'ın kumbarasında 52 lirası vardı. Kumbaraya önce 8 lira , sonra 14 lira daha attı. Kumbarada kaç lira olmuştur ?

Çözüm:



7. Yavuz'un 40 lirası vardı. Yavuz tanesi 5 lira olan çiçeklerden annesine 3 tane çiçek aldı. Yavuz'un kaç lirası kalmıştır ?

Çözüm:



8. Kağan ve 3 kuzeni 28 lirayı eşit olarak paylaşmışlar. Kağan'ın önceden cebinde 6 lirası daha varmış. Kağan'ın kaç lirası olmuştur ?

Çözüm:



PARALARIMIZLA İLGİLİ PROBLEMLER

1. Sıla'nın 32 TL'si var. Sıla parasının çeyreğine kitap alıyor. Sıla'nın aldığı kitap kaç TL'dir ?

Çözüm:



2. Tanesi 20 kuruş olan şekerlerden 3 tane aldım. Satıcıya 75 kuruş verdim. Kaç kuruş para üstü alırım ?

Çözüm:



3. Selim'in beğendiği 95 liralık ayakkabıda 18 lira indirim yapılmıştır. Ayakkabının indirimli fiyatı kaç liradır ?

Çözüm:



4. Ozan'ın 24 lirası vardı. Ozan parasının çeyreğine defter almış. Ozan'ın kaç lirası kalmıştır ?

Çözüm:



5. Özlem'in 25 lirası vardı. Annesi bir miktar para verince Özlem'in 40 lirası oldu. Annesi kaç lira vermiştir ?

Çözüm:



6. Cem'in 30 lirası vardı. Kantininde 5 gün boyunca her gün 4 lira harcamış. Cem'in kaç lirası kalmıştır ?

Çözüm:



7. Eda'nın 3 tane 20 lirası vardı. Parasının 36 lirasına tişört almış. Eda'nın kaç lirası kalmıştır ?

Çözüm:



8. Ece'nin 8 lirası var. Ablasının parası ise Ece'nin parasının 4 katından 5 lira eksiktir. Ece'nin ablasının kaç lirası vardır ?

Çözüm:



PARALARIMIZLA İLGİLİ PROBLEMLER

1. Alper'in cüzdanında 7 tane 5 lira ve 8 tane 1 lira var. Alper'in cüzdanında toplam kaç lira vardır ?

Çözüm:



2. Ceyda'nın 20 lirası vardı. Ceyda parasının çeyreğini harcadı. Ceyda'nın kaç lirası kaldı?

Çözüm:



3. Babam 25 liraya kuru pasta, 40 liraya yaş pasta aldı. Satıcıya 70 lira verdi. Babam kaç lira para üstü alır ?

Çözüm:



4. Caner'in 30 lirası var. Caner tanesi 5 lira olan kitaplardan 3 tane alıyor. Caner'in kaç lirası kalır ?

Çözüm:



5. Çetin'in 16 lirası vardı. Yarısını kardeşine verdi. Sonra parasının 5 lirasını harcadı. Çetin'in kaç lirası kalmıştır ?

Çözüm:



6. Esin parasının tamamına 8 tane toka almış. Tokaların tanesi 2 lira olduğuna göre, Esin'in kaç lirası vardı ?

Çözüm:



7. Kumbara 1. gün 7 lira, 2. gün ise 1. günden 6 lira fazla koydum. İki günde toplam kaç lira koydum ?

Çözüm:



8. Fatih tanesi 3 lira olan kaleminden 7 tane almış. Parasından geriye 9 lira kalmış. Fatih'in kalem almadan önce kaç lirası vardı ?

Çözüm:



PARALARIMIZLA İLGİLİ PROBLEMLER

Kitap = 13 TL

Silgi = 4 TL

Kalemlik = 27 TL

Kalem=9 TL

Defter=6 TL



1. Sıla kalemlik ve kalem almış. İkisine kaç TL öder ?

Çözüm:



2. Can kitap ve defter almış. İkisine kaç TL öder ?

Çözüm:



3. Ela'nın 20 TL'si var. Bir tane kitap almış. Ela'nın kaç TL'si kalmıştır ?

Çözüm:



4. Barış kalem, silgi ve defter almış. Barış kaç TL öder ?

Çözüm:



5. Uğur'un 34 TL'si varmış. 7 tane silgi almış. Kaç TL'si kalmış ?

Çözüm:



6. Kalemliğin fiyatı kalemten kaç lira fazladır ?

Çözüm:



7. Ceren'in 40 TL'si vardı. 2 tane kitap aldı. Ceren'in kaç TL'si kaldı ?

Çözüm:



8. Caner'in 19 TL'si var. Kalemlik almak istiyor. Caner'in kaç TL'ye daha ihtiyacı vardır ?

Çözüm:



PARALARIMIZLA İLGİLİ PROBLEMLER

Araba = 36 TL

Top = 14 TL

Bebek = 48 TL

Robot = 82 TL

Ördek = 25



1. Öznur'un 40 TL'si var. Bir tane ördek almış. Kaç TL'si kalmış ?

Çözüm:



2. Kemal'in 28 lirası var. Araba almak istiyor. Kemal'in kaç TL'ye daha ihtiyacı var ?

Çözüm:



3. Arda bir araba ve bir top almış. Satıcıya kaç TL öder ?

Çözüm:



4. Yeliz'in 60 TL'si var. Bir tane bebek almış. Yeliz'in kaç TL'si kalır ?

Çözüm:



5. Umut bir tane robot almış. Satıcıya 90 TL vermiş. Kaç TL para üstü alır ?

Çözüm:



6. Banu bebek ve ördek almış. Satıcıya 90 TL vermiş. Kaç TL para üstü alır ?

Çözüm:



7. Berk top ve ördek almış. Berk kaç TL öder ?

Çözüm:



8. Amcam 2 tane top almış. Satıcıya 50 TL vermiş. Kaç TL para üstü alır ?

Çözüm:



PARALARIMIZLA İLGİLİ PROBLEMLER

Elbise = 76 TL



Şapka = 18 TL



Tişört = 29 TL



Çorap = 5 TL



Etek = 45 TL



1. Hakan'ın 30 TL'si vardı. Bir şapka ve bir çorap aldı. Kaç TL'si kalmıştır ?

Çözüm:



2. Selin'in 59 TL'si var. Selin elbise almak istiyor. Selin'in kaç TL daha biriktirmesi gerekiyor ?

Çözüm:



3. Babam 5 tane çorap almış. Satıcıya 40 TL vermiş. Kaç TL para üstü alır ?

Çözüm:



4. Aslı kumbarasında biriktirdiği 60 TL'ye etek almış. Kaç TL'si kalmıştır ?

Çözüm:



5. Ümit tişört ve şapka almış. Ümit ikisine kaç TL ödemiştir ?

Çözüm:



6. Gürkan 2 tane şapka almış. Satıcıya 50 TL vermiş. Gürkan kaç TL para üstü almıştır ?

Çözüm:



7. Taner şapka, tişört ve çorap almış. Taner aldıklarına kaç TL ödemiştir ?

Çözüm:



8. Pelin elbise alınca 14 TL'si kalmış. Elbiseyi almadan önce Pelin'in kaç TL'si vardı?

Çözüm:



VERİ TOPLAMA VE DEĞERLENDİRME

1. Etkinlik: Kemaller'in bahçesinde 3 tane elma, 4 tane kayısı ve 2 tane kiraz ağacı varmış.

Yukarıdaki verileri kullanarak çetele ve sıklık tablosu oluşturalım. Tablolardan faydalanarak şekil grafiği oluşturalım.

ÇETELE TABLOSU


Tablo:

SIKLIK TABLOSU

Tablo:

GRAFİK

Grafik:



Grafikte her ağacı göstermektedir.

2. Etkinlik: Kutuda 4 tane sarı, 7 tane kırmızı, 5 tane mavi boncuk var.

Yukarıdaki verileri kullanarak çetele ve sıklık tablosu oluşturalım. Tablolardan faydalanarak şekil grafiği oluşturalım.

ÇETELE TABLOSU


Tablo:

SIKLIK TABLOSU

Tablo:

GRAFİK

Grafik:



Grafikte her boncuğu göstermektedir.

VERİ TOPLAMA VE DEĞERLENDİRME

1. Etkinlik: Sepette 6 tane elma , 3 tane muz ve 4 tane armut var .

Yukarıdaki verileri kullanarak çetele ve sıklık tablosu oluşturalım. Tablolardan faydalanarak şekil grafiği oluşturalım.

ÇETELE TABLOSU


Tablo:

SIKLIK TABLOSU

Tablo:

GRAFİK

Grafik:



Grafikte her meyveyi göstermektedir.

2. Etkinlik: Kümeste 6 tane hindi, 10 tane tavuk ve 4 tane horoz var.

Yukarıdaki verileri kullanarak çetele ve sıklık tablosu oluşturalım. Tablolardan faydalanarak şekil grafiği oluşturalım.

ÇETELE TABLOSU

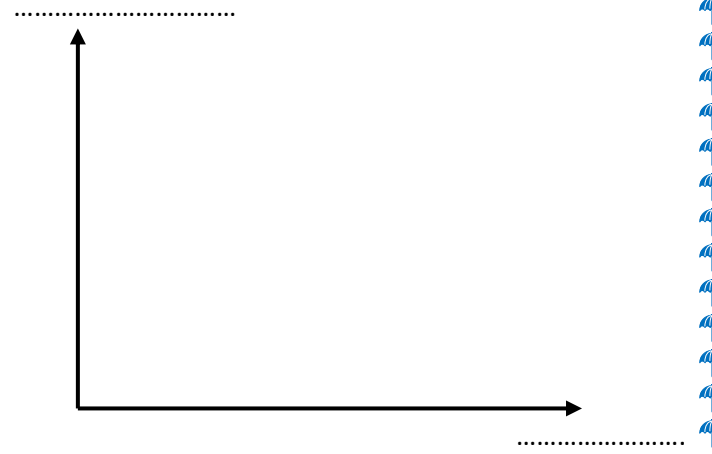
Tablo:

SIKLIK TABLOSU

Tablo:

GRAFİK

Grafik:



Grafikte her hayvanı göstermektedir.