



## EŞ SESLİ KELİMELER

🌸 Aşağıda verilen kelimeler arasındaki eş sesli kelimeyi işaretleyelim. Bulduğunuz kelime-  
iki farklı anlamda olacak şekilde iki cümle kurunuz.

ev  ben  ıslak

çay  su  nehir

bahçe  saksı  gül

ağaç  dal  çiçek

toprak  soğuk  dolu

yol  çukur  ateş

.....  
.....



.....  
.....

.....  
.....



.....  
.....

.....  
.....



.....  
.....



## NOKTALAMA İŞARETLERİ

☀ Aşağıdaki cümlelerde yapılan noktalama işaretlerini düzelterek cümleleri doğru bir şekilde yazalım.



Seymenler Parkında hızlı adımlarla yürüdük !

.....



Türk Tarih Kurumu'nda çalışan dayım bana kitap getirdi.

.....



Teyzem'in kızı Zeynep'e bisiklet alınmış.

.....



Adana'lı komşumuz mu kaza yapmış.

.....



Lütfen Mavişe yardım edin.

.....



Annem ablam'a renkli mi renkli bir elbise almış.

.....



Taner Bey İngilizce ve Fransızca'yı çok güzel konuşuyor.

.....



Hey , buraya girmek yasak.

.....



Elif , Gaysiz pikniğe gitmez mi.

.....



## DÜRÜST ODUNCU

Evvel zaman içinde bir ormanın kenarında küçük bir köy varmış. Bu köyün erkekleri ormandan kestikleri odunları satarak geçimlerini sağladıkları. Bu odunculardan birisi, köyün en dürüst oduncusu imiş. Hiç yalan söylemez, helalinden kazanmak istermiş. Sattığı odunlardan kazandığı parayla pazardan ailesinin bir haftalık ihtiyacını almış.

Bir gün, bu dürüst oduncu odun kesmeye ormana gitmiş. Baltasını bir ağacın dibine bırakıp başlamış kesebileceği bir ağaç aramaya. Sonunda kesecek kurumuş bir ağaç bulmuş. Dürüst oduncu hep kurumuş ağaçları ve dalları kesermiş. Sonra baltasını bıraktığı yere gitmiş. Ancak baltasını bıraktığı yerde bulamamış. Sağa bakmış yok, sola bakmış yok. Baltasını bulamayan oduncu ağlamaya başlamış. "Ben şimdi ne yaparım ne ederim. Baltam olmadan nasıl odun keser para kazanırım," diyerek gözyaşı dökmüş.

Oduncunun halini gören sihirli bir kuş, oduncunun haline acımış. Hemencecik altından bir baltayı oduncunun yanına göndermiş. Oduncu "Benim baltam altından değildi," diyerek baltayı almamış. Sihirli kuş bu sefer gümüşten bir baltayı oduncunun yanına göndermiş. Oduncu "Benim baltam gümüşten de değildi," diyerek gümüş baltayı da almamış.

Sihirli kuş bu kez de oduncunun kendi baltasını göndermiş. Oduncu kendi ağaç saplı demirden baltasını görünce sevinmiş. "İşte benim baltam bul," diyerek baltasını omzuna atmış. Sihirli kuş oduncunun dürüstlüğü karşısında memnun kalmış. Oduncuya hem altın, hem gümüş baltayı hediye etmiş.



Aşağıdaki soruları metne uygun bir şekilde cevaplayınız.

1. Köyün erkekleri geçimlerini nasıl sağladıkları?

.....

2. Dürüst oduncu nasıl biriymiş?

.....

3. Dürüst oduncu kazandığı parayla ne yaparmış?

.....

4. Dürüst oduncu baltasını nereye bırakmış?

.....

5. Oduncu niçin ağlamış ?

.....

6. Sihirli kuş altın ve gümüş baltayı oduncuya niçin hediye etmiş?

.....



## ÜLKEME KATKIDA BULUNANLAR

🌸 Aşağıdaki kişiler ile ilgili bir araştırma yapınız. Edindiğiniz bilgileri kısaca aşağıya yazınız.



AZİZ SANCAR

.....

.....

.....

.....

.....

.....

.....

.....



HALİDE EDİP ADIVAR

.....

.....

.....

.....

.....

.....

.....

.....



CAHİT ARF

.....

.....

.....

.....

.....

.....

.....

.....



## ELEKTRİKLİ ARAÇ VE GEREÇLERİ TANIYALIM

⚙️ Aşağıda verilen eşyalardan ısınma amacıyla kullanılanlara "I", aydınlatma amacıyla kullanılanlara "A", ev araç gereçlerine "E" harfini yazalım.



....



....



....



....



....



....



....



....



....



....



....



....



....



....



....



....



....



....



....



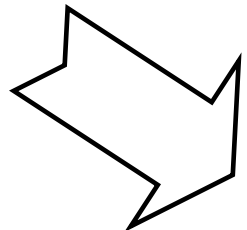

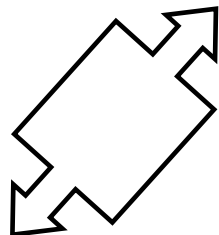

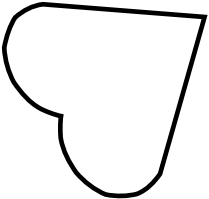
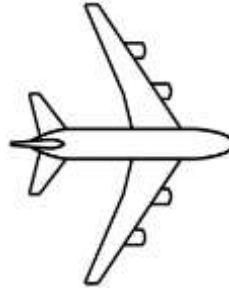

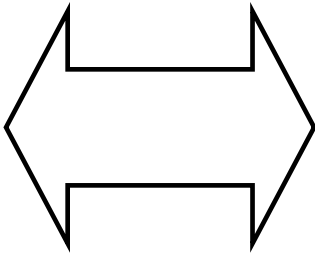
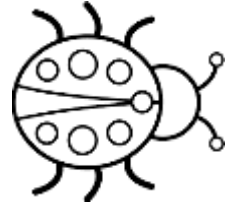
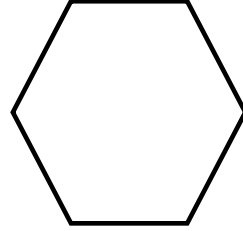
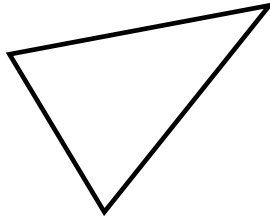



....



## SİMETRİ DOĞRULARINI BELİRLEYELİM



Aşağıdaki şekillerin ve görsellerin simetri doğrularını çizelim.

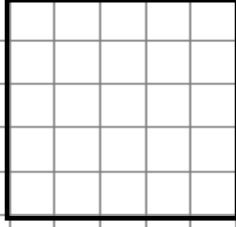


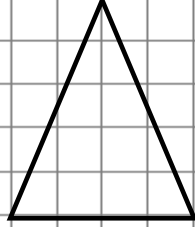


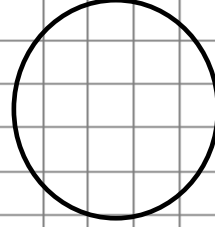
## SİMETRİ DOĞRULARINI BELİRLEYELİM

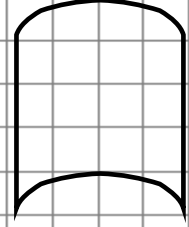


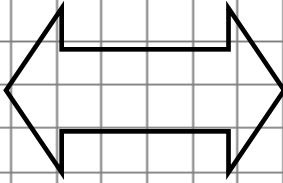
Aşağıdaki şekillere kaç tane simetri doğrusu çizilebilir? Tablodan sayılarla eşleştirelim.

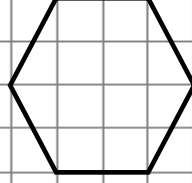










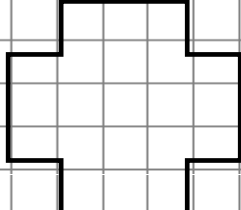


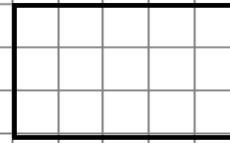


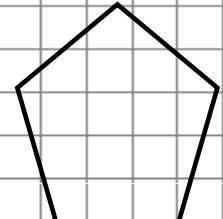


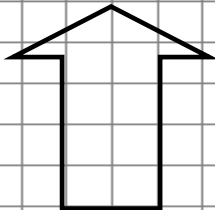


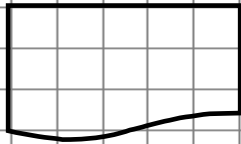


















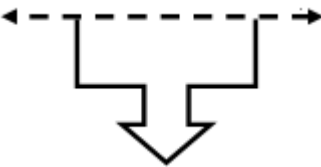
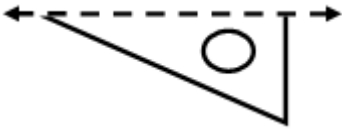
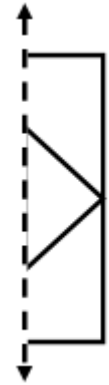
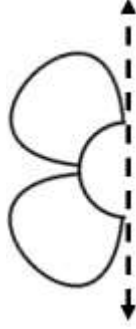
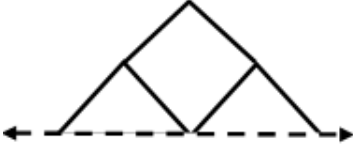

A	B	C	Ç	D	E	F	G
0	1	6	4	5	1	0	2
Ğ	H	I	İ	J	K	L	M
sayısız	0	1	2	4	1	2	1



## SİMETRİ DOĞRULARINI BELİRLEYELİM



Aşağıdaki şekilleri simetri doğrularına göre tamamlayınız.



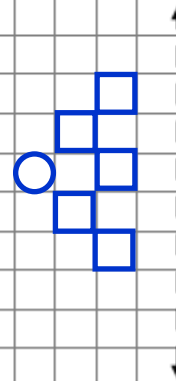
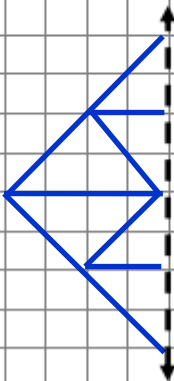
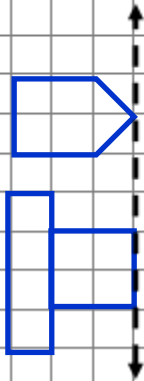
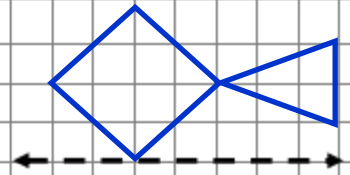
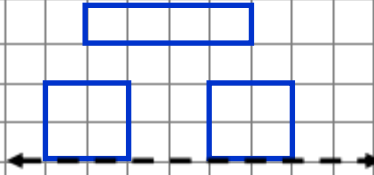
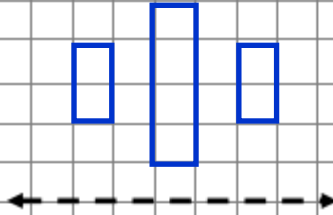
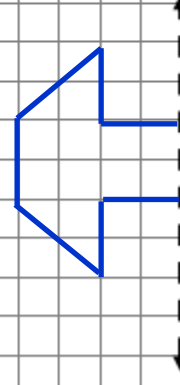
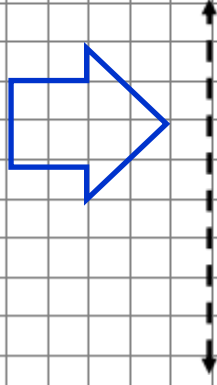
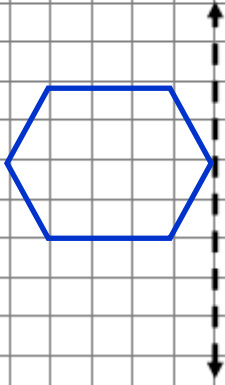
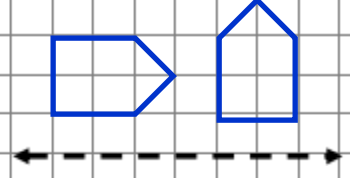
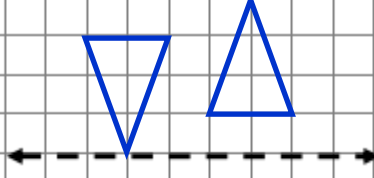
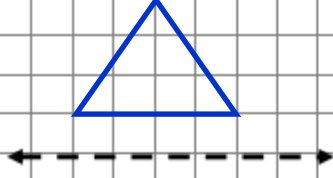




## SİMETRİLERİNİ ÇİZELİM



Aşağıdaki şekilleri simetri doğrularına göre tamamlayınız.





## UZUNLUKLARI ÖLÇELİM



Aşağıdaki şekilleri simetri doğrularına göre tamamlayınız.



Kalem = 10 cm



Silgi = 5 cm



Sopa = 50 cm



Kurdele = 100 cm



Kitap = 30 cm

Pınar sırasının boyunu 3 kitap ve 1 silgi olarak ölçmüş. Buna göre sırasını boyu kaç cm'dir?

Pınar okulun koridorunu 25 kurdele olarak ölçmüş. Buna göre koridorun uzunluğu kaç cm'dir?

Pınar resim çantasının uzunluğunu 6 kalem ölçmüş. Buna göre resim çantasının uzunluğu kaç cm'dir?

Pınar balkonun boyunu 13 sopa ve 2 kitap olarak ölçmüş. Buna göre balkonun boyu kaç cm'dir?

Pınar kitaplığının genişliğini 3 kitap ve 6 silgi olarak ölçmüş. Buna göre kitaplığın genişliği kaç cm'dir?

Pınar bahçedeki iki ağacın arasını 5 kurdele ve 2 sopa olarak ölçmüş. Buna göre iki ağacın arası kaç cm'dir?

Pınar pantolonunun boyunu 7 kalem ve 3 silgi olarak ölçmüş. Buna göre pantolonun boyu kaç cm'dir?

Pınar televizyonun boyunu 7 kalem ve 4 silgi olarak ölçmüş. Buna göre televizyonun boyu kaç cm'dir?



## UZUNLUKLARI ÖLÇELİM

Aşağıdaki şekilleri simetri doğrularına göre tamamlayınız.



Karış = 15 cm



Kulaç = 100 cm



Ayak = 20 cm



Parmak = 1 cm



Adım = 50 cm

Taner yatağını 2 kulaç ve 1 karış olarak ölçmüş. Buna göre yatağın boyu kaç cm'dir?

Taner odasının genişliğini 6 adım ölçmüş. Buna göre odanın genişliği kaç cm'dir?

Taner kapının genişliğini 5 ayak ölçmüş. Buna göre kapının genişliği kaç cm'dir?

Taner masasının boyunu 6 karış ve 4 parmak olarak ölçmüş. Buna göre masanın boyu kaç cm'dir?

Taner kitabın 1 karış ve 7 parmak olarak ölçmüş. Buna göre kitabın boyu kaç cm'dir?

Taner halının boyunu 4 adım ve 2 ayak olarak ölçmüş. Buna göre halının boyu kaç cm'dir?

Taner sınıftaki tahtanın uzunluğunu 3 kulaç ve 4 karış ölçmüş. Buna göre tahtanın uzunluğu kaç cm'dir?

Taner evlerinin koridorunu 10 adım ve 3 ayak olarak ölçmüş. Buna göre koridorun boyu kaç cm'dir?