







ÇEVRE ÖLÇME


☀ Aşağıdaki karelerin çevrelerini iki farklı yoldan örnekteki gibi işlem yaparak bulalım.


	$6 + 6 + 6 + 6 = 24 \text{ cm}$ $4 \times 6 = 24 \text{ cm}$
6 cm	


9 cm	



3 cm	



12 cm	



7 cm	



10 cm	


☀ Aşağıda çevresi verilen karelerin bir kenarının uzunluğunu işlem yaparak bulalım.


	$20 \div 4 = 5 \text{ cm}$
Ç= 20 cm	


Ç= 12 cm	


Ç= 32 cm	


Ç= 24 cm	


Ç= 36 cm	


Ç= 80 cm	