

Adı : .....

Soyadı: .....

3. Sınıf  
Matematik

Uzunluk Ölçme-3

Doğru parçalarının uzunluklarını cetvel kullanarak ölçünüz.



.....cm



.....



.....



.....



.....



.....



.....



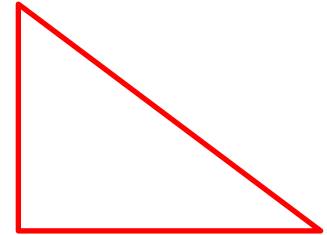
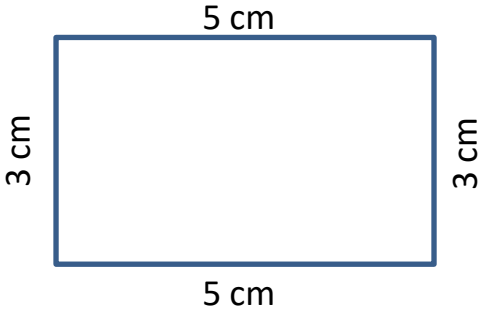


.....



.....

Şekillerin kenarlarının uzunluklarını ölçünüz. Uzunluklarını kenarlarına yazınız.



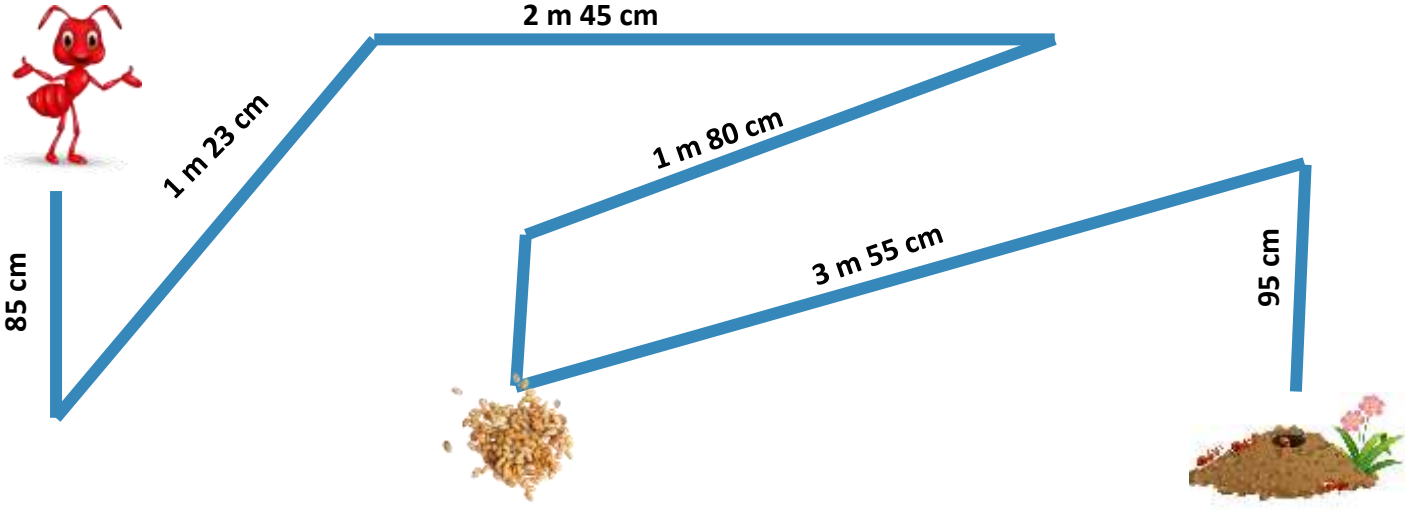
Adı : .....

Soyadı: .....

3. Sınıf  
Matematik

Uzunluk Ölçme-3

Karıncanın yuvasına kadar kaç cm yol yürüyeceğini hesaplayınız.



Verilen uzunlukları noktadan başlayarak cetvel kullanarak çiziniz.

1 cm

•

5 cm

•

10 cm

•

4 cm

•

8 cm

•

15 cm

•

11 cm

•

9 cm

•