

Adı :
Soyadı:

2. Sınıf Matematik

Veri Toplama ve Değerlendirme-4

Sınıfımızdaki öğrencilerin gözlerinin renklerine ait **şekil grafiği** verilmiştir. Soruları cevaplayınız.

Göz Rengi	Öğrenci Sayısı
Mavi	● ● ● ● ●
Yeşil	● ● ● ●
Kahverengi	● ● ● ● ● ● ●
Siyah	● ● ● ● ● ● ● ● ● ●

● Her şekil 1 öğrencidir.

Mavi gözlü öğrenci sayısı

.....

Yeşil gözlü öğrenci sayısı

.....

Kahverengi gözlü öğrenci

.....

Siyah gözlü öğrenci sayısı

.....

Aşağıdaki **şekil grafiğinde** hayvanat bahçesinde bulunan hayvanların sayısı gösterilmektedir. Soruları cevaplayalım.

Hayvanlar	Hayvan Sayısı
	★ ★ ★ ★ ★ ★ ★ ★
	★ ★ ★ ★ ★ ★ ★ ★ ★ ★
	★ ★ ★ ★ ★ ★ ★
	★ ★ ★ ★ ★ ★ ★ ★

★ Her şekil 1 tane hayvanı gösterir.

Timsah sayısı

.....

Aslan sayısı

.....

Fil öğrenci sayısı

.....

Kaplumbağa sayısı

.....

Hayvanat bahçesinde en çok bulunan hayvan

Hayvanat bahçesinde en az bulunan hayvan

Hayvanat bahçesindeki fil ve zürafaların sayısı





Hayvanat bahçesinde bulunan hayvanların toplam sayısı

Adı :
Soyadı:

2. Sınıf Matematik

Veri Toplama ve Değerlendirme-4

Aşağıdaki **şekil grafiğinde** öğrencilerin okuduğu kitap sayısı göstermektedir. Soruları cevaplayalım.

Göz Rengi	Öğrenci Sayısı
Melis	
Merve	
Rahman	
Yiğit	

 Her şekil 2 kitaptır.

Melis'in okuduğu kitap sayısı

Merve'nin okuduğu kitap sayısı

Rahman'ın okuduğu kitap sayısı

Yiğit'in okuduğu kitap sayısı

Aşağıdaki **şekil grafiğinde** sınıflardaki kız öğrenci sayısını göstermektedir. Soruları cevaplayalım.

Sınıflar	Kız Öğrenci Sayısı
2/A	
2/B	
2/C	
2/D	

 Her şekil 2 tane kız öğrenciyi gösterir.

2/A sınıfındaki kızların sayısı

2/B sınıfındaki kızların sayısı

2/C sınıfındaki kızların sayısı

2/D sınıfındaki kızların sayısı

En çok kız hangi sınıfta bulunmaktadır?
.....

En az kız hangi sınıfta bulunmaktadır?
.....

2/A sınıfındaki kızların sayısı 2/C sınıfından ne kadar fazladır?

Tüm sınıflarda kaç toplam kaç tane kız öğrenci vardır?