






















Adı :
Soyadı:

2. Sınıf Matematik

Veri Toplama ve Değerlendirme-5

2/D ve 2/F sınıfındaki öğrencilerin hangi takımı desteklediklerini gösteren **şekil grafiği** verilmiştir. Soruları cevaplayınız.

				
				
				
				
				
				
Antalyaspor	Beşiktaş	Fenerbahçe	Galatasaray	Trabzonspor

Antalyaspor'u destekleyen öğrenci sayısı

.....

Beşiktaş'ı destekleyen öğrenci sayısı

.....

Fenerbahçe'yi destekleyen öğrenci sayısı

.....

Galatasaray'ı destekleyen öğrenci sayısı
























.....

Trabzonspor'u destekleyen öğrenci sayısı

.....

Her şekil 3 öğrencidir.

Aşağıdaki **şekil grafiği** öğrencilerin kaç gün denize gittiklerini göstermektedir. Çetele ve sıklık tablosunu dolduralım.

				
				
				
				
				
				
Ali	Efe	Mina	Ahsen	Cemil

Her şekil 3 gündür.

Öğrenciler	Çetele	Sıklık
Ali		
Efe		
Mina		
Ahsen		
Cemil		

