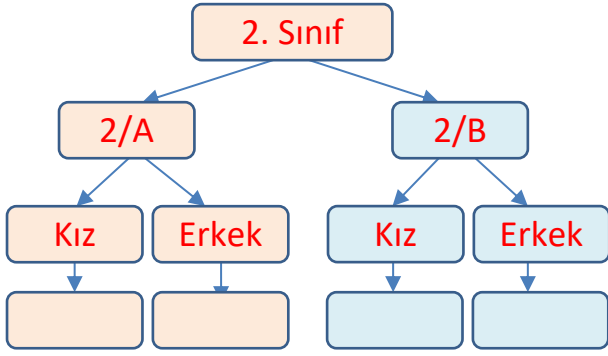


Adı : .....  
Soyadı: .....

## 2. Sınıf Matematik

## Veri Toplama Yeni Nesil Sorular-1



Okulumuzda 2.sınıflara ait ağaç şema yukarıda gösterilmiştir. Aşağıdaki bilgilere göre soruları cevaplandırınız.

- \* 2/B sınıfında 17 kız, 2/A sınıfında 16 erkek vardır.
- \* 2/A sınıfının mevcudu 34 kişidir.
- \* Erkeklerin toplam sayısı 34 kişidir.

Okulumuzda 2. sınıfa giden kaç tane öğrenci vardır?

- A 69      C 81  
B 73      D 70

Okulumuzda erkek öğrencilere ait çetele tablosu hangisinde doğru verilmiştir?

	2/A	2/B
A		
B		
C		
D		

2/A ve 2/B sınıfındaki 32 kız ve 36 erkek öğrenciye en çok sevdikleri meyveleri sorduk. Verilen bilgilere göre nesne grafiği aşağıdadır.

	Seven Öğrenci Sayısı
Kız	
Erkek	
Kız	
Erkek	
Kız	
Erkek	
Kız	?
Erkek	?

Her nesne 2 adettir.

Verilen bilgilere geri kalan öğrenciler karpuz sevmektedir. Kız ve erkek öğrenciler için kaçar tane karpuz resmi eklenmelidir?





	Kız	Erkek
A	4	8
B	8	8
C	4	4
D	8	4

Adı : .....  
Soyadı: .....

## 2. Sınıf Matematik

## Veri Toplama Yeni Nesil Sorular-1

Okulumuzun kantininde satılan ürünleri gösteren şekil grafiği aşağıda gösterilmiştir.

Ürün	Satılan Ürün Sayısı
Tost	
Simit	
Su	
Süt	

Her şekil 3 tanedir.

Kantinci toplam kaç tane ürün satmıştır?

- A** 90                      **C** 30  
**B** 87                      **D** 93

Kantinci tostun tanesini 5 liradan, sattığına göre kaç lira para kazanmıştır?

- A** 70 TL                      **C** 90 TL  
**B** 65 TL                      **D** 75 TL

Kantinci simitlerin tanesini 3 liradan satmıştır. Grafiğe 4 tane daha simit şekli ekleydik ne kadar para kazanmış olurdu?

- A** 90 TL                      **C** 93 TL  
**B** 87 TL                      **D** 96 TL

Kantinci 6 tane sütü 18 liraya satmıştır. Sütlerden kaç lira para kazanmıştır?

- A** 78 TL                      **C** 84 TL  
**B** 81 TL                      **D** 87 TL

Ayşe kantinden aldığı 2 tane sütü geri vererek yerine 3 tane su almıştır. Kantinci sulardan toplam ne kadar kazanmıştır?

- A** 80 TL                      **C** 60 TL  
**B** 40 TL                      **D** 20 TL