





Veri Toplama - Tablo



Tabloları inceleyelim. Soruları cevaplayalım.

Tablo: Hayvanlar

Hayvanlar	Sayısı
	7
	3
	5
	4

1. Sayısı en az olan hayvan hangisidir?
.....

2. Sayısı en fazla olan hayvan hangisidir?
.....

3. Ördeklerle, ineklerin toplamı kaçtır?
.....

4. Tavuklarla ve tavşanların toplamı kaçtır?
.....

1. Araba ve uçakların toplamı kaçtır?
.....

2. Oyuncak ayı ve bebeklerin toplamı kaçtır?
.....

3. Uçak ve bebeklerin toplamı kaçtır?
.....

4. Araba ve oyuncak ayının toplamı kaçtır?
.....

Tablo: Hayvanlar

Oyuncaklar	Sayısı
	9
	4
	8
	7

Veri Toplama - Tablo

 Aşağıda verilen bilgiler doğrultusunda tabloyu dolduralım.

ALI EYMEN'İN KİTAPLARI

Ali Eymen, 1. Sınıfa gidiyor. Ali Eymen'in evindeki kitaplığında 8 tane masal kitabı, 9 tane şiir kitabı, 5 tane tekerleme kitabı, 6 tane bilmece kitabı vardır.

Tablo: Kitap Türleri

Kitaplar	Sayısı
Masal	
Şiir	
Tekerleme	
Bilmece	

MEYVE ÇEŞİTLERİ

Annemin misafirlere hazırladığı meyve tabağında 14 tane portakal, 13 tane muz, 7 tane elma ve 6 tane mandalina var.

Tablo: Meyve Çeşitleri

Meyveler	Sayısı
portakal	
muz	
elma	
mandalina	

SEVİLEN RENKLER

1 C sınıfındaki öğrencilerden 5 tanesi sarı rengi, 10 tanesi pembe rengi, 12 tanesi kırmızı rengi, 15 tanesi de yeşil rengini sevmektedir.

Tablo: Sevilen Renkler

Renkler	Sayısı
sarı	
pembe	
kırmızı	
yeşil	