
































Veri Toplama - Tablo

Mart Ayı Hava Durumu

Pazartesi	Salı	Çarşamba	Perşembe	Cuma	Cumartesi	Pazar
1 	2 	3 	4 	5 	6 	7 
8 	9 	10 	11 	12 	13 	14 
15 	16 	17 	18 	19 	20 	21 
22 	23 	24 	25 	26 	27 	28 
29 	30 	31 				

- ➔ Mart ayında salı günleri kaç gün kar yağışlıdır? Boyayalım.
- ➔ Mart ayında cuma günleri kaç gün bulutludur? Boyayalım.
- ➔ Mart ayında pazar günleri kaç gün yağmurludur? Boyayalım.
- ➔ Mart ayında pazartesi günleri kaç gün güneşlidir? Boyayalım.
- ➔ Mart ayında toplam kaç gün bulutludur? Boyayalım.
- ➔ Mart ayında toplam kaç gün kar yağışlıdır? Boyayalım.

Veri Toplama - Tablo

Tabloyu inceleyelim, soruları cevaplayalım.

Tablo: Sevilen Oyunlar

Oyunlar	Sayısı
Körebe	9
Saklambaç	6
Seksek	8
Yerden yüksek	7

En çok sevilen oyun hangisidir?

.....

Körebe ve saklambaç sevenlerin toplamı kaç kişidir?

.....

Seksek ve yerden yüksek sevenlerin toplamı kaç kişidir?

.....

Körebe ve seksek sevenlerin toplamı kaç kişidir?

.....

En az sevilen oyun hangisidir?

.....

Tablo: Yaş Tablosu

Çocuklar	Yaşarı
Zeynep	7
Göktürk	10
Hakan	8
Gökçe	4

Yaşı en küçük olan çocuk kimdir?

.....

Erkeklerin yaşları toplamı kaçtır?

.....

Kızların yaşları toplamı kaçtır?

.....

Göktürk, Zeynep'ten kaç yaş büyüktür?

.....

Zeynep, Gökçe'den kaç yaş büyüktür?

.....