



Ülkemizde en küçük yerleşim birimi köydür. Köyleri, köyde yaşayan halkın seçtiği muhtarlar yönetir. Köyde yaşayan insanlar geçimlerini tarım ve hayvancılıkla sürdürürler. Soframıza gelen yiyecek ve içeceklerin hemen hepsinde köylülerimizin alın teri vardır. Marketten alıp on dakikada tükettiğimiz bir yiyecek için köylülerimiz aylarca emek vermiştir. Bu nedendir ki Atatürk "Köylü milletin efendisidir." sözünü söylemiştir.

(İlk 4 soruyu metne göre cevaplayınız.)

1) Köyde yaşayan insanlar geçimlerini hangileri ile sürdürürler?

- A) Sanayi ve hayvancılık
- B) Turizm ve tarım
- C) Tarım ve hayvancılık

2) Metinden yola çıkarak köylerimiz ile ilgili hangi ifadeye ulaşamaz?

- A) Köy bir yerleşim yeridir.
- B) Köylüler seçimle yöneticilerini seçerler.
- C) Köylüler ürettikleri ürünleri marketlerde satarlar.

3) Metnin türü aşağıdakilerden hangisidir?

- A) Bilgilendirici
- B) Şiir
- C) Hikâye edici

4) Hangisi metin için uygun bir başlık olabilir?

- A) Güzel Bir Köy
- B) Köyden İndim Şehire
- C) Köylü Milletin Efendisidir

5)

| | | |
|--------|-------|---------|
| Tavuk | Evler | Sürü |
| Tarla | Orman | Ağaçlar |
| Kuşlar | Ordu | Çiçek |

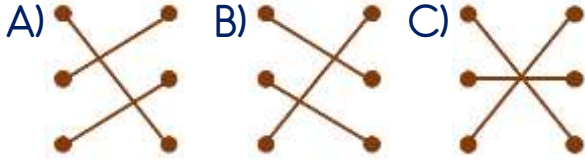
Tahtadaki sözcüklerden kaç tanesi topluluk ismidir?

- A) 2
- B) 3
- C) 5

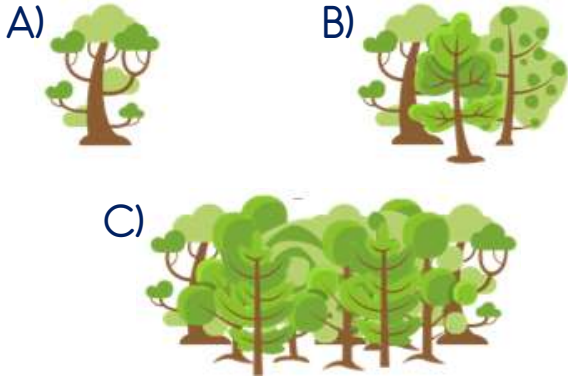
6)

| | | |
|----------|---|----------|
| Aile | • | Tekil |
| Çocuklar | • | Çoğul |
| Çocuk | • | Topluluk |

Yukarıdaki isimler türleri ile nasıl eşleştirilmelidir?



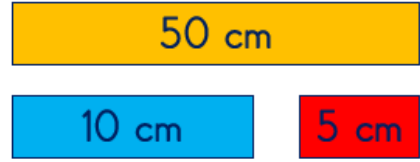
7) Aşağıdaki görsellerden hangisi tekil ismi temsil etmektedir?



8) Aşağıdakilerden hangisi standart olmayan uzunluk ölçü birimidir?

A) metre B) gram C) kulaç

9) Yandaki kalem boyunu ölçmek için hangisi kullanılamaz?



(10, 11 ve 12. Soruları görsele göre cevaplayınız.)

10) Yandaki kalem boyu kaç santimetredir?



A) 10 cm B) 15 cm C) 20 cm

11) Yandaki çantanın boyu kaç santimetredir?

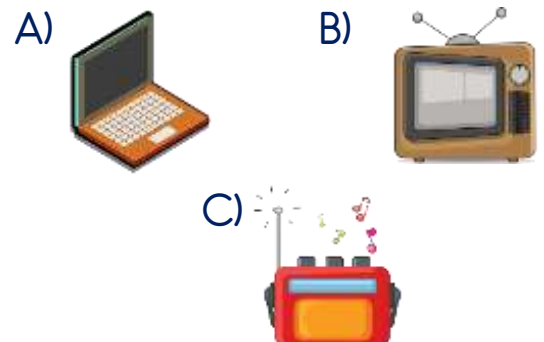


A) 40 cm B) 50 cm C) 60 cm

12) Kalem ile çantanın uzunlukları toplamı kaç santimetredir?

A) 55 cm B) 65 cm C) 75 cm

13) Aşağıdaki elektrikli araçlardan hangisi eğitim amaçlı kullanılır?



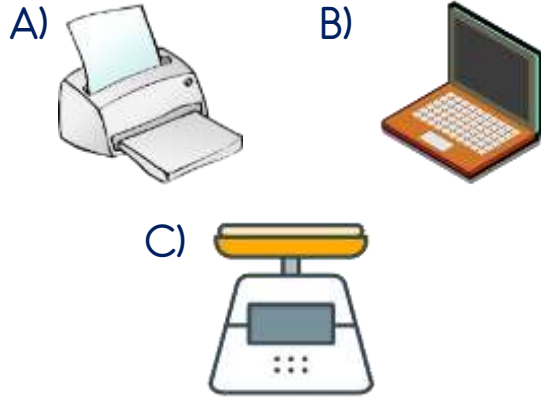
14)



Yukarıdaki konuşma balonuna hangi ifade yazılamaz?

- A) Yiyecekleri soğuturum.
- B) Yiyeceklerin kısa sürede bozulmasını sağlarım.
- C) Bazı yiyecekleri dondurarak uzun süre saklarım.

15) Aşağıdaki elektrikli araçlardan hangisi okullarda kullanılmaz?



16) Aşağıdakilerden hangisi aydınlatma amacıyla kullanılan elektrikli bir araç değildir?



17) Aşağıdakilerden hangisi Nuri Demirağ için söylenebilir?

- A) Güreşte dünya şampiyonu oldu.
- B) İlk demiryolumuzu yaptı.
- C) Nobel Ödülü kazandı.

18) Yandaki görsel ile aşağıdaki kişilerden hangisi ilişkili değildir?



- A) Vecihi Hürkuş
- B) Sabiha Gökçen
- C) Jale İnan

19) 10 TL'nin üzerindeki kişi için hangisi söylenemez?



- A) İsmi Cahit Arf'tir.
- B) Ünlü Türk matematikçidir.
- C) Nobel Ödülü kazanmıştır.

20) Aşağıdakilerden hangisi Naim Süleymanoğlu'na ait bir bilgidir?

- A) Milli voleybolcumuzdur.
- B) İstanbul'da adını taşıyan bir havaalanı vardır.
- C) İlk dünya rekorunu 15 yaşında kırmıştır.

Cevap Kâğıdı

Öğrencinin;

Adı Soyadı: Sınıfı: No: Puanı:

| CEVAPLAR | |
|----------|-------|
| 1 | A B C |
| 2 | A B C |
| 3 | A B C |
| 4 | A B C |
| 5 | A B C |
| 6 | A B C |
| 7 | A B C |
| 8 | A B C |
| 9 | A B C |
| 10 | A B C |
| 11 | A B C |
| 12 | A B C |
| 13 | A B C |
| 14 | A B C |
| 15 | A B C |
| 16 | A B C |
| 17 | A B C |
| 18 | A B C |
| 19 | A B C |
| 20 | A B C |

Cevap Anahtarı

1-C 2-C 3-A 4-C 5-B 6-C 7-A 8-C 9-C 10-B 11-A 12-A 13-A 14-B 15-C 16-B
17-B 18-C 19-C 20-C

Sınava Ait Konu ve Kazanım Listesi

| Ders | Konu | Kazanım |
|---------------|--|---|
| Türkçe | Varlıkların Sayılarına Göre Adlar (Tekil - Çoğul - Topluluk) | |
| Matematik | Uzunluk Ölçme | M.3.3.1.1. Bir metre, yarım metre, 10 cm ve 5 cm için standart olmayan ölçme araçları tanımlar ve bunları kullanarak ölçme yapar. |
| Fen Bilimleri | Elektrikli Araç-Gereçler | F.3.7.1.1. Elektrikli araç-ger yakın çevre örnekler vererek elektriğin günlük yaşamdaki önemini açıklar. |
| Hayat Bilgisi | Ülkemize Hizmet Edenler | HB.3.5.9. Yaptığı çalışmalarla ülkemize katkıda bulunmuş kişileri araştırır. |