

Veri Toplama - Tablo


 Tabloyu inceleyelim, soruları yanıtlayarak dolduralım.

Tablo: Bahçedeki Ağaçlar


Ağaçlar	Sayısı
Elma	6
Kayısı
Armut
Kiraz


Tablo: Sevilen Sporlar


Sporlar	Sayıları
Futbol
Basketbol	8
Yüzme
Koşu


 Kayısı ağaçları, elma ağaçlarından 5 fazladır.

 Futbolu sevenler, basketbolu sevenlerden 3 kişi fazladır?

 Armut ağaçları, kayısı ağaçlarından 2 tane daha azdır.


 Yüzmeyi sevenler, futbolu sevenlerden 5 kişi azdır.


 Kiraz ağaçları, armut ağaçlarından 5 fazladır.

 Koşuyu sevenler, yüzmeyi sevenlerden 6 kişi fazladır.

 Elma ağaçları ile armut ağaçlarının toplamı kaçtır?

 En çok sevilen spor hangisidir?

 Bahçedeki en fazla ağaç hangisidir?

 En çok ve en az sevilen sporların farkı kaçtır?

