

# Veri Toplama - Tablo

Tabloyu inceleyelim, soruları cevaplayalım.

## Tablo: Tutulan takımlar

Takımlar	Sayısı
Galatasaray	8
Beşiktaş	5
Trabzonspor	6
Fenerbahçe	3

→ Galatasaray ve Trabzonspor'u tutanların toplamı kaç kişidir?  
.....

→ Trabzonspor ve Beşiktaş'ı tutanların toplamı kaç kişidir?  
.....

→ Fenerbahçe, Trabzonspor ve Beşiktaş'ı tutanların toplamı kaç kişidir?  
.....

→ Galatasaray'ı tutanların sayısı Fenerbahçe'yi tutanların sayısından kaç fazladır?  
.....

→ Galatasaray ve Beşiktaş'ı tutanların sayısı toplam kaç kişidir?  
.....

## Tablo: Renkler

Renkler	Sevenler
Mavi	9
Yeşil	12
Sarı	3
Pembe	6

→ Mavi ve pembe rengi sevenlerin toplamı kaç kişidir?  
.....

→ Yeşili sevenler, sarıyı sevenlerden kaç fazladır?  
.....

→ Yeşil ve sarıyı sevenlerin toplamı kaç kişidir?  
.....

→ Mavi, pembe ve sarıyı sevenlerin toplamı kaç kişidir?  
.....

→ Pembeyi sevenler, sarıyı sevenlerden kaç kişi fazladır?  
.....

# Veri Toplama - Tablo

Tabloyu inceleyelim, soruları yanıtlayarak dolduralım.

## Tablo: Çocukların Yaşları

Çocuklar	Yaşları
Nisa	6
Gökhan	.....
Ercan	.....
Gülay	.....

→ Gökhan, Nisa'dan 3 yaş büyüktür.

.....

→ Ercan, Gökhan'dan 4 yaş büyüktür.

.....

→ Gülay, Gökhan'dan 5 yaş küçüktür .

.....

→ Ercan ve Nisa'nın yaşları toplamı kaçtır?

.....

→ Gökhan ,Gülay'dan kaç yaş büyüktür?

.....

## Tablo: Sevilen Sporlar

Sporlar	Sayıları
Futbol	.....
Basketbol	7
Yüzme	.....
Koşu	.....

→ Futbolu sevenler, basketbolu sevenlerden 4 kişi fazladır?

.....

→ Yüzmeyi sevenler , futbolu sevenlerden 5 kişi azdır.

.....

→ Koşuyu sevenler, yüzmeyi sevenlerden 6 kişi fazladır.

.....

→ En çok sevilen spor hangisidir?

.....





→ En çok ve en az sevilen sporların farkı kaçtır?

.....

# Veri Toplama

→ Aşağıdaki tabloyu inceleyelim. Soruları yanıtlayalım.

**Tablo:** Kümesteki Hayvanların Sayısı

HAYVANLAR	SAYILARI
Tavşan	
Ördek	
Tavuk	
Horoz	

1. Ördek ve tavukların toplamı kaçtır?


2. Horoz ve tavşanların toplamı kaçtır?


3. Ördek ve tavşanların toplamı kaçtır?


4. Ördekler, horozlardan kaç tane fazladır?
