



## RÜZGÂR İLE GÜNEŞ

Rüzgâr ve Güneş kimin daha güçlü olduğunu tartışıyorlarmış. Rüzgâr:

- Ben daha güçlü olduğumu kanıtlayacağım. Şu karşıdaki paltolu yaşlı adamı görüyor musun? Paltosunu senden daha hızlı çıkaracağıma bahse girerim demiş.

Güneş bir bulutun arkasına çekilmiş ve Rüzgâr kasırga şiddetinde esmeye başlamış. O kuvvetle estikçe ihtiyar adam paltosuna daha sıkı sarılıyormuş. Sonunda Rüzgâr pes edip durmuş. Güneş bulutların arkasından çıkıp yaşlı adama nazikçe gülümsemiş. Çok geçmeden adam alnındaki teri silip paltosunu çıkarmış.

Sonra, Rüzgâr'a dönmüş nazik ve dostça davranışın, şiddet ve güç gösterisinden daha etkili olduğunu söylemiş.

**Not:** İlk 3 soruyu metne göre cevaplayınız.

1) Rüzgâr, kasırga şiddetinde kuvvetle esmeye başlayınca ihtiyar adam ne yapmış?

- A) İhtiyar adam, paltosunu çıkarmış.
- B) İhtiyar adam çok terlemiştir.
- C) İhtiyar adam, paltosuna daha sıkı sarılmıştır.

2) Güneş bulutların arkasından çıkıp yaşlı adama nazikçe gülümseyince yaşlı adam ne yapmıştır?

- A) Paltosuna sıkıca sarılmıştır.
- B) Alnındaki teri silerek paltosunu çıkarmıştır.
- C) Rüzgârın esmesini beklemiştir.

3) Metnin ana fikri nedir?

- A) Kazanamayacağımız bahse girmemeliyiz.
- B) Her zaman güçlü olan kazanır.
- C) Dostluk, tatlı dil, iyi niyet her zaman en kuvvetli anahtardır.

4) Aşağıdaki varlıklardan hangisinin adı sözlükte daha önce gelmektedir?



5)



Hangi hayvanın tuttuğu tabelada yazan kelime "iki sesli - dört sessiz" harf yoktur?




- A) İnek
- B) At
- C) Maymun

10, 11, 12 ve 13. soruları aşağıda verilen nesne grafiğine göre cevaplayınız.




2/A Sınıfı En Sevilen Çizgi Film Kahramanları Tablosu

Çizgi Film Kahramanları	Öğrenci Sayısı
Keloğlan	
Elif'in düşleri	
Arı Maya	
Kral Şakir	

NOT: Her şekil 2 öğrenciyi göstermektedir.

- 6)  Arabalar geçti caddeden  
 Yandı sokağın lambası  
 Kapının önünde oynadık

Yukarıdaki cümlelerin hangisi anlamlı ve kurallı bir cümledir?

- A)  B)  C) 

7) Aşağıdaki cümlelerin hangisinde yazım yanlışı vardır?

- A) Yağmur mu yağıyor şimdi?  
B) Havada kuşlar mı uçuyor?  
C) Çokmu yorgunsun?

8)

Karıncadan örnek aldım.  
Paramı kumbaraya attım.  
Biriktirirsek para,  
Düşmeyiz dara.



Özge'nin şiirinin konusu nedir?

- A) Tasarruf B) Para C) Kumbara

9) Sevilen Mevsimlerin Çetele Tablosu

Mevsimler	Öğrenci Sayısı
Sonbahar	IIII
Kış	HHH
İlkbahar	HHH III
Yaz	HHH II

Yukarıda verilen çetele tablosunda kış ve yaz mevsimi seven öğrenci sayısı kaçtır?

- A) 9 B) 11 C) 12

10) En çok sevilen çizgi film hangisidir?

- A) Kral Şakir B) Arı Maya C) Keloğlan

11) En çok sevilen çizgi film kahramanı ile en az sevilen çizgi film kahramanının farkı kaçtır?

- A) 6 B) 4 C) 2

12) Eşit sayıda sevilen çizgi filmler hangileridir?

- A) Keloğlan - Arı Maya  
B) Elif'in Düşleri - Keloğlan  
C) Elif'in Düşleri - Arı Maya

13) 2/A sınıfta toplam kaç öğrenci vardır?

- A) 24 B) 22 C) 20

14) Elde edilen verilerin sayılarla gösterildiği tabloya ..... denir. Cümledeki noktalı yere hangisi gelmelidir?

- A) Çetele tablosu B) Sıklık tablosu  
C) Nesne grafiği

## En Sevilen Çiçekler Grafiği




Çiçekler	Öğrenci Sayısı
Papatya	● ● ●
Lale	● ●
Gül	● ● ● ● ●
Menekşe	● ●


Not: Her ● (şekil) 3 öğrenciyi göstermektedir.

Yukarıda verilen şekil grafiğinde gül sevenlerin sayısı, lale sevenlerin sayısından kaç fazladır?

- A) 3                      B) 6                      C) 9

16) Aşağıdakilerden hangisi tarım faaliyetleri sonucunda yetiştirilen bir ürün değildir?


- A)  B)  C) 


17)  Sanayi, tarım ve hayvancılık, üretim faaliyetlerimizdendir.


Üretim faaliyetlerimiz ile ilgili hangi bilgi yanlıştır?

- A) Ülkemizde pek çok üretim faaliyeti yapılır.  
B) Üretim faaliyetleri insanların hayatını zorlaştırır.  
C) Üretim faaliyeti ülkemizin gelişmesini sağlar.

18) Üretim faaliyetleri ve görsellerine ilişkin hangi eşleştirme yanlıştır?

A)  → Tarım

B)  → Hayvancılık

C)  → Sanayi

19) Yan tarafa un fabrikasına ait görsel gösterilmiştir. Bu fabrikanın olduğu bölgede aşağıdaki tarım ürünlerinden hangisi daha çok yetiştirilir?

- A) Buğday                      B) Pamuk  
C) Fıstık

20) Aşağıda verilen ürünlerin hangisi sanayi faaliyeti sonucu elde edilmemiştir?

A)  B) 

C) 

## Cevap Anahtarı

1)C 2)B 3)C 4)B 5)A  
6)A 7)C 8)A 9)C 10)A  
11)B 12)B 13)A 14)B 15)C  
16)C 17)B 18)C 19)A 20)B