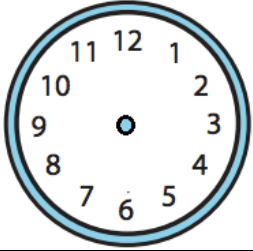


# 1. SINIF MATEMATİK - 2. DÖNEM **TEKRAR ETKİNLİĞİ - 6**

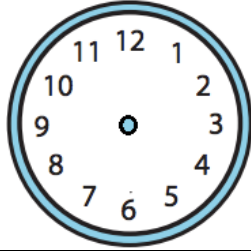
✚ Karışık toplama-çıkarma alıştırmalarını yapınız.

$\begin{array}{r} 8 \\ - 6 \\ \hline \end{array}$	$\begin{array}{r} 2 \\ + 2 \\ \hline \end{array}$	$\begin{array}{r} 7 \\ + 4 \\ \hline \end{array}$	$\begin{array}{r} 5 \\ - 0 \\ \hline \end{array}$	$\begin{array}{r} 9 \\ - 7 \\ \hline \end{array}$
$\begin{array}{r} 7 \\ + 7 \\ \hline \end{array}$	$\begin{array}{r} 6 \\ + 2 \\ \hline \end{array}$	$\begin{array}{r} 14 \\ - 5 \\ \hline \end{array}$	$\begin{array}{r} 9 \\ - 8 \\ \hline \end{array}$	$\begin{array}{r} 7 \\ + 3 \\ \hline \end{array}$

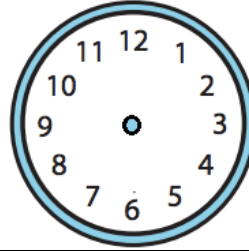
✚ Okunuşları verilen saatlerin akrep ve yelkovanlarını çiziniz.



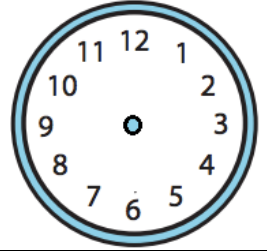
Saat yedi



On buçuk



Saat üç




Beş buçuk



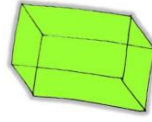
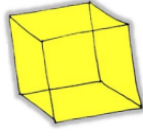
✚ Madeni paraların miktarlarını altlarına yazınız.



✚ Aşağıdaki varlıkların altına **bütün** veya **yarım** yazınız.



✚ Cisimleri ve onlarla çizilebilecek şekilleri eşleştiriniz.






✚ Tablolara istenen bilgileri yazınız.

1 ÖNCEKİ AY	AYLAR	1 SONRAKİ AY
	Mart	
	Kasım	
	Haziran	
	Eylül	

1 GÜN ÖNCE	GÜNLER	1 GÜN SONRA
	Salı	
	Cumartesi	
	Çarşamba	
	Cuma	

✚ Verilen kurallara göre örüntüleri devam ettiriniz.

1 kalp 2 daire	→						
-------------------	---	---	---	---	--	--	--

1 kare 1 üçgen	→						
-------------------	---	---	---	--	--	--	--

✚ Aşağıdaki toplama-çıkarma problemlerini çözünüz.

1	Ali'nin 8 lirası, Ayşe'nin 4 lirası, Oya'nın 3 lirası var. Paralarını birleştirirlerse kaç liraları olur?	→	
---	---	---	--

2	Annemin yaptığı 17 kurabiyenin 6 tanesini ben yedim, 5 tanesini ablam yedi. Kaç kurabiye kaldı?	→	
---	---	---	--