




VERİ TOPLAMA

1.Etkinlik: Tabloyu inceleyelim. Soruları tabloya göre cevaplayalım.

Arda'nın Oyuncakları Tablosu			
Oyuncaklar			
Sayısı	7	3	4

Arda'nın tane  var.

Arda'nın tane  var.

Arda'nın tane  var.

Arda'nın en fazla oyuncacı hangisidir?




Arda'nın en az oyuncacı hangisidir?

Arda'nın toplam kaç oyuncacı vardır?


Arabalar ayılardan kaç tane fazladır?



2.Etkinlik: Tabloyu inceleyelim. Soruları tabloya göre cevaplayalım.

Tabaktaki Meyveler Tablosu			
Meyveler			
Sayısı	3	8	6

Tabakta tane  var.

Tabakta tane  var.


Tabakta tane  var.

Tabakta en fazla hangi meyve var?

Tabakta en az hangi meyve var?

Tabakta toplam kaç meyve vardır?

Çilekler elmalardan kaç tane fazladır?



3.Etkinlik: Tabloyu inceleyelim. Soruları tabloya göre cevaplayalım.

Sınıfta Spor Kurslarına Giden Öğrenciler Tablosu			
Kurslar			
Sayısı	4	6	9

Sınıfta Tane  var.

Sınıfta tane  var.

Sınıfta tane  var.

Sınıfta en fazla öğrenci hangi kursa gidiyor?

Sınıfta en az öğrenci hangi kursa gidiyor?

Sınıfta toplam kaç öğrenci kursa gidiyor?

Futbol kursuna gidenler yüzme kursuna gidenlerden kaç tane fazladır?

