





## VERİ TOPLAMA

1.Etkinlik: Tabloyu inceleyelim. Soruları tabloya göre cevaplayalım.

| Bahçedeki Ağaçlar Tablosu |   |  |   |
|---------------------------|---|--|---|
| Ağaçlar                   | <br>elma | <br>armut | <br>kayısı |
| Sayısı                    | 12  | 4  | 7   |

Bahçede .... tane  var.

Bahçede .... tane  var.

Bahçede .... tane  var.

Bahçede en fazla hangi ağaç vardır? .....




Bahçede en az hangi ağaç vardır? .....

Bahçede toplam kaç ağaç vardır? .....

Elma ağaçları kayısı ağaçlarından kaç tane fazladır? .....



2.Etkinlik: Tabloyu inceleyelim. Soruları tabloya göre cevaplayalım.

| Otobüsteki Yolcu Tablosu |   |   |   |
|--------------------------|---|---|---|
| Yolcular                 | <br>bayan | <br>bay | <br>çocuk |
| Sayısı                   | 7   | 13  | 3   |

Otobüste .... tane  var.

Otobüste .... tane  var.

Otobüste .... tane  var.

Otobüste en fazla hangi yolcu var? .....




Otobüste en az hangi yolcu var? .....

Otobüste toplam kaç yolcu var? .....

Bayanlar çocuklardan kaç tane fazladır? .....



3.Etkinlik: Tabloyu inceleyelim. Soruları tabloya göre cevaplayalım. ( Önce boncukları boyayınız.)

| Kutudaki Boncuk Tablosu |   |  |   |
|-------------------------|---|--|---|
| Boncuklar               | <br>sarı | <br>kırmızı | <br>mavi |
| Sayısı                  | 3   | 5  | 12  |

Kutuda .... tane  var.

Kutuda .... tane  var.

Kutuda .... tane  var.

Kutuda en fazla hangi boncuk var? .....

Kutuda en az hangi boncuk var? .....

Kutuda toplam kaç boncuk var? .....

Mavi boncuklar kırmızı boncuklardan kaç fazladır? .....

