



TEKİR İLE MIRMIR

Şirin bahçeli bir evde tatlı bir kedi yaşıyormuş. Bu kedinin adı Mırmır'mış. Bu evde Mırmır'a Elif ve Betül adında iki kardeş bakıyormuş. Mırmır ismini de iki kardeş koymuş. Mırmır'a en güzel mamaları yediği halde hiç mutlu değilmiş. Her gün pencereden dışardaki oynayan kedileri, köpekleri izlermiş. Onları gördükçe çok üzülürmüş. Çünkü kendini hiç özgür hissetmiyormuş. Sürekli Tekir'in yerinde olmayı düşünüyormuş. Tekir sokakta yaşayan bir kediymiş. Tekir istediği yere gider istediği yer de kalırmış. Tekir pencerede gördüğü Mırmır'ı izlermiş. Mırmır'ın yediği güzel mamaları, sıcak yuvasını düşünüyormuş.

Bir gün Elif, pazar günü Mırmır'ı bahçeye çıkarmış. Mırmır bir iki oyuncak ile oynamış ama canı çok sıkılmış. Çünkü o başka kedilerle arkadaş olmayı çok istiyormuş. O sırada ağacın altında oturan Tekir, Mırmır'ı izlemeye başlamış. Tekir , Mırmır'ın yanına gitmek istemiş ama Elif olduğu için gidememiş. Tekir'i fark eden Mırmır onun yanına gitmiş. Böylece Tekir ile Mırmır tanışmışlar. Birlikte bahçede oyunlar oynamışlar. Bu sırada Elif ikisine de mama getirmiş. İki de afiyetle mamayı yemişler.

☆ Aşağıdaki soruları metne göre cevaplayalım.

1. Mırmır nasıl bir evde yaşıyormuş?

2. Kediye Mırmır ismini kim koymuş?

3. Mırmır her gün pencereden neyi izlermiş?

4. Mırmır sürekli ne düşünüyormuş?


5. Mırmır neyi çok istiyormuş?

6. İki kedi bahçede ne yapmışlar?



ÖZEL AD VE TÜR ADI

* Aşağıdaki kelimelerden özel adların çiçeklerini kırmızıya , tür adların çiçeklerini maviye boyayınız.

 ağaç ceviz Sakarya Fatma Almanya kedi Maviş araba okul tavşan Konya Türkçe halı çanta Pamuk Suriye Yaren kitap Arapça bardak balık masa Yaman Elazığ Oğuz İngilizce gömlek eczane Hollanda Mardin

TÜRKÇE

1. ETKİNLİK : Aşağıdaki cümlelerde boş bırakılan yerlere verilen kelimelerden uygun olanını yazalım.

Hasan attı .
Selma okudu.
Annem yapmış.
Ceyda tavuk yedi.

..... çok koyun var.
Babam ablama
Oğuz topa sert
Gözde süt içti .

dolma	vurdu
eti	takla
ballı	köyde
dergi	kızdı



2. ETKİNLİK : Aşağıda karışık olarak verilen kelimelerle anlamlı bir cümle oluşturalım.

1. (uçar - hızlı - uçak - çok)

2. (şiir - güzel - Okan - okur)

3. (keçi - bu - çok - inat)

4. (tatlı - Ümit - yedi - nar)


5. (tabağa - koydu - İrem - erik)

6. (taşıdı - Eray - bahçeye - odun)

3. ETKİNLİK : Bulmacadaki gizli meyve isimlerini bulalım.




E	İ	P	I	R	A	S	A	Ü	E
A	B	E	L	K	A	B	A	K	D
T	S	D	E	M	E	L	S	H	O
İ	I	S	P	A	N	A	K	F	M
B	İ	B	E	R	D	H	B	S	A
T	H	A	V	U	Ç	A	A	L	T
U	A	M	L	L	U	N	Y	Ö	E
R	Ö	Y	S	O	Ğ	A	N	C	S
P	S	A	Y	H	E	G	S	I	N

MARUL - LAHANA - HAVUÇ - SOĞAN
PIRASA - TURP - İSPANAK - DOMATES
BİBER - BAMYA - KABAK



VERİ TOPLAMA

1.Etkinlik: Tabloyu inceleyelim. Soruları tabloya göre cevaplayalım.

Arda'nın Oyuncakları Tablosu			
Oyuncaklar			
Sayısı	7	3	4

Arda'nın tane  var.

Arda'nın tane  var.

Arda'nın tane  var.

Arda'nın en fazla oyuncacı hangisidir?




Arda'nın en az oyuncacı hangisidir?

Arda'nın toplam kaç oyuncacı vardır?


Arabalar ayılardan kaç tane fazladır?



2.Etkinlik: Tabloyu inceleyelim. Soruları tabloya göre cevaplayalım.

Tabaktaki Meyveler Tablosu			
Meyveler			
Sayısı	3	8	6

Tabakta tane  var.

Tabakta tane  var.


Tabakta tane  var.

Tabakta en fazla hangi meyve var?

Tabakta en az hangi meyve var?

Tabakta toplam kaç meyve vardır?

Çilekler elmalardan kaç tane fazladır?



3.Etkinlik: Tabloyu inceleyelim. Soruları tabloya göre cevaplayalım.

Sınıfta Spor Kurslarına Giden Öğrenciler Tablosu			
Kurslar			
Sayısı	4	6	9

Sınıfta Tane  var.

Sınıfta tane  var.


Sınıfta tane  var.

Sınıfta en fazla öğrenci hangi kursa gidiyor?

Sınıfta en az öğrenci hangi kursa gidiyor?

Sınıfta toplam kaç öğrenci kursa gidiyor?

Futbol kursuna gidenler yüzme kursuna gidenlerden kaç tane fazladır?



VERİ TOPLAMA

1.Etkinlik: Tabloyu inceleyelim. Soruları tabloya göre cevaplayalım.

Fatma'nın Haftalık Beslenme Tablosu				
Pazartesi	Salı	Çarşamba	Perşembe	Cuma
börek ayran meyve	kek süt fındık	sandviç meyve suyu salatalık	börek süt meyve	poğaç ayran meyve

1. Hangi günlerde ayran var?

.....

2. Beslenmede perşembe günü neler var?

.....

3. Kaç gün meyve götürülmektedir?

.....

4. Meyvenin olmadığı günler hangileridir?

.....

5. Hangi günlerde börek var?

.....

2.Etkinlik: Tabloyu inceleyelim. Soruları tabloya göre cevaplayalım.

Nisan Ayı Hava Tahmin Tablosu							
	Pazartesi	Salı	Çarşamba	Perşembe	Cuma	Cumartesi	Pazar
1.Hafta	1	2	3	4	5	6	7
2.Hafta	8	9	10	11	12	13	14
3.Hafta	15	16	17	18	19	20	21
4.Hafta	22	23	24	25	26	27	28
5.Hafta	29	30					

güneşli

yağmurlu

bulutlu

1. En çok güneşli olan gün hangisidir ?

.....

2. En çok yağmurlu olan günler hangileridir ?

.....

3. En çok bulutlu olan hafta hangisidir ?

.....

4. En çok güneşli olan hafta hangisidir ?

.....

5. Nisan ayında kaç gün güneşli?

.....

6. 4. Hafta kaç gün bulutlu ?

.....

7. 1. Hafta hangi günler yağmurlu?

.....

8. Nisan ayında kaç gün bulutlu?

.....

9. Hiç güneşli olmayan gün hangisidir?




.....


10. Bulutlu olmayan günler hangileridir?

.....


VERİ TOPLAMA

1.Etkinlik: Tabloyu inceleyelim. Soruları tabloya göre cevaplayalım.

Bahçedeki Ağaçlar Tablosu			
Ağaçlar	 elma	 armut	 kayısı
Sayısı	12	4	7

Bahçede tane  var.

Bahçede tane  var.

Bahçede tane  var.

Bahçede en fazla hangi ağaç vardır?




Bahçede en az hangi ağaç vardır?

Bahçede toplam kaç ağaç vardır?

Elma ağaçları kayısı ağaçlarından kaç tane fazladır?



2.Etkinlik: Tabloyu inceleyelim. Soruları tabloya göre cevaplayalım.

Otobüsteki Yolcu Tablosu			
Yolcular	 bayan	 bay	 çocuk
Sayısı	7	13	3

Otobüste tane  var.

Otobüste tane  var.

Otobüste tane  var.

Otobüste en fazla hangi yolcu var?




Otobüste en az hangi yolcu var?

Otobüste toplam kaç yolcu var?

Bayanlar çocuklardan kaç tane fazladır?



3.Etkinlik: Tabloyu inceleyelim. Soruları tabloya göre cevaplayalım. (Önce boncukları boyayınız.)

Kutudaki Boncuk Tablosu			
Boncuklar	 sarı	 kırmızı	 mavi
Sayısı	3	5	12

Kutuda tane  var.

Kutuda tane  var.

Kutuda tane  var.

Kutuda en fazla hangi boncuk var?

Kutuda en az hangi boncuk var?




Kutuda toplam kaç boncuk var?

Mavi boncuklar kırmızı boncuklardan kaç fazladır?



VERİ TOPLAMA

1.Etkinlik: Tabloyu inceleyelim. Soruları tabloya göre cevaplayalım.

Gol Atan Çocukların Tablosu			
Çocuklar	 Semih	 Önder	 Barış
Gol Sayısı	5	3	8

Barış tane gol atmış.

Semih tane gol atmış.

Önder tane gol atmış.

En fazla golü kim atmış ?

.....

En az golü kim atmış ?

Üç çocuk toplam kaç gol atmış ?

Barış Semih'ten kaç tane fazla gol atmış ?



2.Etkinlik: Tabloyu inceleyelim. Soruları tabloya göre cevaplayalım.

Satılan Karpuz Tablosu							
Günler	Pazartesi	Salı	Çarşamba	Perşembe	Cuma	Cumartesi	Pazar
Sayısı	8	12	9	12	6	15	10

Çarşamba günü kaç tane karpuz satılmış ?


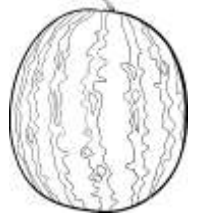
En az karpuz hangi gün satılmış ?

En fazla karpuz hangi gün satılmış ?

Hangi günler aynı miktarda karpuz satılmış ?

Cumartesi günü satılan karpuz çarşamba gününden kaç tane fazladır ?

Pazar ve pazartesi günü toplam kaç karpuz satılmış ?



3.Etkinlik: Tabloyu inceleyelim. Soruları tabloya göre cevaplayalım.

Kursa Katılanlar Tablosu						
Kurslar	Yüzme	Tenis	Basketbol	Futbol	Tekvando	Voleybol
Sayısı	12	7	9	18	6	7

En fazla öğrenci hangi kursa gitmektedir ?

En az öğrenci hangi kursa gitmektedir ?

Hangi kursları aynı sayıda öğrenci gitmektedir ?

Yüzme ve tekvandoya toplam kaç öğrenci gitmektedir ?

Basketbol ve tenise toplam kaç öğrenci gitmektedir ?

Futbola gidenlerin sayısı basketbola gidenlerden kaç fazladır ?







zmocni58

www.mebders.com

VERİ TOPLAMA

1.Etkinlik: Tabloyu inceleyelim. Soruları tabloya göre cevaplayalım.

Küresteki Hayvanlar Tablosu			
Hayvanlar			
Sayısı	3	12	5

Küreste tane  var.

Küreste tane  var.

Küreste tane  var.

Küreste en fazla hangi hayvan vardır?



Küreste en az hangi hayvan vardır?

Küreste toplam kaç hayvan vardır?

Tavuklar hindilerden kaç tane fazladır?



2.Etkinlik: Tabloyu inceleyelim. Soruları tabloya göre cevaplayalım.

Sebzelikteki Sebzeler Tablosu			
Sebzeler			
Sayısı	5	6	9

Sebzelikte tane  var.

Sebzelikte tane  var.


Sebzelikte tane  var.

Sebzelikte en fazla hangi sebze var?




Sebzelikte en az hangi sebze var?

Sebzelikte toplam kaç sebze var?

Domatesler salatalıktan kaç tane fazladır?



3.Etkinlik: Tabloyu inceleyelim. Soruları tabloya göre cevaplayalım.

Kitaplıktaki Kitaplar Tablosu			
Kitaplar			
Sayısı	7	2	10

Kitaplıkta tane  var.

Kitaplıkta tane  var.

Kitaplıkta tane  var.

Kitaplıkta en fazla hangi kitap var?

Kitaplıkta en az hangi kitap var?

Kitaplıkta toplam kaç kitap var?

Hikaye kitapları şiir kitaplarından kaç fazladır?



VERİ TOPLAMA

1.Etkinlik: Tabloyu inceleyelim. Soruları tabloya göre cevaplayalım.

Okulumuzda Haftalık Kurs Tablosu				
Pazartesi	Salı	Çarşamba	Perşembe	Cuma
Resim Satranç Futbol	Gitar Resim Halk Oy.	Futbol Zeka Oy. Satranç	Resim Halk Oy. Gitar	Zeka Oy. Resim Futbol

1. Zeka oyunları kursu hangi gün ?

2. Kaç gün futbol kursu var?

3. Halk oyunları kursu hangi günler?

4. Perşembe günü hangi kurslar var?

5. Resim kursu hangi gün yok?

2.Etkinlik: Tabloyu inceleyelim. Soruları tabloya göre cevaplayalım. Önce aynı isimleri aynı renge boyayalım

Nisan Ayı Doktor Nöbet Tablosu							
	Pazartesi	Salı	Çarşamba	Perşembe	Cuma	Cumartesi	Pazar
1.Hafta	1 Arda	2 Ece	3 Can	4 Naz	5 Ela	6 Efe	7 Can
2.Hafta	8 Naz	9 Can	10 Arda	11 Ece	12 Efe	13 Ela	14 Arda
3.Hafta	15 Ela	16 Can	17 Arda	18 Efe	19 Ece	20 Arda	21 Naz
4.Hafta	22 Naz	23 Can	24 Ela	25 Arda	26 Efe	27 Can	28 Arda

Arda Naz Ece Can Ela Efe

1. 18 Nisan günü kim nöbet tutmuştur ?

6. Arda, Ece'den kaç fazla nöbet tutmuştur ?

2. Can ilk nöbetini hangi gün tutmuştur ?

7. Arda hangi günler nöbet tutmamıştır ?

3. Cuma günleri kimler nöbet tutmuştur ?

8. 1. Hafta en çok kim nöbet tutmuştur?

4. En çok nöbeti kım tutmuştur? Kaç tane ?

9. Cuma günü en çok kim nöbet tutmuştur?

5. En az nöbeti kim tutmuştur? Kaç tane ?

10. Hafta sonu kim nöbet tutmamış ?