

Adı : .....  
Soyadı: .....


3. Sınıf  
Hayat Bilgisi

Doğada Hayat  
Doğada Yönümüzü Bulma



Kuzey, güney, doğu ve batı olmak üzere 4 tane ana yön vardır. Yönler yerimizi belirlemek, bir yer tarif etmek için gerekebilir. Yönümüzü bulmak için pusuladan faydalanırız. **Pusulanın** renkli (kırmızı) ibresi her zaman **kuzeyi** gösterir. Ancak pusulayı her zaman yanımızda taşıyamayız. Yönümüzü belirlemek için doğadan da yararlanabiliriz.

**Güneşe bakarak :** Güneş doğudan doğduğu için güneşin doğduğu yöne **doğu**, güneşin battığı yöne **batı** deriz. Sağ elimizi doğuya, sol elimizi batıya uzattığımız zaman önümüz **kuzey**, arkamız **güney** olur.



**Karınca yuvalarına bakarak :** Karıncalar yuvalarının güneş ışığı alması için yuvalarının ağızlarını güneye doğru açarlar. Güneyi bulduğumuzda diğer yönleri de bulmamız kolay olur.

**Ağaç yosunlarına bakarak :** Ağaçların, taşların, kayaların **kuzey** kısımlarında yosunlar büyür. Çünkü ağaçların kuzey tarafları güneş görmez. Yosunlar da güneşsiz gölgeli olan yerlerde büyür. Ağaçların yosun olmayan kuru tarafları da güneyi gösterir.



**Kutup Yıldızı'na bakarak :** Kutup yıldızı bulutsuz gecelerde gökyüzündeki en parlak yıldızlardan biridir. Kutup yıldızı her zaman **kuzeyi** gösterir. Önümüzü kuzeye döndüğümüzde arkamız güney olur.

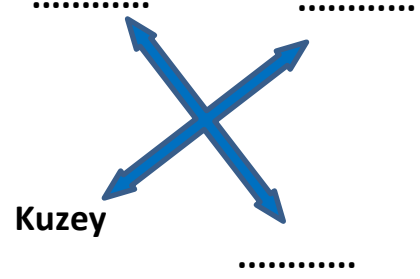
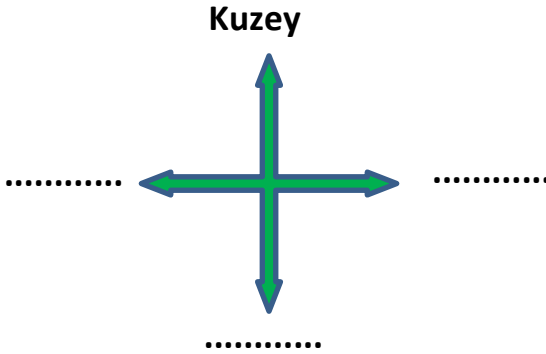
**Minare kapılarına bakarak :** Camilerin minare şerefe kapıları **güneyi** gösterir. Önümüzü güneye döndüğümüzde arkamız kuzey olur. Ayrıca mezarların mezar taşları batıyı gösterir.

Adı : .....  
Soyadı: .....

3. Sınıf  
Hayat Bilgisi

Doğada Hayat  
Doğada Yönümüzü Bulma

**Etkinlik-1** → Aşağıdaki görsele göre yönlerimizi yazınız.



**Etkinlik-2** → Doğada yön bulma yöntemlerini ve görsellerdeki yönleri yazınız.



Yöntem: .....

Nasıl Buluruz? .....

.....  
.....



Yöntem: .....

Nasıl Buluruz? .....

.....  
.....



Yöntem: .....

Nasıl Buluruz? .....

.....  
.....

Adı : .....  
Soyadı: .....

### 3. Sınıf Hayat Bilgisi

### Doğada Hayat Doğada Yönümüzü Bulma

**Etkinlik-3** → Türkiye haritasında şehirlerin yönlerine göre komşularını yazınız.



İller	Kuzeyinde	Güneyinde	Doğusunda	Batısında
Uşak				
Siirt				
Manisa				
Eskişehir				
Sivas				
Konya				
Ankara				
Gümüşhane				

Ülkemizin en kuzeyinde yer alan şehirler:.....

Ülkemizin en güneyinde yer alan şehirler:.....

Ülkemizin en doğusunda yer alan şehirler:.....

Ülkemizin en batısında yer alan şehirler:.....

Adı : .....  
Soyadı: .....

3. Sınıf  
Hayat Bilgisi

Doğada Hayat  
Doğada Yönümüzü Bulma

**Etkinlik-5** → **Doğru mu? Yanlış mı?**

- (....) Yönümüzü bulmak için sadece pusuladan yararlanırız.
- (....) Pusulanın renkli (kırmızı) ibresi her zaman kuzeyi gösterir.
- (....) Yönler yerimizi belirlemek, bir yer tarif etmek için gerekebilir.
- (....) Karıncalar güneş ışığını daha iyi almak için yuvalarının ağızlarını güneye doğru açar.
- (....) Geceleyin gökyüzünde gördüğümüz kutup yıldızı her zaman güneyi gösterir.
- (....) Güneş sabahleyin doğuda, akşamleyin batıda, öğle vaktinde güneyi gösterir.
- (....) Ağaçların güney kısımlarında çok fazla güneş aldığı için yosunlar büyür.
- (....) Doğada bir yönümüzü bulduğumuz zaman diğer yönleri de bulabiliriz.
- (....) Camilerin minare şerefe kapıları güneyi gösterir.
- (....) Mezarlara bakarak da yönümüzü bulabiliriz.

**Etkinlik-6** → **Boşluklara uygun kelimeleri yazalım.**

güneye	yön	ağaçların	doğu	kutup	pusula
sağ	doğadan	güneyi	sol	batıyı	kuzeyi

- 1- Yönümüzü belirlemek için pusuladan başka .....da faydalanırız.
- 2- Güneş doğudan doğduğu için güneşin doğduğu yöne .....deriz.
- 3- Sağ elimizi doğuya, sol elimizi batıya uzattığımız zaman önümüz ..... gösterir.
- 4- Karıncalar yuvalarının ağızlarını .....doğru açarlar.
- 5- Geceleyin yönümüzü bulmak için ..... yıldızından faydalanırız.
- 6- .....kuzey kısımları güneş görmediği için yosunlarla kaplanır.
- 7- Önümüzü doğuya dönersek arkamız .....gösterir.
- 8- Haritaların üst kısmı kuzeyi, alt kısmı .....tarafı gösterir.
- 9- Bir yerin başka bir yere göre konumuna .....deriz.
- 10- Yönümüzü bulmanın en kolay ve en doğru yöntemi .....kullanmaktır.

Adı : .....  
Soyadı: .....

### 3. Sınıf Hayat Bilgisi

### Doğada Hayat Doğada Yönümüzü Bulma



1 Yukarıdaki görselde pusulanın durumuna göre hangi bilgi doğrudur?

- A) Kırmızı ağaç kuzeyde yer alır.
- B) Yeşil ağaç batıda yer alır.
- C) Ev doğuda yer alır.

2 Denizciler yönlerini bulmak için gemilerin pusulasına bakarlar. Pusula bozulduğunda yönlerini bulmak için hangi yöntemleri kullanırlar?

- A) Dalgalar- Kutup yıldızı
- B) Deniz feneri - Güneş
- C) Kutup Yıldızı- Güneş

*Cami minarelerinin şerefe kapıları  
....., karınca yuvalarının ağzı  
..... yönünü gösterir.*

3 Yukarıdaki cümlede boş bırakılan yerlere sıra ile hangi yönler yazılmalıdır?

- A) doğu - kuzey
- B) güney - güney
- C) kuzey - batı

- I- Ağaç yosunları
- II- Güneş'in bulunduğu yer
- III- Deniz dalgalarının hareketleri
- IV- Rüzgârın esme şiddeti
- V-Mezar taşları

4 Yukarıda verilenlerden hangileri ile yönümüzü bulabiliriz?

- A) I - II - V
- B) II - III - V
- C) I - IV - V



5 Yukarıdaki haritaya göre Tunceli'den kalkan bir otobüs önce güneye doğru gider. Daha sonra doğuya doğru gider. Otobüs hangi şehre gitmektedir?

- A) Erzurum
- B) Batman
- C) Malatya

6 Tam öğle vaktinde sağ elini güneşe doğru uzatan bir çocuğun arkası hangi yönü gösterir?

- A) Batı
- B) Kuzey
- C) Doğu