

Adı :
Soyadı:

3. Sınıf Matematik

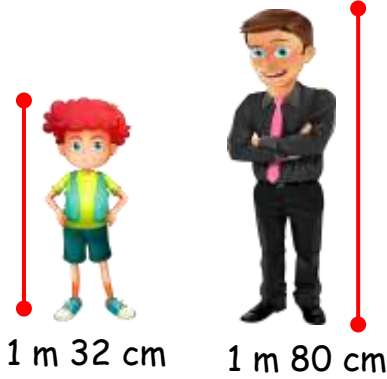
Uzunluk Ölçme Yaprak Test-2

1 Elif'in boyu 1 m 23 cm, Nehir'in boyu 94 cm'dir. Elif, Nehir'den kaç santimetre uzundur?

- (A) 17 cm (B) 29 cm (C) 26 cm

2 Boyu 4 m 85 cm olan bir ağaç her yıl 45 cm uzamaktadır. Buna göre bu ağacın 6 yıl sonra kaç cm olur?

- (A) 17 cm (B) 29 cm (C) 755 cm



3 Mert ile babasının boyları yukarıdaki görselde verilmiştir. Mert her yıl 8 cm uzadığına göre babasının boyuna kaç yıl sonra ulaşabilir?

- (A) 5 (B) 6 (C) 7



58 m



4 Hüseyin dikdörtgen şeklinde bir bahçenin etrafında 3 tur koştuğuna göre toplam kaç metre koşu yapmıştır?

- (A) 192 m (B) 576 m (C) 288 m

5 Ozan 5 m 78 cm uzunluğunda olan uçurtmasının ipine ek yaptı ve uçurtmasının ipinin uzunluğu 9 metre oldu. Ozan'ın eklediği ipin uzunluğu kaç santimetredir?

- (A) 312 cm (B) 332 cm (C) 322 cm

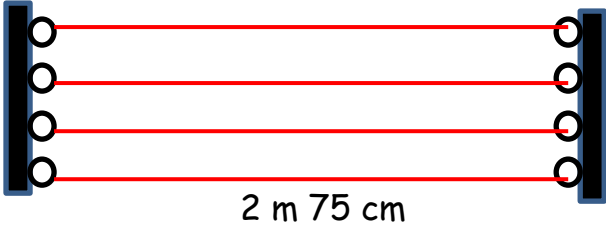
6 Sınıfımızın en uzun boyulu olan Eray'ın boyu 1 m 53 cm'dir. En kısa boyulu olan Ayberk'in boyu ise 129 cm'dir. Eray, Ayberk'ten ne kadar uzundur?

- (A) 32 cm (B) 24 cm (C) 28 cm

Adı :
Soyadı:

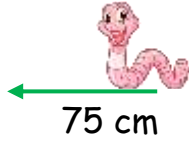
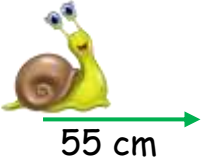
3. Sınıf Matematik

Uzunluk Ölçme Yaprak Test-2



7 Filiz hanım bakkaldan aldığı 12 metre çamaşır ipini yukarıdaki şekilde kullanmıştır. Geriye ne kadar çamaşır ipi kalmıştır?

- (A) 100 cm (B) 125 cm (C) 150 cm



8 Solucan saatte 75 cm, salyangoz ise saatte 55 cm yol gitmektedir. Başlangıçta ikisi arasındaki mesafe 8 metre olduğuna göre 5 saat sonra aralarındaki mesafe ne kadar olur?

- (A) 3 m 75 cm
(B) 2 m 75 cm
(C) 1 m 50 cm

9 Aşağıdaki uzunluklardan hangisini kilometre ile ölçebiliriz?

- (A) Bir akarsuyun uzunluğu
(B) Bir apartmanın yüksekliği
(C) Bir uçağın uzunluğu



10 Bir marangoz elindeki 10 metre tahta ile yukarıda verilen dikdörtgen şeklindeki çerçeveden 5 tane yapıyor. Geriye ne kadar tahtası kalmıştır?

- (A) 6 m 25 cm
(B) 5 m 75 cm
(C) 5 m 50 cm



11 Çetin havuzda yüzerken 20 kulaç atarak havuzun başından sonuna kadar ulaşıyor. Çetin her kulaç atışında 1 m 15 cm ilerliyor. Havuzun uzunluğu ne kadardır?

- (A) 23 m (B) 24 m (C) 25 m

12 Aşağıdaki eşitliklerden hangisi yanlış verilmiştir?

- (A) 309 cm = 3 m 9 cm
(B) 4 m 15 cm = 415 cm
(C) 508 cm = 5 m 80 cm

Adı :

Soyadı:

3. Sınıf
Matematik

Uzunluk Ölçme
Yaprak Test-2

Doğru :

Yanlış:

- 1 A B C
2 A B C
3 A B C
4 A B C
5 A B C
6 A B C

- 7 A B C
8 A B C
9 A B C
10 A B C
11 A B C
12 A B C