

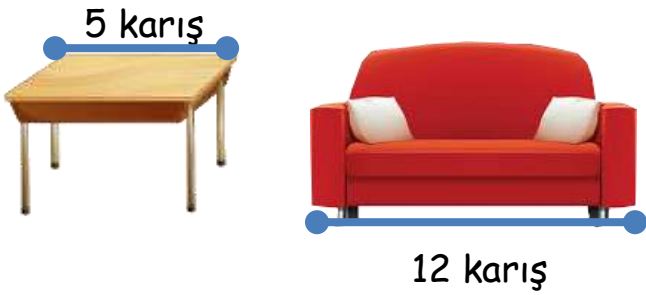
Adı :
Soyadı:

3. Sınıf Matematik

Uzunluk Ölçme Yaprak Test-3

1 Bir terzi 8 metrelik kumaştan elbise dikilince geriye 135 cm kumaş arttı. Elbise için ne kadar kumaş kullanılmıştır?

- (A) 585 cm (B) 745 cm (C) 665 cm



2 Aslı masanın boyunu 5 karış, koltuğun boyunu 12 karış ölçmüştür. Masanın boyu 65 cm olduğuna göre koltuğun boyu ne kadardır?


- (A) 156 cm (B) 165 cm (C) 148 cm

1 m 12 cm 96 cm 57 cm 36 cm

3 Yukarıdaki şeritlerin uzunlukları içinde yazılmıştır. Aşağıda verilen şeritler birleştirildiğinde hangisi gerçekte daha uzundur?

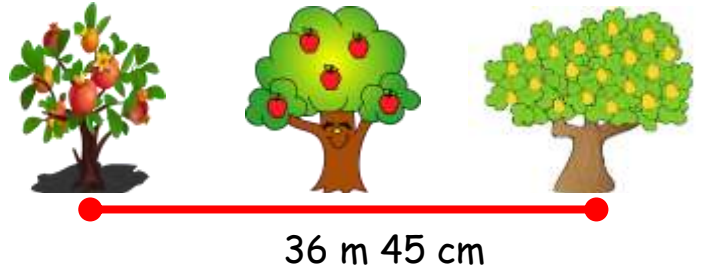


35 m



4 Berkay kare şeklindeki bir spor salonun etrafında 5 tur koşu yapmıştır. 1 km koşması için kaç metre daha koşu yapmalıdır?

- (A) 350 m (B) 300 m (C) 250 m



5 Yukarıdaki görsele göre elma ağacı ile portakal ağacı arasındaki mesafe 12 m 85 cm'dir. Nar ağacı ile elma ağacı arasındaki mesafe ne kadardır?

- (A) 23 m 60 cm
(B) 25 m 70 cm
(C) 49 m 30 cm

6 Aşağıdaki bilgilerden hangisi doğrudur?

- (A) 300 cm, 5 metreden daha uzundur.
(B) 2 km, 5 m'den daha uzundur.
(C) 100 metre, 1 km'dir.

Adı :
Soyadı:

3. Sınıf Matematik

Uzunluk Ölçme Yaprak Test-3



7 Yukarıdaki A tünelin yüksekliği 435 cm, B tünelinin yüksekliği A tünelinin yüksekliğinden 12 cm uzundur. Aşağıdaki taşıtlardan hangisi bu tünelden **geçemez?**



8 Melih'in boyu annesinden 65 cm kısadır. Melih'in babası ise annesinden 16 cm uzundur. Babasının boyu 185 cm olduğuna göre Melih'in boyu ne kadardır?

- A 1 m 4 cm
B 1 m 14 cm
C 1 m 40 cm



- * Her vagonun uzunluğu 4 m 35 cm'dir.
* En öndeki lokomotifin uzunluğu bir vagonun uzunluğundan 1 m 50 cm uzundur.
* Her vagonun arsında 50 cm boşluk vardır.

9 Verilen bilgilere göre trenin uzunluğu ne kadardır?

- A 25 m 25 cm
B 24 m 75 cm
C 23 m 25 cm

$$65 \text{ cm} + \mathbf{A} + 1 \text{ m } 5 \text{ cm} = 3 \text{ m}$$

10 Yukarıdaki eşitliği sağlamak için A yerine hangisi yazılmalıdır?

- A 130 cm B 170 cm C 120 cm

11 Hande'nin 3 adımı 126 cm gelmektedir. Hande sınıftan kantine giderken 38 adım atmıştır. Kantin ile sınıfımız arası ne kadardır?

- A 16 m 50 cm
B 14 m 48 cm
C 15 m 96 cm

Adı :

Soyadı:

3. Sınıf
Matematik

Uzunluk Ölçme
Yaprak Test-3

Doğru :

Yanlış:

- 1 A B C
2 A B C
3 A B C
4 A B C
5 A B C
6 A B C

- 7 A B C
8 A B C
9 A B C
10 A B C
11 A B C
12 A B C