

Adı : .....  
Soyadı: .....

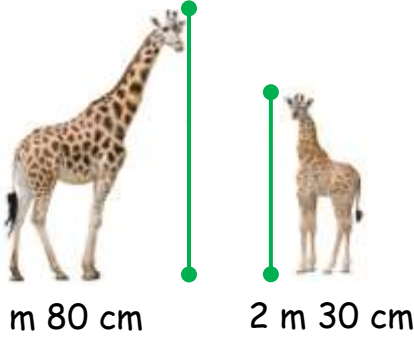
### 3. Sınıf Matematik

### Uzunluk Ölçme Yaprak Test-4



1 Salgın nedeniyle öğrenciler aralarında 150 cm sosyal mesafe bırakarak sıra olurlar. Sınıfta toplam 25 öğrenci olduğuna göre ilk ve son öğrenci arasındaki uzaklık ne kadardır?

- (A) 37 m 50 cm  
(B) 35 m 80 cm  
(C) 36 m 00 cm



2 Yavru zürafa her yıl 59 cm uzamaktadır. 5 yıl sonra yavru zürafa ile anne zürafa arasındaki fark ne kadardır?

- (A) 40 cm (B) 55 cm (C) 65 cm

3 Aşağıda verilen çevirmelerden hangisi **yanlıştır**?

- (A) 5 m 48 cm = 548 cm  
(B) 625 cm = 62 m 5 cm  
(C) 205 cm = 2 m 5 cm

Isparta	118 km
Ankara	481 km
İstanbul	915 km

Yukarıdaki tabela Antalya ile diğer şehirler arasındaki uzaklığı göstermektedir.

4 Antalya'dan İstanbul'a gitmek isteyen biri Isparta'da mola verdi. Moladan sonra İstanbul'a varması için kaç km yol gitmesi gerekir?

- (A) 599 km (B) 434 km (C) 797 km



Ağrı Dağı  
6 km 137 m



Everest Dağı  
8 km 848 m

5 Dünyanın en yüksek dağı olan Everest Dağı ülkemizin en yüksek dağı olan Ağrı Dağı'ndan ne kadar yüksektir?

- (A) 2 km 699 m  
(B) 3 km 648 m  
(C) 2 km 711 m

Adı : .....  
Soyadı: .....

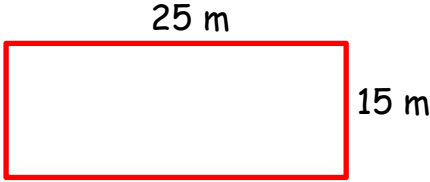
### 3. Sınıf Matematik

### Uzunluk Ölçme Yaprak Test-4

$$65 \text{ cm} + A = 2 \text{ m}$$
$$125 \text{ cm} + B = 3 \text{ m}$$

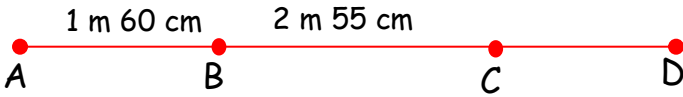
6 Yukarıdaki eşitliği sağladığımızda  $A + B$  işleminin sonucu hangisidir?

- (A) 3 m 10 cm  
(B) 2 m 90 cm  
(C) 3 m 20 cm



7 Öğretmenimiz yukarıdaki dikdörtgen şeklindeki voleybol sahasının etrafında erkeklerin 5 tur, kızların 3 tur koşmasını istedi. Erkekler kızlardan ne kadar fazla koşmuştur?

- (A) 160 m (B) 80 m (C) 200 m



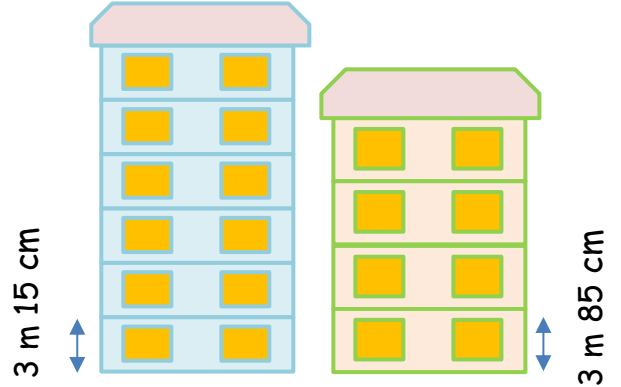
8 Yukarıdaki şekilde A ile D noktası arası 6 m olduğuna göre C ile D noktaları arası ne kadardır?

- (A) 4 m 15 cm  
(B) 2 m 50 cm  
(C) 1 m 85 cm



9 Yukarıdaki görselle en baştaki ve en sondaki ağacın arası 12 metre gelmektedir. Aralarındaki boşluk eşit olduğuna göre elma ile portakal ağacı arasındaki mesafe ne kadardır?

- (A) 7 m (B) 8 m (C) 6 m



10 Yukarıdaki görselle apartmanların katları ve her katının yüksekliği gösterilmiştir. İki apartmanın yüksekliği arasındaki fark ne kadardır?

- (A) 3 m 60 cm  
(B) 3 m 80 cm  
(C) 3 m 50 cm

Adı : .....

Soyadı: .....

3. Sınıf  
Matematik

Uzunluk Ölçme  
Yaprak Test-4

Doğru : .....

Yanlış: .....

- 1  A  B  C  
2  A  B  C  
3  A  B  C  
4  A  B  C  
5  A  B  C  
6  A  B  C

- 7  A  B  C  
8  A  B  C  
9  A  B  C  
10  A  B  C  
11  A  B  C  
12  A  B  C